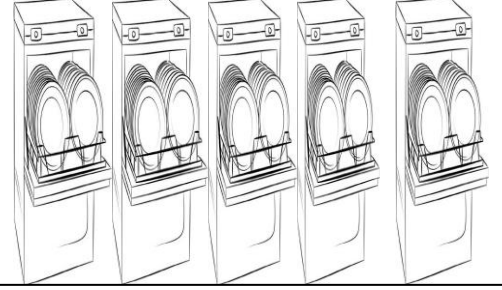


## GRUPLANDIRMA VE PAYLAŖTIRMA ALIŖMAMIZ


**SORU:** 35 tane tabađı 5 bulaŖık makinesine eŖit olarak paylaŖtırsak her bulaŖık makinesine ka adet tabak dűŖer?

Tabakları bu kutucuđa iziniz



..... tane tabađı ..... tane bulaŖık makinesine eŖit olarak paylaŖtırdım. Her bulaŖık makinesine ..... tane tabak dűŖtű.


**SORU:** AŖađıdaki filleri 4'erli gruplandırınız.



..... tane fili ..... 'erli gruplandırınca ..... tane grup oluŖtu.

**SORU:** 18 tane kutuyu 3 tane kamyonu eŖit olarak dađıtırsak her kamyonu ka adet kutu dűŖer?

Kutuları bu kutucuđa iziniz




..... tane kutuyu ..... tane kamyonu eŖit olarak paylaŖtırdım. Her kamyonu ..... tane kutu dűŖtű.

**SORU:** AŖađıdaki kutucuđa 12 tane top iziniz. Daha sonra izdiđiniz topları 2 Ŗerli gruplandırınız.

Topları bu kutucuđa iziniz


..... tane topu..... Ŗerli gruplandırınca ..... tane grup oluŖtu.

**SORU:** 18 tane elbiseyi 2 dolaba eşit olarak paylaşırsak her dolaba kaç adet elbise düşer?



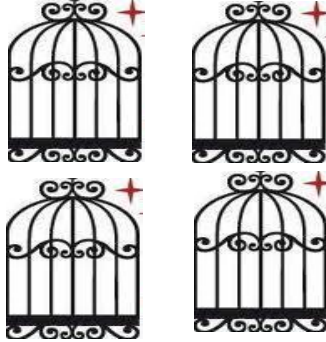

..... tane elbiseyi ..... tane dolaba eşit olarak paylaştırdım. Her dolaba ..... tane elbise düştü.

**SORU:** Aşağıdaki saatleri 5'erli gruplandırınız.



..... tane saati  
..... 'erli gruplandırınca  
..... tane grup oluştu.

**SORU:** 8 tane papağanı 4 kafese eşit olarak dağıtırsak her kafese kaç tane papağan düşer?



..... tane papağanı ..... tane  
kafese eşit olarak paylaştırdım.  
Her kafese ..... tane papağan  
düştü.

**SORU:** Aşağıdaki gemileri 1'erli olarak gruplandırınız.



..... tane gemiyi ..... 'erli gruplandırınca .....  
tane grup oluştu.

**SORU:** Aşağıya 21 adet bulut çiziniz. Bulutları 3 'erli olarak gruplandırınız.

Bulutları bu kutucuğa çiziniz

..... tane bulutu ..... 'erli  
gruplandırınca ..... tane grup  
oluşturdu.