



1. Sıranın üzerindeki kalem sayısını gösteren işlem hangisidir?

- A) $2 + 3 = 5$
B) $1 + 4 = 5$
C) $4 + 1 = 5$





2. Annem vazoya 6 tane , 7 tane  koydu. Vazoda kaç çiçek oldu?

- A) 11 B) 12 C) 13

3. Aşağıdaki işlemlerden hangisinin sonucu daha büyüktür?

- A) $7 + 6 = ?$ B) $9 + 5 = ?$ C) $8 + 5 = ?$

4. Bir  'te 8 bayan, 4 erkek yolcu var. Bu  'te kaç yolcu vardır?

- A) 12 B) 13 C) 14

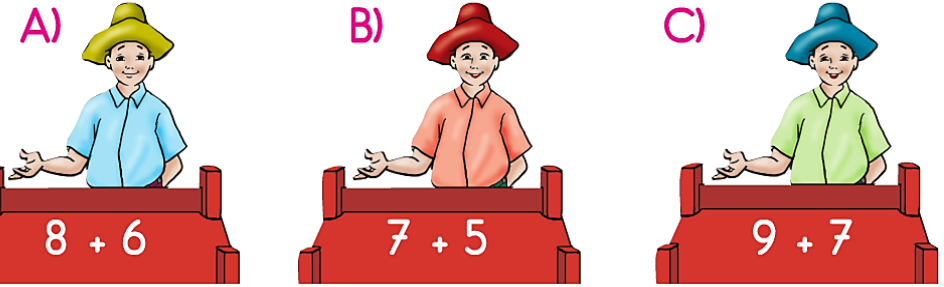
5. Aşağıdakilerden hangisinin sonucu farklıdır?

- A) $8 + 8 = ?$
B) $8 + 7 = ?$
C) $7 + 9 = ?$

6. Arda'nın 6 mavi, 5 sarı misketi var. Arda'nın kaç misketi vardır?

- A) 10 B) 11 C) 12

7. Hangi balıkçı daha çok balık tutmuştur?



8. Ahu'nun 8 öykü kitabı, 6 masal kitabı var. Ahu'nun kaç kitabı vardır?

- A) 12 B) 13 C) 14

9. Bizim apartmanda 5 kız, 8 erkek çocuk var. Apartmanımızda kaç çocuk vardır?

- A) 13 B) 14 C) 15

10. Dayımlar Kıbrıs'ta 1 hafta 5 gün tatil yaptılar. Dayımlar Kıbrıs'ta kaç gün kaldı?

- A) 12 B) 13 C) 15

1. Aşağıdaki işlemlerin hangisinin sonucu en küçüktür?

A) $7 + 6 = ?$

B) $8 + 4 = ?$

C) $7 + 7 = ?$

2. Ali'nin 9 öykü, 7 masal kitabı var. Ali'nin kaç kitabı vardır?

A) 14

B) 15

C) 16

3. Selma'nın bir deste boya kalem, 5 tane kurşun kalem var. Selma'nın kaç kalem vardır?

A) 15

B) 14

C) 13

4. Hangisinin sonucu farklıdır?

A) $9 + 4 = ?$

B) $7 + 7 = ?$

C) $8 + 5 = ?$

5. Oya 8, kardeşi 6 yaşındadır. İki kardeşin yaşlarının toplamı kaçtır?

A) 12

B) 13

C) 14



Aşağıdaki soruları tabloda verilenlere göre yanıtlayınız.

6. Ali şapka ile topa kaç lira ödeyecektir?

A) 13

B) 14

C) 15

7. Ayla resim defteri ile sulu boyaya kaç lira ödeyecektir?

A) 9

B) 10

C) 11

8. Alper top ile tişörtte kaç lira ödeyecektir?

A) 13

B) 14

C) 15

9. Arzu resim defteri ile şapkaya kaç lira ödeyecektir?

A) 11

B) 12

C) 13

10. Ahu tişört ile şapkaya kaç lira ödeyecektir?

A) 17

B) 16



C) 15

1. Aşağıdaki işlemlerden hangisinin sonucu farklıdır?



A) $8 + 8 = ?$

B) $9 + 7 = ?$

C) $8 + 7 = ?$

2. Benim 5 tane , 7 tane  var. Benim kaç tane bilyem vardır?

A) 12 B) 13 C) 14

3. Bir  'te 9 erkek, 7 bayan yolcu var. Bu  'te kaç yolcu vardır?

A) 15 B) 16 C) 17

4. Aşağıdaki işlemlerden hangisi doğrudur?

A) $6 + 5 = 11$

B) $6 + 7 = 14$

C) $7 + 7 = 15$

5. Bir vazoda 9 tane  ve 8 tane  var. Bu vazoda kaç çiçek vardır?

A) 15 B) 16 C) 17

6. Ahu ablasından 6 yaş küçüktür. Ahu 8 yaşındadır. Ablası kaç yaşındadır?

A) 13 B) 14 C) 15



Aşağıdaki soruları tabloda verilenlere göre yanıtlayınız.

7. Bir defter ve bir kitap alan Bora, kaç lira ödeyecektir?


A) 13 B) 14 C) 15

8. Boya kalemi,  ve kitap alan Betül kaç lira ödeyecektir?

A) 17 B) 18 C) 19


9. Kitap ve  alan Ece kaç lira ödeyecektir?


A) 16 B) 17 C) 18


10. Defter, boya kalemi ve  olan Burcu kaç lira ödeyecektir.

A) 13 B) 14 C) 15

1. Aşağıdaki işlemlerden hangisinin sonucu **farklıdır**?

A) 
$$\begin{array}{r} 8 \\ + 7 \\ \hline \cdot \cdot \end{array}$$

B) 
$$\begin{array}{r} 9 \\ + 6 \\ \hline \cdot \cdot \end{array}$$

C) 
$$\begin{array}{r} 8 \\ 3 \\ + 2 \\ \hline \cdot \cdot \end{array}$$

2. Burcu Beril'den 3 yaş büyüktür. Beril 8 yaşındadır. Burcu kaç yaşındadır?

- A) 10 B) 11 C) 12


3. Bir bahçede 8 tane elma , 9 tane armut  var. Bu bahçede kaç ağaç vardır?

- A) 15 B) 16 C) 17


4. Bir kutuda 7 boya kalem, 6 kurşun kalem var. Bu kutuda kaç kalem var?

- A) 13 B) 14 C) 15


5. Hangi balıkçı daha çok balık tutmuştur?


A) 
$$8 + 2 + 8$$


B) 
$$7 + 3 + 4$$

C) 
$$6 + 4 + 5$$

6. Kimin yaptığı işlem doğru **değildir**?

A) 
$$\begin{array}{r} 6 \\ + 5 \\ \hline 11 \end{array}$$

B) 
$$\begin{array}{r} 8 \\ 2 \\ + 4 \\ \hline 15 \end{array}$$




C) 
$$\begin{array}{r} 7 \\ 5 \\ + 3 \\ \hline 15 \end{array}$$




Her renkli şekil bir rakamı göstermektedir. Aşağıdaki soruları buna göre yanıtlayınız.

7.  +  +  = Kaçtır?




- A) 15 B) 16 C) 17

8.  +  +  = Kaçtır?

- A) 18 B) 17 C) 16

9.  +  +  = Kaçtır?

- A) 19 B) 18 C) 17

10.  +  +  = Kaçtır?

- A) 19 B) 18 C) 17