

**MATEMATİK SINAVI**

1.Aşağıdaki sayıların okunuşlarını yazınız.

345: ..... XIX: .....

409: ..... XIV: .....

2.Aşağıdaki sayıları rakamla yazınız.

Beş yüz elli yedi: .....

Yedi yüz bir : .....

3.Aşağıdaki sayıları **Romen** rakamıyla yazınız.

Yedi : .....

On iki: .....

4.Aşağıdaki sayıları en yakın onluğa yuvarlayınız.

32 → 46 → 24 → 65 → 99 →

5.Aşağıdaki sayıları **sembol** kullanarak **büyükten-küçüğe** doğru sıralayınız.

56 – 13 – 89 – 125 – 9 – 240 – 90 – 32

6.Aşağıdaki sayıları çözümleyiniz.

249=.....

603=.....

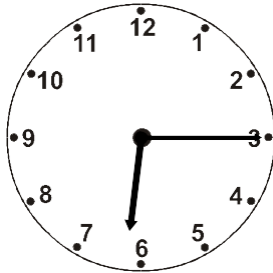
7.Aşağıdaki sayı örüntülerinde boş bırakılan (noktalı) yerlere uygun sayıları yazınız.

24 – 22 – 20 – ..... – 16 – ..... – 12 – 10 – ..... – 6


12 – 15 – ..... – 21 – 24 – ..... – 30 – ..... – 36 – 39

8.Aşağıdaki saatlerin okunuşlarını yazınız.

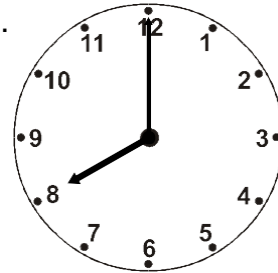
I.




II.




III.




9.Aşağıdaki toplama ve çıkarma işlemleriyle parantezli işlemleri yapınız.

324 425 + 142 = ..... 45 + 32 + 14 = ..... 645 – 219 =..... 532

290 + 153 (8+6) – (3+2) = ..... (9-3) + (8-6) = ..... -329

.....

10.Sınıf kitaplığımızda geçen yıldan kalma **154** kitap vardı. Bu yıl **128** kitap daha aldık. Sınıf kitaplığımızda kaç kitap oldu?**Çözüm:**11.Marketten **175** liralık alışveriş yapan babam, kasiyere **200** lira verdi. Geriye kaç lira almıştır?**Çözüm:**12.Kerem saat **07.20'**de evden çıkmış ve saat **08:40'ta** okula ulaşmıştır. Yolda kaç saat, kaç dakika geçirmiştir?**Çözüm:**