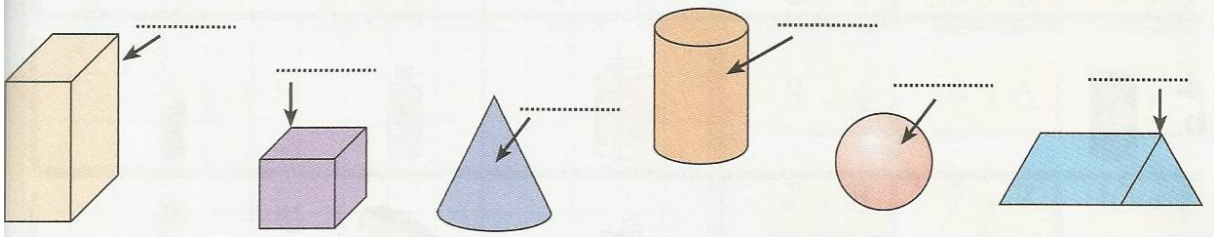


Adı Soyadı : Sınıfı :

Okul No :

1. Aşağıda verilen geometrik cisimlerin oklarla gösterilen yerlerinin isimlerini yazınız.

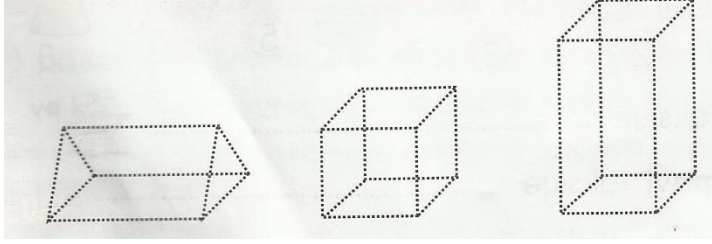


2. Aşağıda verilen geometrik cisimlerin köşe,ayrıt ve yüzlerini yönergeye göre boyayınız.

Ayrıtları : kırmızı

Yüzleri : mavi

Köşeleri : yeşil

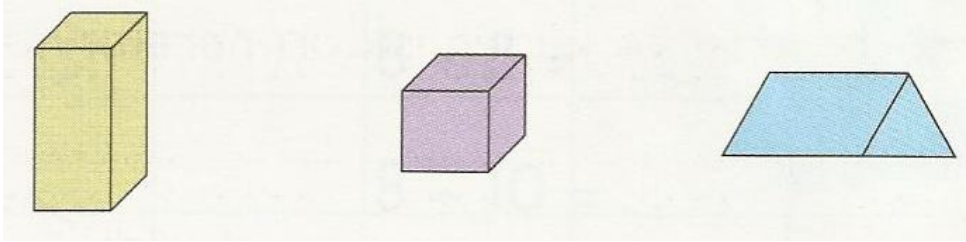


3. Geometrik cisimleri köşe,yüz ve ayrıt sayılarına göre ok işaretiyle eşleştiriniz.

6 yüz

12 ayrıt

8 köşe

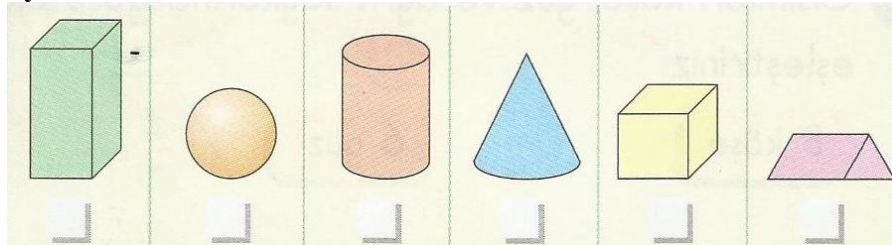


5 yüz

6 köşe


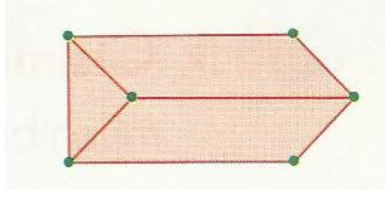
9 ayrıt

4. Köşe ayrıtı olan geometrik cisimleri işaretleyiniz. Kaç tane köşesi, yüzü ve ayrıtı olduklarını altlarına yazınız.



Ayrıt sayısı						
Köşe sayısı						
Yüz sayısı						

5. Ceren, kibrit çöpleri ve oyun hamurlarıyla aşağıdaki üçgen prizmayı yaptı. Eğer Ceren üçgen prizmasını bozup , aşağıdaki dikdörtgenler prizmasını yapmak isteseydi kaç kibrit çöpü daha eklemelidir?



Cevap : Kibrit çöpü eklemelidir.
Neden :

.....
.....

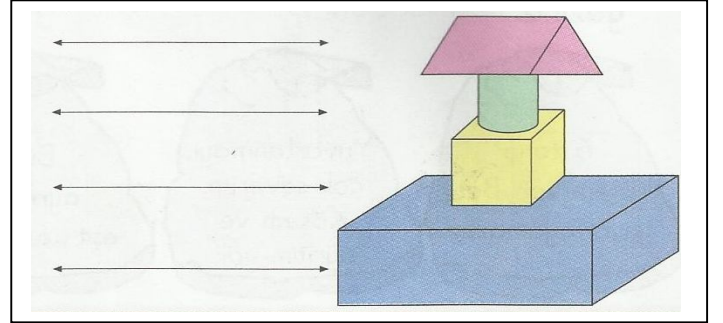
6. Aşağıdaki resme göre her bir prizmanın bir özelliği yanında verilmiştir. Hangisi yanlıştır? Doğru olanlara D, yanlış olanlara Y yazınız.

6 köşem, 5 yüzüm, dokuz ayrıtı var. ()


Köşem ve ayrıtı yok.Üç yüzüm var. ()

8 köşem, 6 yüzüm, 12 ayrıtı var. ()

6 köşem, 5 yüzüm, 9 ayrıtı var. ()



7. Aşağıdaki küpün yüzünde, ayrıtında ve köşesinde olan hayvanları yazalım.
(salyangoz,tırtıl, kelebek,uğur böceği, yılan,kelebek)

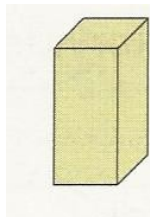


Yüzünde :

Ayrıtında :

Köşesinde :

8. Elif Naz'ın yaptığı geometrik cisimler aşağıda verilmiştir. Cisimlerin ayrıtı sayısına göre çoktan aza doğru isimlerini yazınız.



1.

2.

3.