



T

M

M

T

M

H

M

T

T



H

H

M



M

H

T

H

T

H



OYUNUN KURALLARI

1) Oyun en az 2 kiři ile oynanır. 3,4,5 kiři ile de oynanabilir. Oyuncular ilk önce pullarını seęer.

2) Oyuncular oyuna başlamak için zar atar. En büyük sayıyı atan oyuna başlar. Sıralama en büyük sayıyı atandan en küçük sayıyı atana doğrudur.

Oyun sağdan sola doğru ilerler.

3) İlk olarak herkes Hayat Bilgisi sorusunu bilmek zorundadır. Oyuna başlayan oyuncu Hayat Bilgisi sorusunu doğru bilmeden ilerleyemez.

4) Sorusunu bilen oyuncu zar atar, attığı zar kadar ilerler. Geldiğı çemberde hangi dersin baş harfi var ise o dersten bir kart çeker ve soruyu cevaplar. Soruyu bilir ise zar atarak ilerleme hakkı kazanır.

5) Her oyuncu için ilerleme kuralı: Soruyu bil – zar at – zar sayısı kadar ilerle – geldiğın çemberdeki dersin sorusunu bil – zar at- zar sayısı kadar ilerle şeklindedir.

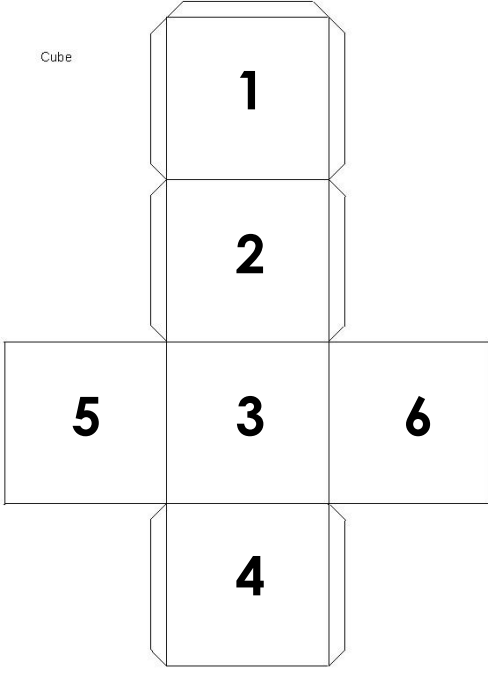
6) Her oyuncu soruyu bilince bir ilerleme hakkı elde eder. Yeni geldiğı çemberde ilerleyemez, soru cevaplama dan bekler. Sıra diğerk arkadaşına geçer. Sırası geldiğinde bu dersin sorusunu cevaplar ve bilirse ilerler, bilemezse ilerleyemez.

7) Oyuncu geldiğı noktada soruya doğru cevap veremezse bekler. Sıra kendisine geldiğinde aynı dersten kart çekip cevabı verir. Doğru bilirse zar atıp ilerleme hakkı kazanır. Yine bilemezse o dersten gelen soruyu doğru cevaplayana kadar o noktada kalır.


8) Yıldızla ilk ulaşan kiři oyunun birincisi olur. Diğerkleri de yıldızla ulaşana kadar oyun devam eder.

9) Bazı sorularda tuzak vardır. Bilemezsen en başa dönersin.

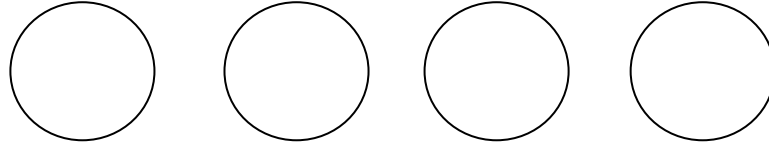
Cube



**Zarı bununla yapabilirsin.
Gerçek zar olursa daha
hoş olur.**



İstersen renkli çıktı al. İstersen alttaki pulları boy.
Bu sayfayı ve oyun zeminini fon kartonuna ya da
fotoğraf kağıdına çıktı alırsan daha sağlam olur.



Okula hazırlıklı gitmek için çantamı ne zaman hazırlamalıyım?	Farklı özelliklere saygı göstermeliyim. Doğru mu? Yanlış mı? (Bilemezsen en başa dön.)	Yardımsever ve dürüst kişileri arkadaş olarak seçmeliyim. Doğru mu? Yanlış mı? (Bilemezsen en başa dön.)	Konuşurken arkadaşlarımla teması kurmalıyım. İp ucu : Duyu organlarımızdan birisi.	Hangi öğrenci doğru söylüyor? Ali : Okula hazırlıklı gelirim başarılı olurum. Esra : Okula tüm ders araçlarını taşıyım. Efe : Okula kahvaltı yapmadan gelirim daha iyi öğrenirim.	Öfkemizi kontrol etmek için kaç tanesini yapmalıyız? -Bağırarak. -Derin derin nefes almak -İçinden ona kadar saymak. -Bulunduğun ortamdan uzaklaşmak.
Hangi öğrenci duyarlıdır? Ali : Gözlüklü öğrenciler arka sıralarda otursun. Naz : Arkadaşım kalemimi evde unutmuş. Ona yedek kalemimi vereyim. Can : Yere attığım kağıdı rüzgar uçurur, bir şey olmaz.	Sınıf başkanını, milletvekillerini, belediye başkanını, muhtarı nasıl seçeriz?	Ayakkabısı çamur olan Erdi her gün sınıfı kirletiyordu. Bu sorunu nasıl çözersin? 3 çözüm yolu üret. İlerleyebilmek için cevap anahtarındaki çözümlerden en az birini bilmelisin.	Sınıfımız Güneş'in battığı yöndedir. Sınıfımız hangi yöndedir?	Okulumuzun geçmişi hakkında hangilerinden bilgi alabiliriz? -Okul müdürü -1.sınıf öğrencisi -Okulu boyayan işçi -Okulda uzun zamandır çalışan öğretmen	Kazanmanın zıttıdır ve kazanmak kadar doğaldır. Bu nedir?
Hangileri okul veya sınıf eşyasıdır? -Karatahta -Kalemligimdeki kalem -Sıra - Beslenme çantam	Kişisel bakım yaparken hangi kaynakları kullanırsınız? Cevap anahtarındaki kaynaklardan en az birini bil.	Kişisel bakım yaparken kaynakları kullanmalıyız. Boşluğu doldur.	Dengeli beslenen kim? Yeterli beslenen kim? Ayşe : Her besinden yeteri kadar yerim. Elif : Günde 3 kez beslenmeye dikkat ederim.	Sağlıklı beslenmek için hangilerini tercih edersin? Elma Peynir Hamburger Süt Pamuk şeker Kola	Kimin davranışı doğrudur? Ahmet : Açıkta satılan yiyecekleri alırım. Murat : Tenefüste sınıfımı havalandırırım. Yusuf : Kokulu yapıştırıcı kllanırım.

HAYAT BİLGİSİ SORULARI

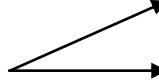
-Derin derin nefes almak -İçinden ona kadar saymak. -Bulunduğun ortamdan uzaklaşmak.	Ali	Göz	Doğru	Doğru	Akşam ya da gece yatmadan önce
Kaybetmek	-Okul müdürü -Okulda uzun zamandır çalışan öğretmen?	Batı	-Ayakkabısını okulun önündeki paspasa veya demire silsin. -Ayakkabılarını temizlesin. -Kirlettiği yerleri süpürsün. -Çamurlara basmamaya dikkat etsin.	Seçimle	Naz
Murat	Elma Peynir Süt	Dengeli beslenen Elif. Yeterli beslenen Ayşe.	Tutumlu	Su Elektrik Doğalgaz	-Karatahta -Sıra

HAYAT BİLGİSİ CEVAPLARI. SORULARIN ARKASINA ÇIKTI AL.

<p>Muallimin eş anlamlısı nedir?</p> <p><u>(Bilemezsen en başa dön.)</u></p>	<p>Nezaket bildiren kelimelerden 3 tanesini söyle.</p> <p><u>İlerleyebilmek için cevap anahtarındaki cevalardan en az birini bilmelisin.</u></p>	<p>Yaz, yol, tuz kelimeleriyle 3 tane kelime türet.</p>	<p>Yapraklar sarardı, dökülüyor.</p> <p>Yaprak kelimesi hangi cümlede yukarıdaki anlamıyla kullanılmıştır?</p> <p>-Kitabın yaprakları yırtılmış.</p> <p>-Elma, yaprağın altındaymış göremedim.</p>	<p>Hangi cümle abartılı bir cümledir?</p> <p>-O kadar çok yedim ki karnım patladı.</p> <p>-Canım annem mutluluktan ağlıyordu.</p>	<p>Aşağıdaki cümledeki anlatım yanlışını söyle.</p> <p>Çöle o kadar çok yağmur yağdı ki kaktüsler sele kapıldı.</p>
<p>Pikniğe gidemedik yağmur yağmaya başladı.</p> <p>Boşluğa hangi kelime gelmelidir?</p>	<p>Milli Eğitim Bakanlığı, ülkemizde eğitim-öğretim işlerinin yürütülmesini sağlar.</p> <p>Yukarıdaki kelime ya da kelimelerden hangisi kısaltılarak yazılabilir?</p>	<p>Ay isimlerinden eş sesli olanlarından bir tanesini söyle.</p>	<p>Aaaa, babam gelmiş ()</p> <p>Cümlesinde parantez içine hangi noktalama işareti gelmelidir?</p> <p><u>(Bilemezsen en başa dön.)</u></p>	<p>Kadir, Ayşenin kalemini teşekkür edip geri verdi.</p> <p>Cümlesinde hangi kelime ya da kelimelerin yazımında yanlış vardır?</p>	<p>Mavi kalemlikten bir kalem aldım, kalem tozlu gibiydi.</p> <p>Yukarıdaki cümlede hangi kelimeler türetilmiştir?</p>
<p>Annem pazardan elma() ayva () kestane ve nar almış.</p> <p>Yukarıdaki cümlede hangi noktalama işaretleri kullanılmalıdır?</p>	<p>Aşağıdaki kelimelerden hangisi hem eşsesli hem de zıt anlamlıdır?</p> <p>Ak Siyah Kırmızı</p>	<p>Hangi cümle duygu bildirmektedir?</p> <p>-Babam dev gibi bir balık yakaladı.</p> <p>-Balığı yakalayan oltasını ikinci kez göle attı.</p> <p>-Erdem arkadaşı Ali'yi kıskandı.</p>	<p>Çay Çanak Çatal</p> <p>Yukarıdaki 3 kelimeyi sözlük sırasına göre ilk sözcükten son sözcüğe doğru sırala.</p>	<p>Kestane Kesim Keski</p> <p>Yukarıdaki 3 kelimeyi sözlük sırasına göre ilk sözcükten son sözcüğe doğru sırala.</p>	<p>Baca Bacı Abajur</p> <p>Yukarıdaki 3 kelimeyi sözlük sırasına göre ilk sözcükten son sözcüğe doğru sırala.</p>

Çöle yağmur yağmaz.	-O kadar çok yedim ki karnım patladı.	-Elma, yaprağın altındaymış göremedim.	Yolluk,yolcu,yolculuk Yazlık Tuz,tuzcu,tuzsuz,tuzlu, tuzluk	Lütfen Teşekkür ederim Rica ederim Özür dilerim	Öğretmen
Kalemlik Tozlu	Ayşenin (Ayşe'nin) teşekkür (teşekkür)	! (ünlem)	Ocak Aralık	Milli Eğitim Bakanlığı (MEB)	çünkü
Abajur Baca Bacı	Kesim Keski Kestane	Çanak Çatal Çay	-Erdem arkadaşı Ali'yi kıskandı.	Ak	(,) (virgül)

TÜRKÇE CEVAPLARI. SORULARIN ARKASINA ÇIKTI AL.

<p>402 411 195</p> <p>Sayılarının okunuşlarını söyle.</p>	<p>2 onluk, 6 birlik, 7 yüzlükten oluşan sayı kaçtır?</p> <p>(Bilemezsen en başa dön.)</p>	<p>Aşağıdaki sayılarda yer alan 7'lerden hangisinin basamak değeri 70'tir?</p> <p>752 507 173</p>	<p>427 185 641</p> <p>Sayılarını en yakın onluğa yuvarla.</p>	<p>197179 223 232 117 117</p> <p>Noktalı yerlere sırayla hangi işaretler gelmelidir? (Bilemezsen en başa dön.)</p>	<p>28-32-.....-40</p> <p>Dizisinde noktalı yere hangi sayı gelmelidir?</p>
<p><u>Rakamlardan tek olanları say.</u></p>	<p><u>Rakamlardan çift olanları say.</u></p>	<p>17'den başlayarak beşer beşer sayarsam 4. sırada hangi sayıyı söylerim?</p>	<p>XIII IV XIX</p> <p>Romen rakamları kaçtır?</p>	<p>Aşağıdaki açı hangi açıdır?</p> 	<p>Dik açıya sahip bir şekil söyleyiniz?</p>
<p>K</p> <p>Yukarıdaki şekilde hangi açılar vardır?</p>	<p>Açısı olamayan geometrik şekle örnek veriniz.</p>	<p>Küpün yüzleriyle hangi şekli elde ederim?</p>	<p>Koninin yüzleriyle hangi şekli elde ederim?</p>	<p>Karşılıklı kenarlarım eşit uzunlukta, iki kısa iki uzun kenarım var. Bütün açıları dik açı. Ben kimim?</p>	<p>307 cm'yi metre ve santimetreye dönüştür.</p>

36	> < =	430 190 640	173	726	Dört yüz iki Dört yüz on bir Yüz doksan beş
Kare Dikdörtgen	Dar açı	13 4 19	17-22-27-32	0,2,4,6,8	1,3,5,7,9
3m 7cm	Dikdörtgen	Çember	Kare	Çember Daire	2 tane dar açı 1 tane geniş açı