


DESTE VE DÜZİNE

Aynı türden 10 adet varlığı gösteren sayıya 1 deste denir.

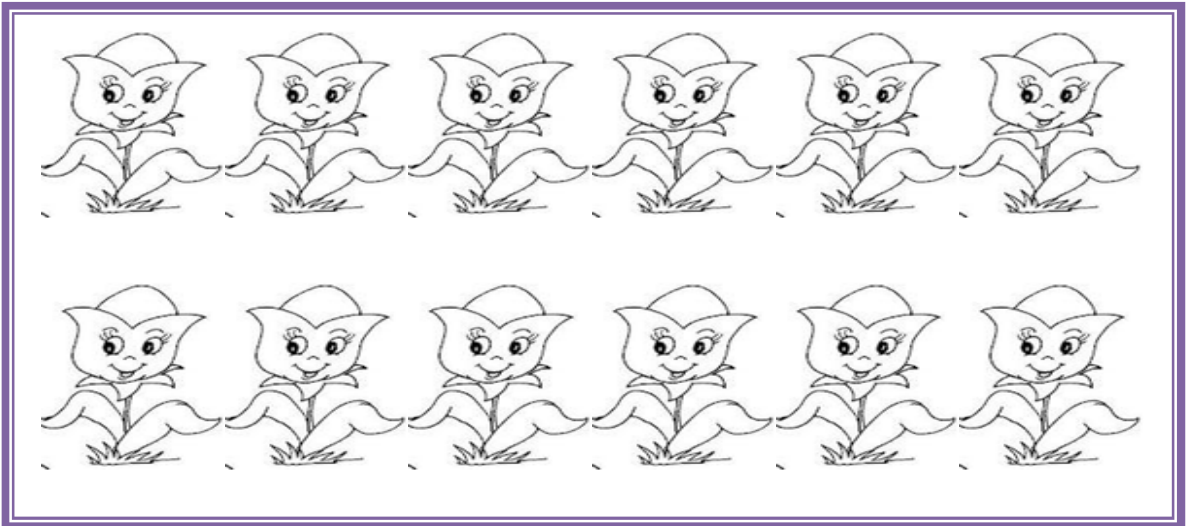


Aşağıda tam bir deste (10 tane) bardak var hadi sayalım ve boyayalım.






Aynı türden 12 adet varlığı gösteren sayıya 1 düzine denir.


Sevgili çocuklar aşağıda tam 1 düzine lale var hadi hem sayalım hem boyayalım



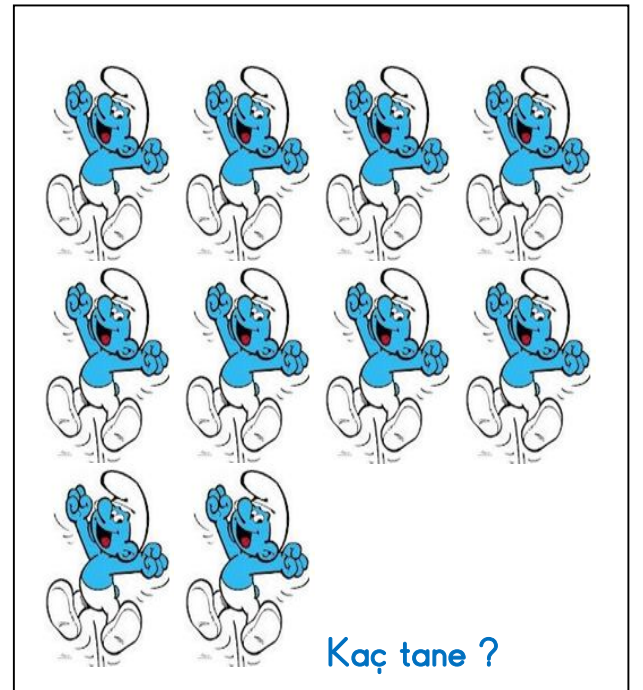

Aşağıdaki gruplardaki nesneleri sayarak **düzine ve deste** ile eşletiniz.



DÜZİNE




DESTE






Aşağıdaki nesnelerin bir **Destesini** boyayalım.



Aşağıdaki varlıkların bir **Düzesini** boyayalım.



Deste : 10 tane
Düzine : 12 tanedir.

Deste ve düzine aynı cins nesnelere oluşur.

Aşağıdaki kutulara bir **düzine** olacak şekilde varlık çiziniz.

Aşağıdaki kutulara bir **deste** olacak şekilde varlık çiziniz.

2 deste kalem çiziniz.

2 düzine çiçek çiziniz.

1 deste de kaç kalem vardır?-----

2 deste de kaç çiçek vardır?-----

1 deste silgini 5 eksiği kaç silgi yapar?-----

Ablam yemek masasına yarım düzine bardak koydu masada kaç bardak oldu?-----

1 düzine, 1 desteden kaç tane fazladır?-----

Bir deste tabak ile, bir düzine tabağı toplarsak kaç adet tabak yapar?-----

2 düzine defterin ,3 tane fazlası kaç defter yapar?.....

1 7 sayısına kaç eklersem 2 düzine yapar?

1 8 yumurtanın kaç tanesi kırılırsa 1 düzine yapar?.....

5 düzine balonda kaç tane balon vardır?.....


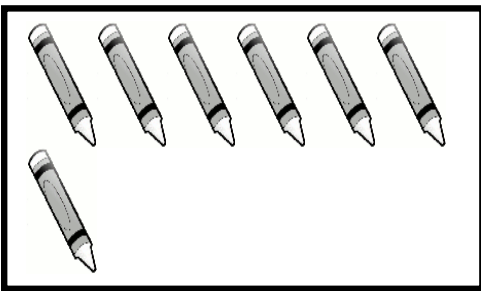
40 bardak kaç deste yapar?.....

1 desteye kaç tane eklersem düzine olur?.....

3 düzine kalem kaç adet yapar?.....

Elif 'in **1 düzine** kalemi vardı. Annesi de ona **5 kalem** verdi. Elif 'in ----- kalemi oldu.

Aşağıdaki nesnelere desteye tamamlayalım.



Aşağıdaki nesnelere düzineye tamamlayalım

