

BAŞARILI KONUŞMANIN YOLLARI

Eğer konuşmada başarılı olmak isterseniz, her şeyden önce içtenlikli olun. Konuşmanızda karşınızdakinin isteklerine de yer verin. Hep siz konuşmayın. Kullandığınız kelimelere ve sesinize özen gösterin. Hem başkalarının konuşmalarını, hem de kendi konuşmalarınızı inceleyin. Saptayacağınız kusurları gidermek için bıkıp usanmadan çalışın. Söylendiği gibi, ağzı lâf yapıyor olmak, konuşma sanatında usta sayılmaya yetmez. Vaktiyle bir anne kızından şöyle söz etmişti: "Kızım mı? O sadece söyler, hiçbir zaman konuşmaz."

Unutmayın, konuşma duygu ve düşünce alışverişinde bulunmaktır; yoksa herkesin kendi düşüncelerinde, kendi görüşlerinde direnmesi değil.

Konuşmadaki tutumumuzu bağınazlığa, kırıncılığa ve kendimizi övmeye vurdurmadan göstermeyi bilmeliyiz.

T. Weaver
Güzel Konuşma Yolları

(İlk dört soruyu parçaya göre cevaplayınız.)

1. Parçaya göre konuşmada başarılı olmak için aşağıdakilerden hangisi yapılmaz?

- A) İçtenlikli olmalıyız.
- B) Hep biz konuşmalıyız.
- C) Kullandığımız kelimelere dikkat etmeliyiz.
- D) Ses tonumuza özen göstermeliyiz.

2. Konuşmayla ilgili kusurlarımızı gidermek için ne yapmalıyız?

- A) Az konuşmalıyız.
- B) Olmuyorsa konuşmayı bırakmalıyız.
- C) Kırıncı şekilde konuşmaya çalışmalıyız.
- D) Bıkıp usanmadan çalışmalıyız.

3. Parçaya göre başarılı bir konuşmada aşağıdakilerden hangisi vardır?

- A) Kırıncılık
- B) Kendini övme
- C) Düşünce alışverişi
- D) Bağınazlık

4. Parçada anlatılmak isteneni en iyi ifade eden atasözü aşağıdakilerden hangisidir?

- A) Laf torbaya girmez.
- B) Düt demeye dudak gerek.
- C) Kuru laf karın doyurmaz.
- D) Öfkeyle kalkan zararlı oturur.

5. Dilimizde eklerin çoğu büyük ünlü uyumuna uyar. Bazı ekler ise bu kuralın dışındadır. Aşağıdakilerden hangisinde nu kuralın dışında olan bir ek kullanılmıştır?

- A) sabahleyin
- B) sarılık
- C) gelincik
- D) kafadar

6. Aşağıdaki kelimelerin hangisinde hece düşmesi yaşanmamıştır?

- A) boynu
- B) devri
- C) kalbi
- D) ömrü

7. “Derin” kelimesi hangi seçenekte mecaz anlamda kullanılmıştır?

- A) Bu denizin suyu çok derin.
- B) Yolda yürürken derin bir kuyu gördük.
- C) O, denizin derinliklerinde batık gemiyi arıyor.
- D) O uzmanlık alanında derin bilgilere sahip.

8. Aşağıdaki kelime çiftlerinden hangisi farklıdır?

- A) çaba-gayret
- B) sıkça-bazen
- C) umumi-genel
- D) istek-arzu

9. Aşağıdaki deyimlerden hangisinin içerdiği anlam diğerlerinden farklıdır?

- A) Gözden geçirmek
- B) Göz gezdirmek
- C) Göz atmak
- D) Göze gelmek

10. Aşağıdaki kelimelerden hangisi (-ci) ekiyle türememiştir?

- | | |
|-------------|-----------|
| A) yirminci | B) sunucu |
| C) kapıcı | D) oduncu |

11. Kesme işareti hangi seçenekte yanlış kullanılmıştır?

- | | |
|---------------|----------------|
| A) Fransa'da | B) Arap'laşmak |
| C) Almanya'da | D) Başbakan'a |

12. Aşağıdaki isimlerden kaç tanesi soyut isimdir? (yıldız-kelebek-cesaret-kilim-üzüntü-akıl-yalnızlık)

- | | |
|------|------|
| A) 2 | B) 3 |
| C) 4 | D) 5 |

13. “Öğretmenlik” kelimesinin kökü aşağıdakilerden hangisidir?

- | | |
|----------|-------------|
| A) öğ | B) öğren |
| C) öğret | D) öğretmen |

14. Aşağıdakilerden hangisi tamlama değildir?

- | | |
|----------------|----------------|
| A) çok gülmüş | B) tahta kaşık |
| C) gözlük camı | D) yaya geçidi |

15. “Usta” kelimesi hangi cümlede sıfat olarak kullanılmıştır?

- A) O adam bu işte usta olmuş.
B) Ustaları hemen bürosuna çağırdı.
C) Bu konuyu ustamıza danışmalıyım.
D) Usta işçiler sağ bölümde çalışıyor.

16. “Çocuklar.....duydıkları şeyleri çabuk öğrenirler.” Cümlesinde noktalı yere aşağıdakilerden hangisi gelmelidir?

- | | |
|-----------|---------|
| A) yarın | B) ilgi |
| C) nerede | D) ama |

17. Aşağıdakilerden hangisinin öznesi zamirdir?

- A) Bazıları sahilde yürüyorlardı.
B) Dost acı söyler.
C) Rüzgâr, evin çatısını uçurdu.
D) Dedem, onu dün görmüş.

18. Aşağıdakilerden hangisi şart cümlesidir?

- A) Okula gidersen harçlığını veririm.
B) Sınavı bir kazansam.
C) Bahçede oynamayın.
D) O kitaplardan hangisini okuyacaksın?

19. Matematik dersinde Kesirler konusunu işledik. Cümlesinde hangi söz tırnak içine alınmalıdır?

- | | |
|--------------|-----------------------|
| A) Matematik | B) dersinde |
| C) Kesirler | D) Matematik dersinde |

20. Aşağıdakilerin hangisinde “de” bağlacı yanlış yazılmıştır?

- A) Bal olan yerde sinek de vardır.
B) Toplantıda öğretmenimiz de konuşacak.
C) Bir gün biz de yaşlanacağız.
D) Arayan mevlâsında bulur, belasında.

1. “Babam ve Oğlum” filminin seyirci sayısı afişin altında yazmaktadır. Bu sayının binler bölümünde bulunan rakamlar hangi seçenekte doğru verilmiştir?



A) 3 B) 415 C) 520 D) 3415

2. 563 639 sayısında “3” rakamlarını 4 artırırsak sayı kaç artar?

A) 4400 B) 440 C) 40400 D) 4040

3. $\blacksquare > 3589 + 10\,001$ ifadesinde \blacksquare yerine yazılabilecek en küçük sayı kaçtır?

A) 13 591 B) 13 590 C) 10 000 D) 14 591

4.
$$\begin{array}{r} A\ 2\ B \\ \times\ 3\ 8 \\ \hline 1\ 0\ 0\ 8 \\ +\ 3\ 7\ 8 \\ \hline 4\ C\ 8\ 8 \end{array}$$
 Yandaki çarpma işlemine göre $A+B+C$ kaçtır?

A) 10 B) 14 C) 16 D) 9

5. “Ziya Gökalp İlköğretim Okulu”ndan 650 öğrenci Anıtkabir ziyaretine gidecektir. Yolculuk için 25 kişilik midibüsler kiralınmıştır. Kaç midibüs gerekir?

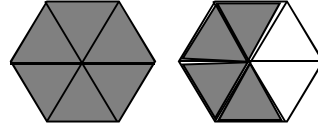
A) 20 B) 24 C) 26 D) 25

$$\begin{array}{r} A \\ \hline 58 \\ - \end{array}$$

Yandaki bölme işleminde kalan en fazla kaç olabilir?

A) 1 B) 0 C) 62 D) 57

7.



Yandaki boyalı alanı ifade eden kesir hangisidir?

A) $1\frac{6}{7}$ B) $1\frac{4}{6}$ C) $\frac{4}{6}$ D) $1\frac{2}{6}$

8. Yüzme kursuna gelen öğrencilerin 80’i erkektir.

Erkekler, kursa gelen öğrencilerin $\frac{5}{8}$ ’ini

oluşturduğuna göre kursa gelen kaç kız öğrenci vardır?

A) 50 B) 128 C) 48 D) 80

9. $5 - 2\frac{3}{7} = ?$ işleminin sonucu kaçtır?

A) $\frac{4}{7}$ B) $2\frac{4}{7}$ C) $3\frac{4}{7}$ D) $1\frac{4}{7}$

10. “On sekiz tam binde on beş” ondalık kesrinin rakamla yazılışı hangi seçenekte doğru verilmiştir?

A) 18,015 B) 18,15
C) 18,150 D) 181,015

11. Aşağıdaki uzunluk ölçüleri arasındaki dönüşümlerden hangisi yanlıştır?

- A) $87 \text{ m} = 0,87 \text{ hm}$ B) $0,52 \text{ cm} = 5,2 \text{ dm}$
C) $140 \text{ dam} = 1,4 \text{ km}$ D) $12 \text{ km} = 120\,000 \text{ dm}$

12. Dakikada ortalama 300 m yol alan bir bisikletli 2 saatte kaç km yol alır?

- A) 36 B) 360 C) 3,6 D) 0,36

13. Bir çiftlikte 7 inekten her biri, günde ortalama 8 L süt veriyor. Bu inekler bir haftada kaç mL süt verirler?

- A) 0,392 B) 392 C) 3920 D) 392 000

14. 1 saatte 3 dakika geri kalan saat sabah saat 8.15'te ayarlanıyor. Bu saat 6 saat sonra kaç gösterir?

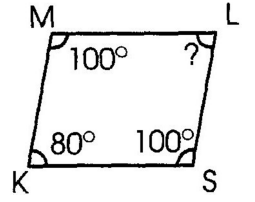
- A) 13.57 B) 14.33 C) 13.45 D) 14.15



Yandaki şekilde kaç tane dörtgen vardır?

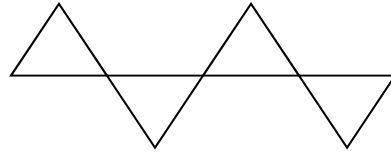
- A) 1 B) 2 C) 3 D) 4

16. Yandaki şekilde L açısının ölçüsü kaç derecedir?



- A) 100 B) 80 C) 60 D) 90

17.



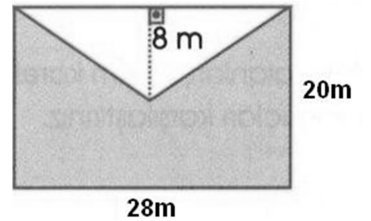
Yukarıdaki şekil eş üçgenlerden oluşmaktadır. Üçgenler eşkenar üçgendir. Bu şeklin çevresi 60 cm olduğuna göre üçgenlerin bir kenarı kaç cm'dir?

- A) 3 B) 4 C) 5 D) 6

18. Dikdörtgen şeklindeki bahçenin uzun kenarı 18m kısa kenarı ise 12m'dir. Bahçemizin çevresine 3 m aralıklarla kiraz ağacı dikilecektir. Kaç ağaç gerekir?

- A) 18 B) 16 C) 22 D) 20

19. Yandaki şekilde taralı alan kaç m^2 dir?



- A) 448 B) 478 C) 458 D) 488

20. $\frac{a}{12}$ basit kesir ise a en fazla kaç olabilir?

- A) 12 B) 11 C) 10 D) 14

1. Aşağıdakilerden hangisi vücudumuzda karbonhidratlardan sonra enerji kaynağı olarak kullanılır?

- A) Proteinler
B) Vitaminler
C) Mineraller
D) Yağlar

2. Vücudumuzda kan süzöldükten sonra oluşan ve dışarıya atılması gereken madde aşağıdakilerden hangisidir?

- A) Su
B) İdrar
C) Kan
D) Besin

3. Aşağıdakilerden hangisi sağlıklı beslenmek için uygun değildir?

- A) Bol su içmeliyiz.
B) Asitli yiyecek ve içecekleri çok tüketmemeliyiz.
C) Taze besinler tüketmeliyiz.
D) Çok tuzlu besinler tüketmeliyiz.

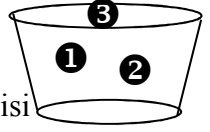
4. Aşağıdaki olaylardan hangisinde hal değişimi yoktur?

- A) İspirtonun uçması
B) Buzun erimesi
C) Kalem ucunun kırılması
D) Kolonyanın uçması

5. Aşağıdaki maddelerden hangisi suda yüzer?

- A) Demir
B) Taş
C) Tahta
D) Cıva

6. Yanda verilen sıvı dolu kaptaki 3 farklı madde bulunmaktadır. Buna göre bu maddelerden hangisi ya da hangilerinin yoğunluğu sıvının yoğunluğuna eşittir?



- A) 1-2
B) 1
C) 2-3
D) 1-3

7. Aşağıdakilerden hangisi bir cismin hareketini kolaylaştırır?

- A) Su direncini artırmak
B) Hava direncini artırmak
C) Sürtünme kuvvetini artırmak.
D) Zeminin kayganlığını artırmak.

8. I. Düzgün asfalt.
II. Düzgün beton.
III. Kumlu taşıt yolu.

Yukarıda verilen bölümlerde hareketin kolaydan zora sıralaması nasıl olur?

- A) II-I-III
B) III-II-I
C) I-II-III
D) II-III-I

9. Aşağıdakilerden hangisinde sürtünme kuvveti yanlış anlatılmıştır?

- A) Pürüzlü yüzeylerdeki sürtünme kuvveti düzgün yüzeylerden fazladır.
B) Fayans zemindeki sürtünme kuvveti tahta zeminden daha azdır.
C) Sürtünme kuvveti, temas gerektirmeyen bir kuvvettir.
D) Sürtünme kuvveti yüzeyin özelliğine bağlıdır.

10. Aşağıdakilerden hangisi kuşlar grubunda yer almaz?

- A) güvercin
B) tavuk
C) horoz
D) yarası

11. Balıkların yaptığı solunum aşağıdakilerden hangisidir?

- A) trake
- B) solungaç
- C) deri
- D) akciğer

12. Aşağıdakilerin hangisi mantarların özelliklerinden değildir?

- A) Antibiyotikler, küf mantarından oluşur.
- B) Kültür mantarları zehirlidir.
- C) Mantarlar, fotosentez yapmazlar.
- D) Mantarlar, bitkiler grubunda yer almazlar.

13. Aşağıdakilerin hangisinde yanlış bilgi verilmiştir?

- A) Işık, doğrusal olarak yayılır.
- B) Ses dalgalar halinde yayılır.
- C) Işık bir enerji çeşididir.
- D) Ses bir enerji çeşidi değildir.

14. Aşağıdakilerden hangisi doğru değildir?

- A) Dünya, Güneş'in etrafındaki bir dönüşünü 1 yılda tamamlar.
- B) Dünya, kendi etrafındaki bir tam dönüşünü 24 saatte tamamlar.
- C) Ay, Dünya etrafındaki bir tam dönüşünü 1 günde tamamlar.
- D) Ay, hem Dünya etrafında hem de Güneş etrafında döner.

15. Aşağıda gölge ile ilgili verilen bilgilerden hangisi doğrudur?

- A) Işık kaynağının ışık miktarı gölge boyunu etkiler.
- B) Işık kaynağı engelle yaklaştırıldıkça gölge boyu azalır.
- C) Işık kaynağı engelle yaklaştıkça gölge boyu değişmez.
- D) Işık kaynağı engelden uzaklaştıkça gölge boyu azalır.

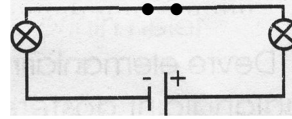
16. Aşağıdakilerin hangisinde saydam ve opak cisim bir arada verilmiştir?

- A) cam bardak-hava
- B) karton-buzlu cam
- C) su-tahta
- D) su-hava

17. Aşağıdakilerden hangisi doğrudur?

- A) Ses, boşlukta iletir.
- B) Işık, dairesel olarak yayılır.
- C) Ses; katı, sıvı ve gaz ortamlarda yayılır.
- D) Sesin şiddetini artıramayız.

18.



Yandaki devrede ampulün ışık vermemesi için ne yapılmalıdır?

- A) Anahtar açık bırakılmalıdır.
- B) Anahtar kapatılmalıdır.
- C) Pil sayısı artırılmalıdır.
- D) Ampul sayısı artırılmalıdır.

19. Basit elektrik devresinde ampul sayısı artırılırsa ampullerin verdiği ışık için ne söylenebilir?

- A) artar
- B) azalır
- C) ampul patlar
- D) değişmez

20. Aşağıdakilerden hangisi yanlıştır?

- A) Bir devreye 3 özdeş ampul bağlamak için 3 duy gerekir.
- B) Devrede, pilin bağlandığı yer duydur.
- C) Devredeki pillerin bağlanmaları belli bir kurala göre yapılır.
- D) Bir devreye ampulleri birden çok şekilde bağlayabiliriz.

1. Sahip olduğumuz hak ve özgürlükleri kullanırken hangi davranışı sergilersek yanlış yapmış oluruz?

- A) Hastalanınca doktora gitmek.
- B) Evde kısık sesle müzik dinlemek.
- C) Kütüphanede kitap okumak.
- D) Okul saatinde sinemaya gitmek.

2. Okulun müzik korosuna katılan bir öğrenci aşağıdakilerden hangisini yapamaz?

- A) Koroda görev alabilir.
- B) Sevmediği kişileri korodan attırabilir.
- C) Koronun tanıtım çalışmalarına katılabilir.
- D) Koroya ait müzik aletlerini kullanabilir.

3. Aşağıdakilerden hangisi Türkiye Cumhuriyeti vatandaşının devlete karşı görevlerinden değildir?

- A) Hacca gitmek
- B) Vergi vermek
- C) Askere gitmek
- D) Seçimlerde oy kullanmak

4. Yurdumuz topraklarının Asya Kıtası'nda kalan kısmına ne ad verilir?

- A) Avrupa
- B) Trakya
- C) Anadolu
- D) Başkent

5. "Atatürk İlkeleri, Türk toplumunun..... doğmuştur." Cümlesinde noktalı yere aşağıdakilerden hangisi gelmelidir?

- A) ihtiyaçlarından
- B) törelerinden
- C) kavgasından
- D) sürtüşmesinden

6. Aşağıdakilerden hangisi siyasi alanda yapılan inkılaplardan değildir?

- A) Saltanatın kaldırılması
- B) Cumhuriyet ilan edildi.
- C) Yeni Türk alfabesi kabul edildi.
- D) Halifelik kaldırıldı.

7. İlkbaharda yağışlar ile yeşeren, yazın kuruyan otlardan oluşan bitki örtüsü aşağıdaki iklimlerin hangisinde görülür?

- A) Okyanus iklimi
- B) Karadeniz iklimi
- C) Akdeniz iklimi
- D) Karasal iklim

8. Kayseri, Yozgat, Konya illeri hangi bölgemizde yer almaktadır?

- A) Ege Bölgesi
- B) Karadeniz Bölgesi
- C) İç Anadolu Bölgesi
- D) Doğu Anadolu Bölgesi

9. Ülkemizde en çok incir yetiştirilen il hangisidir?

- A) Aydın
- B) Bursa
- C) Kayseri
- D) Antalya

10. Aşağıdakilerden hangisi sanayi bitkisidir?

- A) Domates
- B) Üzüm
- C) Pamuk
- D) Elma

11. “Kazanç amacıyla her türlü mal ve hizmetin alınıp satılmasına.....denir.”Cümlesinde noktalı yere aşağıdakilerden hangisi gelmelidir?

- A) üretim
- B) ticaret
- C) ihracat
- D) ithalat

12. Ege Bölgesinde geniş verimli araziler ve uygun iklimin bulunması hangi geçim kaynağının gelişmesini sağlamıştır?

- A) Hayvancılık
- B) Ormancılık
- C) Balıkçılık
- D) Tarım



Yukarıdaki teknolojik ürünleri yaşamımızın hangi alanında kullanırız?

- A) iletişim
- B) eğlence
- C) ulaşım
- D) sağlık

14. Aşağıdakilerden hangisi bir bilim adamında olmaması gereken özelliklerdendir?

- A) Araştırmacı
- B) Dikkatsiz
- C) Sabırlı
- D) Çalışkan

15. Aşağıdakilerden hangisi sivil toplum örgütlerinde mutlaka olması gerekenlerdendir?

- A) Maddi çıkar
- B) Zorunluluk
- C) Dayanışma
- D) Yarışma

16. Eğitim alanında çalışan sivil toplum örgütleri yürüttükleri proje ve çalışmalarla eğitime destek verirler. Bu destekten daha çok kimler yararlanırlar?

- A) Özel okula giden çocuklar
- B) Kimsesiz ihtiyarlar
- C) Milletvekili çocukları
- D) Kimsesiz yardıma muhtaç çocuklar

17. Aşağıdakilerden hangisi yasalarla ilgili bir özellik değildir?

- A) Yazılı kurallardır.
- B) Barışı ve huzuru sağlar.
- C) Ülkedeki zengin kişilerin çıkarı doğrultusunda düzenlenmiştir.
- D) Güvenliği sağlar.

18. Kaymakamlar hangi bakanlığa bağlı olarak çalışırlar?

- A) Milli Eğitim Bakanlığı
- B) Adalet Bakanlığı
- C) Milli Savunma Bakanlığı
- D) İç İşleri Bakanlığı

19. Avrupa’nın en büyük ekonomik gücüne sahip ülkesi aşağıdakilerden hangisidir?

- A) Almanya
- B) Brezilya
- C) Çin
- D) Yunanistan

20. Aşağıdakilerden hangisi Mısır’a ait değildir??

- A) Piramitler
- B) Yağmur Ormanları
- C) Mumyalama
- D) Hieroglif