



MATEMATİK(KİLOGRAM-GRAM)

ADI-SOYADI:

TARİH:...../...../2012

1 - Aşağıdaki verilen nesnelerin hangisiyle tartıldığını eşleştirerek gösteriniz.



Alihan ve Sultan'ın kütleleri toplamı
Semiha'nın kütlelerinden ne kadar
fazladır?



Özlem 36 kg

Hüsnenur ile hangi arkadaşının kütlesi
toplamı 65 kg'dır?



Alihan 35 kg

Özlem'in kütlesi Sultan'ın kütlelerinden
ne kadar fazladır?



Hüsnenur 30 kg

3)Aşağıdakilerden hangisi kilogram olarak satılır?

A)su

B)şeker

C)süt

4)Kilogramı 4 TL olan muzdan 1 4 kg alırsak kaç
lira tutar?

2- Aşağıdaki verilere göre soruları cevaplayınız.



Semiha ile Hüsnenur'un kütleleri
toplamı kaç kg'dır?

Semiha 28 kg



Özlem dışındaki çocukların kütleleri
toplamı kaç kg'dır?

Sultan 29 kg

5)Bir paket leblebi 1 75 gramdır. İlayda 4 paket
leblebi aldı. İlayda kaç gram leblebi aldı?

6)Ağabeyimin kütlesi 72 kilogramdır. Ağabeyim
benden 38 kilogram ağı olduğuna göre benim
kütle kaç kilogramdır?

7) Babam kış için 38 torba kömür aldı. Her torbada 25 kg kömür olduğuna göre babam kaç kg kömür aldı?

8) Senanur 21 kg'dır. Annesinin kütlesi Senanur'un kütlesinin 3 katından 5 kg eksiktir. Senanur'un annesinin kütlesi kaç kg'dır?


9) Bir bakkal 56 kg şekeri 7 poşete eşit olarak paylaştırdı. Poşetlerden 3 tanesini satan bakkalın satacağı kaç kg şeker kalmıştır?

10) Aşağıdakilerden hangisi 500 gram yapar?
A) 5 tane 100 g B) 8 tane 50 g
C) 4 tane 100 g

11) Emine 27 kg, Kübra 36 kg, Velihan 29 kg'dır. Üçünün kütleleri toplamı kaç kg'dır?

12) Furkan her paketi 125 gram olan 4 paket margarin aldı. Furkan'ın aldığı margarinlerin kütlesi kaç gramdır?

13)



Oğuzhan ve Elif Sıla'nın kütleleri toplamı kaç kg'dır?

14) Bir manav kütlesi yaklaşık 4 kg olan kavunlardan 12 tane satıyor. 9 günde kaç kg kavun satar?

15) Berkay'ın akvaryumunda 5 tane balığı var. Her balık günde 6 gram yem yiyor. 5 balığı bir haftada kaç gram yem yer?

16) Mahallemizdeki bakkalda 15 kg'lık 18 paket, 9 kg'lık 26 paket deterjan vardır. Bakkaldaki deterjanların toplam kütlesi kaç kg'dır?

17) Bir pazarcı kilogramı 3 TL'den 29 kilogram muz sattı. Geriye kalan 18 kg muz 2 TL'den sattı. Pazarcı toplam kaç liralık muz satmış oldu?

18) Bir kamyonunda her birinde 18 kg şeker olan 16 çuval ve her birinde 15 kg olan pirinç olan 9 çuval bulunmaktadır. Kamyondaki çuvalların toplam kütlesi kaç kg'dır?

19) Aşağıdaki teraziye dengelemek için ne yapmak gerekir?

