


VERİLMEYEN EKSİLEN VE ÇIKANI BULMA


-2. SINIF-

ADI SOYADI:


Aşağıdaki problemleri çözdükten sonra yıldızları boyayabilirsiniz.




Mustafa'nın 53 bilyesi var. Bilyelerinin bir kısmını Mehmet'e verince 27 bilyesi kaldığına göre Mehmet'e kaç bilye vermiştir?




64 metre kumaşın kaç metresi kullanılırsa geriye 15 metre kumaş kalır?



77 kilogram patatesin kaç kilogramı satılırsa 39 kilogram patates kalır?



Kumbaramdaki paraların 33 TL'sini harcayınca 69 TL param kaldı. Kumbaramda ne kadar param vardı?



Kitaplığımızdaki kitapların 18 tanesini okudum. Okumadığım 26 kitap kaldığına göre kitaplığımızda toplam kaç kitap vardır?



Bir bakkaldaki yumurtaların 17 tanesi kırıldı. Geriye 19 sağlam yumurta kaldığına göre bakkalda toplam kaç yumurta vardı?