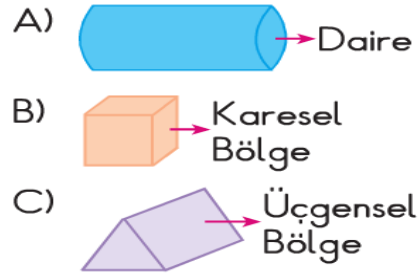


3.SINIF GEOMETRİK CİSİMLER

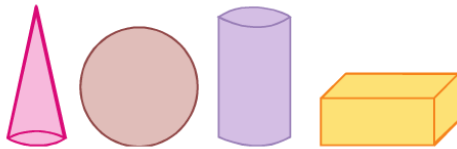
1) Aşağıdakilerden hangisinin köşesi yoktur?



2) Aşağıdaki eşleştirmelerden hangisi yanlıştır?



3) Aşağıdaki cisimlerden kaç tanesinin ayrıtı vardır?



A) 3 B) 4 C) 2

4)



Yandaki şeklin adı nedir?

A) Silindir B) Üçgen C) Koni


5)

1) Dört tane eşit kenarı vardır.

2) Dört tane köşesi vardır.

3) Bir yüzü vardır.

Yukarıda özellikleri verilen geometrik şekil aşağıdakilerden hangisidir?

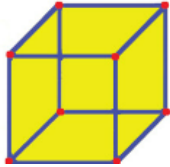


3.SINIF GEOMETRİK CİSİMLER

6) Aşağıdakilerden hangisi küreye benzemektedir?






7)



Yandaki geometrik cisim modelinde kırmızı nokta ile gösterilen kısmın adı nedir?

A) Köşe B) Ayrıt C) Yüzey

8) Silindir, koni ve kürenin yüzlerinin sayısı hangi seçenekte doğru olarak verilmiştir?

			
A)	1	2	3
B)	2	3	1
C)	3	2	1

9) Aşağıdaki geometrik cisimlerin silindire benzemektedir?



10) Aşağıdaki geometrik şekillerde kaç tane silindir vardır?



A) 3 B) 2 C) 1

11) Aşağıdaki geometrik şekillerden hangisinin ayrıtları ve köşeleri vardır?

