

1 Kaan, aşağıdaki harita üzerinde nüfus yoğunluğu fazla olan dört il belirleyip, bu illerin yoğun nüfuslanmasında öne çıkan faktörleri yazmıştır.



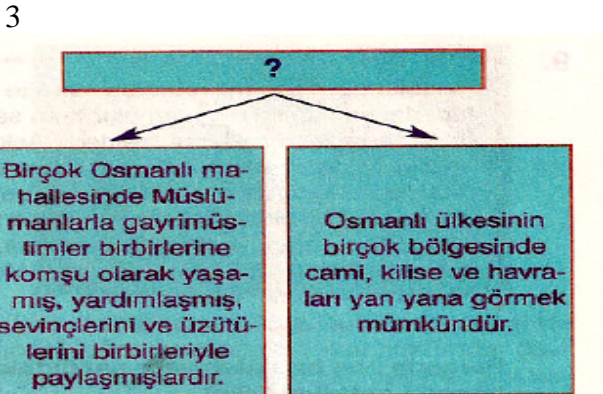
Buna göre, Kaan hangi ilin yoğun nüfuslanmasında öne çıkan faktörü yanlış yazmıştır?

- A) İstanbul B) Zonguldak  
C) İzmir D) Adana

?	Hafif atlı birlikler olup uçlarda bulunurlar, ordunun keşif hizmetini görürlerdi.
Yeniçeriler	Savaş sırasında merkezde bulunur ve padişahı korurlardı.
Timarlı sipahiler	Dirlik topraklardan elde edilen vergi gelirleri ile oluşturulan atlı birliklerdir.
Cebeciler	Ordunun silahlarını hazırlar, bakımını yaparlardı.

Eşleştirme tablosundaki boş yere aşağıdakilerden hangisi getirilmelidir?

- A) Sipahi B) Azaplar  
C) Silahat D) Akıncılar

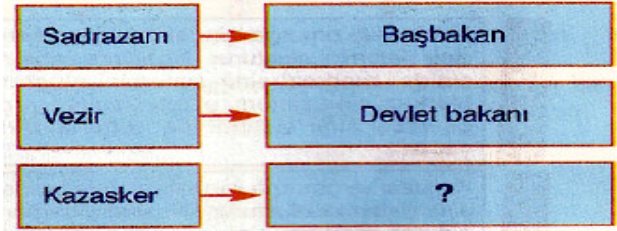


Bu diyagrama verilebilecek en iyi başlık aşağıdakilerden hangisidir?

- A) Yenilikler ve Osmanlı Devleti  
B) Osmanlı Toplumunda Sosyal Dayanışma  
C) Osmanlı Devleti'nde Dini Yaşantı  
D) Farklı Kültürler Bir Arada Yaşadı

4

Aşağıdaki şemada bazı divan üyelerinin günümüzde hangi bakanlıklarla benzerlik gösterdiği belirtilmiştir:



Buna göre şemadaki boş yere, aşağıdakilerden hangisi yazılabilir?

- A) Dışişleri Bakanı B) Adalet Bakanı  
C) Maliye Bakanı D) İçişleri Bakanı

5



Yukarıdaki şemada kaç numaralı kutuda yanlış bilgi verilmiştir?

- A) 1 B) 2 C) 3 D) 4

6

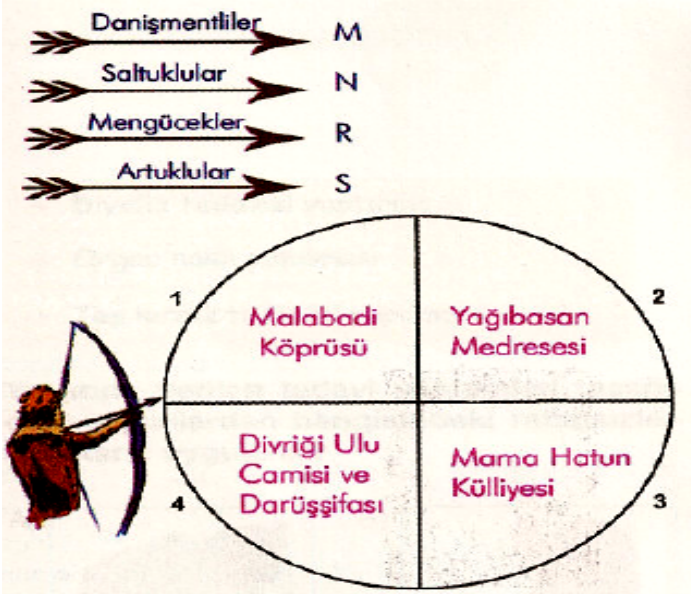
Osmanlı Devleti'nde, sorumlu olduğum bölgede toprağı işleyen köylülerden devlet adına vergi toplamakla görevliyim. Topraklardan sağlanacak vergilerin doğru tespit edilmesi için tahrir defteri adı verilen kayıtlardan yararlanırım.



Yukarıda görevini anlatan kişi, aşağıdakilerden hangisi ile adlandırılır?


- A) Müderris B) Timarlı sipahi  
C) Kadı D) Defterdar





Yukarıdaki oklarla yandaki hedefleri vurmak isteyen okçu çocuğun, aşağıdakilerin hangisiyle isabetli atış yaptığı söylenebilir?

	M	N	R	S
A)	1	2	3	4
B)	2	3	1	4
C)	2	3	4	1
D)	1	4	3	2



Osmanlı donanması kaç numaralı görsellerde Rusya'nın baskınına uğramıştır?

- A) Yalnız 1 B) 1 ve 2  
C) 2 ve 3 D) 3 ve 4



Çağla, yukarıda verilen gelişmeleri birbirlerine etkileri bakımından tarihsel olarak sıralamak istemektedir.

Buna göre Çağla'nın aşağıdaki sıralamalarda hangisini yapması gerekir?

- A) 1 2 3 4  
B) 2 1 4 3  
C) 3 4 1 2  
D) 2 1 3 4



Bizans imparatorları fırsat buldukça Avrupa devletlerini ve Anadolu beyliklerini Osmanlı Devleti'ne karşı kışkırtıyorlardı. Ayrıca Osmanlı şehzadelerini de isyan etmeleri için teşvik ediyorlardı. Bu durum İstanbul'u almak istememde önemli rol oynadı.

Bu durum Fatih Sultan Mehmet'in İstanbul'u alarak aşağıdakilerden hangisini amaçladığını gösterir?

- A) Osmanlı Devleti'nin iç güvenliğini sağlamayı  
B) Osmanlı ekonomik gelirlerini artırmayı  
C) Osmanlı toprak bütünlüğü sağlamayı  
D) Karadeniz ticaretine egemen olmayı

Aşağıda Osmanlı Devleti'nde yapılan savaşlar ve bu savaşları yapan padişahlar eşleştirilmiştir:

II. Murat	→	Varna
Fatih	→	Otlukbeli
Yavuz Selim	→	?
Kanuni Süleyman	→	Mohaç

Eşleştirme tablosunda "?" olan bölüme aşağıdakilerden hangisi getirilemez?

- A) Çaldıran B) Mercidabık  
C) Ridaniye D) Niğbolu



12

Bekir, Osmanlı Devleti'nin kuruluşundan 1699 yılına kadar geçen dönemiyle ilgili bilgi panosu hazırlayacaktır.

Bekir bu panosunda aşağıdakilerden hangisine yer vermemelidir?

- A) **Ridaniye Savaşı**  
 B) **İstanbul'un fethi**  
 C) **Segedin Antlaşması**  
 D) **Sinop baskını**

13

Aşağıda Fatih Sultan Mehmet dönemindeki gelişmelerden bazıları verilmiştir:

İstanbul'un fethedilmesi



İstanbul'a Türk nüfusun getirilmesi



Şehrin çeşitli semtlerinde camiler, medreseler ve çarşılar yapılması

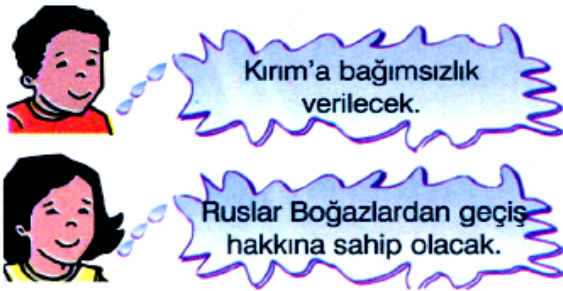


?

Buna göre diyagramdaki gelişmelerin sonucuyla ilgili olarak "?" olan bölüme aşağıdakilerden hangisi getirilmelidir?

- A) Osmanlı Devleti'nin Anadolu beyliklerini egemenlik altına alması  
 B) Avrupa devletlerinin İstanbul'da elçilikler açması  
 C) Bizanslı yöneticilerin Osmanlı hizmetine girmesi  
 D) İstanbul'un Türk İslam şehri haline gelmesi

14



Yukarıda verilen kararlar aşağıdaki anlaşmalardan hangisinde alınmıştır?

- A) Purut  
 B) Karlofça  
 C) Yaş  
 D) Küçük Kaynarca

15)

Hassa Ordusu

Şövalyeler

Yeniçeri Ocağı

Yaya ve Müsellem

Humbaracılar

Silahtar

Yukarıdaki askeri birliklerden kaç tanesi Osmanlı ordusu ile alakalıdır?

- A) 2 B) 3 C) 4 D) 5

16)



Orhan Gazi ile ilgili olarak verilen yukarıdaki bilgilerden hangisi yanlıştır?

- A) I B) II C) III D) IV

17)



Yukarıda yer alan antlaşmalardan hangisi Osmanlı - İran arasında yapılmamıştır?

- A) I B) II C) III D) IV

18)

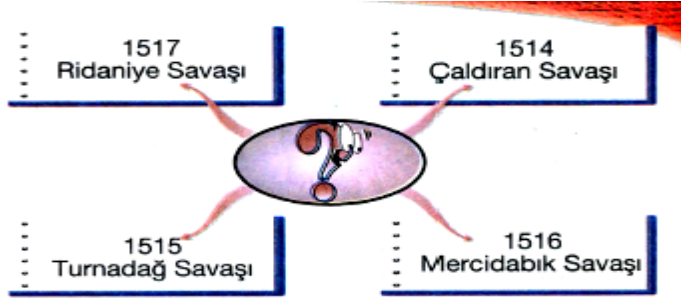


Yukarıdaki padişahlardan hangisi Osmanlı tarihinde en uzun süre (46 yıl) padişahlık yapmıştır?

- A) I B) II C) III D) IV



19)



Yukarıdaki boşluğa bir resim yerleştirilmek istense aşağıdaki padişahlardan hangisinin resmi konurdu?

- A) Kanuni Sultan Süleyman B) II. Selim  
C) Yavuz Sultan Selim D) III. Murat

20)

Osmanlı Devleti'nin Karadeniz ve Akdeniz'de üstünlük sağladığı olaylar aşağıdakilerden hangisidir?

- A) İstanbul'un Fethi - Mısır Seferi  
B) Mohaç Zaferi - Kırım'ın Fethi  
C) Preveze Zaferi - I. Kosova Savaşı  
D) Kırım'ın Fethi - Preveze Zaferi

21)



Yukarıdaki anlatılanlara verilecek en uygun başlık aşağıdakilerden hangisidir?

- A) Mohaç Savaşı B) Ankara Savaşı  
C) İnebahtı Savaşı D) II. Viyana Bozgunu

22)



Aşağıdakilerden hangisi bu dönemin en önemli özelliğidir?

- A) Avrupa ilk kez örnek alınmıştır  
B) İlk kez çiçek aşısı kullanılmıştır  
C) Osmanlı barış dönemi yaşamıştır  
D) Osmanlı eldeki topraklarını koruma politikası uygulamıştır

23)



Yukarıda bazı özellikleri verilen antlaşma aşağıdakilerden hangisidir?

- A) Paris Antlaşması B) Londra Antlaşması  
C) Berlin Antlaşması D) Karlofça Antlaşması

24)

Osmanlı Devleti'nin uzun ömürlü olmasının nedenlerinden biri de hoşgörölü bir yönetim uygulamasıydı.

Aşağıda yer alan İstanbul'un fethinin sonuçlarından hangisi Osmanlı hoşgörüsüne örnek olarak gösterilebilir?

- A) İstanbul'daki Ortadoksların faaliyetlerine devam etmesi  
B) İstanbul'un başkent olması  
C) Osmanlı Devleti'nin imparatorluk olması  
D) Karadeniz ticaretinin Osmanlı'nın eline geçmesi

25)



Fatih Sultan Mehmet, İstanbul'u kuşatmadan önce birçok hazırlık yapmıştır.

Fatih'in yaptığı aşağıdaki hazırlıklardan hangisi Bizans'ın yıkılmayan surlarını yıkmaya yöneliktir?

- A) Donanmayı güçlendirmesi
- B) Rumeli'ye bir ordu göndermesi
- C) Şahi adı verilen topları döktürmesi
- D) Rumeli Hisarı'nı yaptırtması

26)



Yukarıdaki diyagramda bazı görevleri ve özellikleri verilen Divan üyesi aşağıdakilerden hangisidir?

- A) Defterdar
- B) Kazasker
- C) Kaptan-ı Derya
- D) Veziriazam

27)

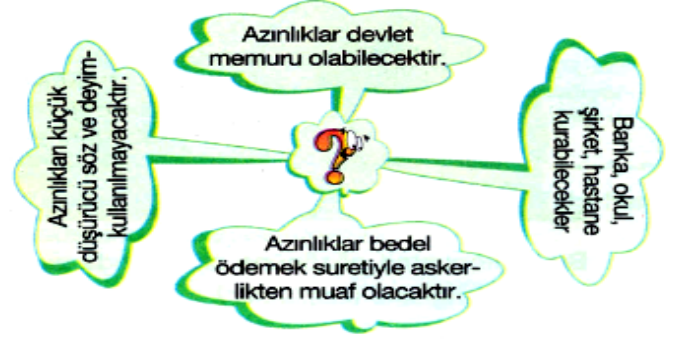
I	Tekerlek	Ulaşım
II	Mürekkep	Yazı
III	Barut	Ticaret
IV	Matbaa	Baskı

Yukarıdaki eşleştirmelerden hangisi yanlıştır?

- A) I
- B) II
- C) III
- D) IV

28)

Azınlıklarla ilgili;



Yukarıdaki diyagramda boş bırakılan yere aşağıdakilerden hangisi getirilmelidir?

- A) Kanun-i Esasi
- B) II. Meşrutiyet
- C) Lâle Devri
- D) Islahat Fermanı

29)

Osmanlı tarihinde padişahın ilk defa kendi isteği ile kendi yetkilerini kısıtladığı belge aşağıdakilerden hangisidir?

- A) Kanunname-i âl-i Osman
- B) Tanzimat Fermanı
- C) Kanun-i Esasi
- D) Sened-i İttifak

30)



İstanbul'un Fethinden sonra okumuş Bizans âlimleri kaçarak İtalya'ya gitti.



Unutulmuş eski Latincenin tekrar öğrenilmesini sağladılar.

Yukarıda verilen İstanbul'un Fethi'nin sonuçları Avrupa'da hangi gelişmelere yol açmıştır?

- A) Reform
- B) Rönesans
- C) Coğrafi Keşifler
- D) Sanayi inkılabı



31)



**Yazının bulunmasının, insanlık tarihine sağladığı katkı yukarıdakilerden hangisinde en az olmuştur?**

- A) I      B) II      C) III      D) IV

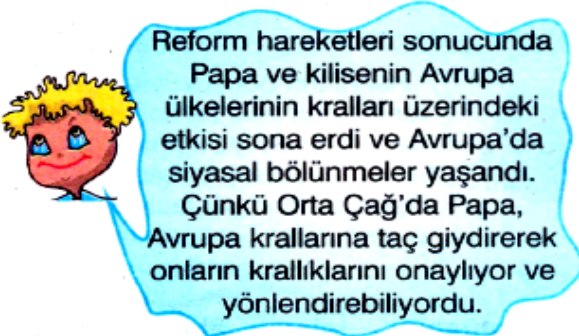
32)

- I- Kâğıt ve matbaanın etkisiyle okuma ve yazmanın gelişmesi.
- II- Güzel sanatlara ilgi duyan zengin bir sınıfın oluşması.
- III- Hindistan'a gidecek yeni yollar arayışı.
- IV- Pozitif (bilimsel) düşüncenin ortaya çıkışı.

**Yukarıdakilerden hangileri Rönesans'ın sebeplerinden birisidir?**

- A) I - III      B) II - IV  
C) III - IV      D) I - II

33)



**Papa'nın güç kaybetmesi aşağıdakilerden hangisine olumsuz etki yapmıştır?**

- A) Coğrafi keşifler  
B) Haçlı seferleri  
C) Bilimsel düşünce  
D) Sanayi inkılabı