

SOSYAL BİLGİLER DERSİ 6.SINIF
2.DÖNEM GENEL DEĞERLENDİRME SINAVI

Öğrencinin
ADI ve SOYADI:
No: **Sınıfı:** 6/.....

Bu Sınavda toplam **25 soru** bulunmaktadır. Sınav çoktan seçmeli sorulardan oluşmaktadır. Her sorunun puan değeri **4 (Dört) puandır.**

1-)



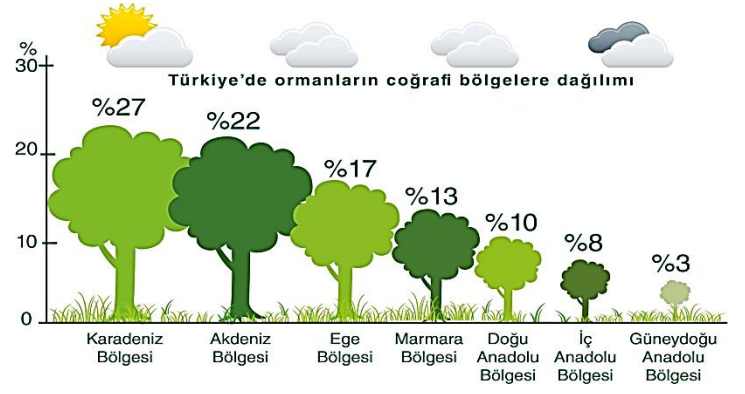
Edirne'de yaşayan 6. sınıf Öğrencisi Umut, hangi yöne giderse aynı anda hem Ekvatora, hem de başlangıç meridyeni Greenwich'e yaklaşır?

- A) Güneye B) Güneybatıya
C) Kuzeye D) Kuzeybatıya

2-) Mete Han, Asya Hun Devleti'nin başında iken, Çin'deki iç karışıklıklardan yararlanarak yaptığı seferlerde Çin'i mağlup edip vergiye bağlamış ancak topraklarına katmamıştır. İpek Yolu'nun denetimini ele geçirmiştir.

Bu bilgilerden hareketle aşağıdaki ifadelerden hangisine ulaşamaz?

- A) Asya Hun Devleti ekonomik kazanç sağlamıştır
B) Mete Han Çin'in içinde bulunduğu karışık durumu fırsat bilmiştir
C) Çinliler Türklerle bir daha da savaşmaya cesaret edememişlerdir
D) Asya Hun Devleti, Çin'e karşı siyasi üstünlüğünü kabul ettirmiştir

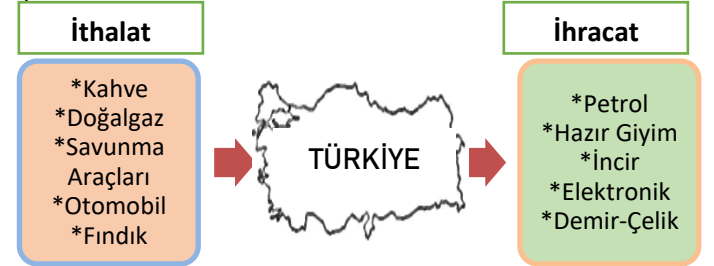


3-) Yukarıda diyagramda Ülkemizde ormanların bölgelerimize göre dağılış oranları verilmiştir.

Diyagrama göre aşağıdaki yorumlardan hangisi çıkarılamaz?

- A) Orman alanlarının büyük çoğunluğu kıyılarımızda toplanmıştır
B) Orman bakımından en fakir bölgemizin Güneydoğu Anadolu Bölgesi olduğu görülmektedir
C) Kâğıt fabrikalarının en yoğun olduğu bölge Karadeniz Bölgesi'dir.
D) İç bölgelerimiz orman bakımından fakirdir

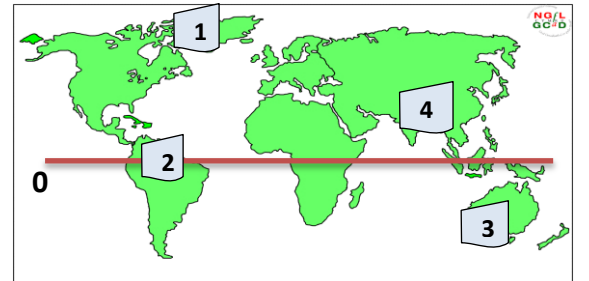
4-)



Yukarıdaki bilgilerin doğru olabilmesi için hangi ikisinin yer değiştirmesi gerekir?

- A) Doğalgaz – Hazır Giyim B) Petrol – Fındık
C) Otomobil – İncir D) Doğalgaz – İncir

5-)



Ekvator ile Kuzey Kutbu arasında, nüfusun kalabalık olduğu bir ülkede oturan Ezgi'nin harita üzerinde numaralı olarak gösterilen alanlardan hangisinde bulunduğu söylenebilir?

- A) 4 B) 3 C) 2 D) 1

6-)

Doğu ile batı kültürlerinin birbirlerini etkilemesinde önemli yollardan biri olan İpek Yolu'nda ipeğin yanında porselen, kağıt, baharat, kürk ve değerli taşlarda taşınmıştır. Ayrıca İpek Yolu iki bin yıldan beri bölgede yaşayan farklı kültürlerin, ırkların ve devrin izlerini taşımaktadır.

Bu bilgilere bakılarak İpek Yolu ile ilgili aşağıdakilerden hangisi söylenemez?

- A) Farklı ürünlerin satıldığı
- B) Eski bir geçmişe sahip olduğu
- C) Farklı kültürlerin kaynaşmasını sağladığı
- D) Bir çok devletin ekonomisini canlandığı

7-) Orta Asya Türk Devletlerinde;

- Ülke doğu ve batı şeklinde ikiye ayrılarak yönetilmiştir.
- Devlet işleri son kararı yine hükümdarın verdiği Kurultay adlı mecliste görüşülmüştür.
- Halk yazın yaylalarda, kışın ise kışlık denilen ovalık alanlarda yaşamlarını sürdürmüştür.

Bu bilgilere göre, Orta Asya Türk Devletleri ile ilgili aşağıdakilerden hangisine ulaşılamaz?

- A) Yarı göçebe bir yaşam tarzının benimsendiğine
- B) Ekonomilerinin tarıma dayalı olduğuna
- C) Kurultayın danışma meclisi görevi gördüğüne
- D) Merkezi yönetim anlayışının uygulanmadığına

8-) Emeviler Dönemi'nde;

- Halifelik babadan oğula geçen bir yönetim şekline dönmüştür.
- İlk islam parası bastırılmış, Arapça resmi dil haline getirilmiştir.
- Kuzey Afrika'nın fethi tamamlanmış, İspanya'ya geçilmiştir.

Buna göre, Emeviler ile ilgili aşağıdaki yargılardan hangisi söylenemez?

- A) Halifelik saltanata dönüşmüştür.
- B) Ekonomik yapı güçlendirilmiştir.
- C) İç karışıklıklara son verilmiştir.
- D) Arap Yarımadası dışında fetihler yapılmıştır.

9-)

- Karluk yağma ve çihil Türklerinden oluşmuştur
- İslamiyeti kabul eden ilk Türk devleti sayılır
- Kaşgarlı Mahmut ve Yusuf Has Hacib önemli düşünürlerindendir
- Türkçeyi resmi dil olarak ilan eden ilk Türk devletidir.

Yukarıda özellikleri verilen Türk devleti hangisidir?

- A) Gazneliler
- B) Karahanlılar
- C) Selçuklular
- D) Abbasiler

10-) Tarım, hayvancılık ve yer altı kaynaklarının işletilerek değerlerini artıran, kullanım alanlarını genişleten faaliyetler bütününe "Endüstri" diğer adıyla "Sanayi" denir.

Bu tanıma göre aşağıdaki faaliyetlerden hangisi endüstriyel bir faaliyet olarak gösterilemez?

- A) Otomobil üretimi yapmak
- B) Mobilya, beyaz eşya, porselen üretmek
- C) Zeytinyağı ve Ayçiçek yağı üretmek
- D) Hastane ve oyun alanları yapmak

11-)

Abbasiler Dönemi'nde İslamiyet, Türkler arasında hızlı bir şekilde yayılma olanağı bulmuştur.

Bu durumun oluşmasında;

- I. Talas Savaşı'nda Türklerin Abbasilere yardım etmeleri,
- II. İki toplumun birbiri ile iyi ilişkiler içinde olmaları,
- III. Abbasilerin hoşgörülü bir siyaset izlemeleri

gelişmelerinden hangileri etkili olmuştur?

- A) I ve II.
- B) I ve III.
- C) II ve III.
- D) I, II ve III.

12-) Aşağıda verilenlerden hangisinde iklime bağlılık yoktur?

- A) Tarım ürünleri
- B) Turizm etkinlikleri
- C) Yer altı kaynakları
- D) Kerestecilik

13-) Aşağıda Ahmet Cihangir ve Zehra Betül'ün birlikte hazırlayacağı proje ile ilgili bilgiler verilmiştir.

Projenin adı: "Süt İçelim"

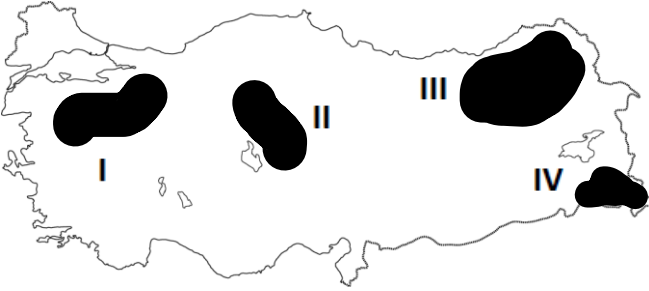
Projenin Amacı: Çocukların büyümesi ve gelişmesi için çok gerekli olan sütü, modern fabrikalarda işleyip paketleyerek dünyadaki tüm okullarda en çok tüketilen içecek haline getirmek.

Fabrikanın yapılacağı yer: Erzurum – Kars Yöresi

Ahmet Cihangir ve Zehra Betül'ün süt fabrikasını kuracağı yeri belirlerken, aşağıdakilerden hangisini dikkate aldığı söylenebilir?

- A) Enerji kaynağına yakınlığını
- B) Pazarlama olanaklarının gelişmiş olmasını
- C) Ulaşımın kolay olmasını
- D) Hammaddeye yakınlığını

14-)



Yukarıda verilen Türkiye haritasında işaretli alanlarda yapılan hayvancılık faaliyeti aşağıdakilerden hangisinde doğru eşleştirilmiştir?

	I	II	III	IV
A)	Kümes Hayvancılığı	Tiftik Keçisi	Büyükbaş Hayvancılık	Arıcılık
B)	İpek Böceği	Arıcılık	Kümes Hayvancılığı	Küçükbaş Hayvancılığı
C)	Arıcılık	Kıl Keçisi	Büyükbaş Hayvancılığı	Kümes Hayvancılığı
D)	Besi Hayvancılığı	İpek Böceği	Arıcılık	Kümes Hayvancılığı

15-)



Yukarıda verilen işaretli yerlerde yetişen tarım ürünleri aşağıdakilerden hangisinde doğru bir şekilde eşleştirilmiştir?

	I	II	III
A)	Ayçiçeği	Arpa	Zeytin
B)	Buğday	Çavdar	Turunçgiller
C)	Ayçiçeği	Buğday	Çay
D)	Şeftali	Haşhaş	Kivi

16-)

- Gelişmiş bir ülkedir.
- Dış ticaret açığı fazla olur.
- Bu ülke hammadde ithal eder

Bir ülkenin ihracatında tarım ürünleri ithalatında ise sanayi ürünleri fazla yer kaplıyorsa, bu ülke için yukarıdaki yorumlardan hangisi veya hangileri yapılabilir?

- Yalnız I
- Yalnız II
- I ve II
- I ve III

17-) Aşağıdaki tabloda nüfus miktarları farklı olan iki ülkede, çalışan nüfusun sektörlere göre dağılımı verilmiştir.

Ülkeler	Tarım%	Sanayi %	Hizmet %
I.	65	25	10
II.	10	25	65

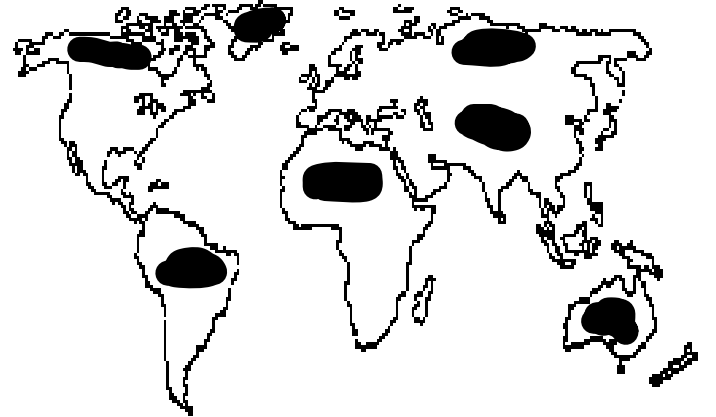
Tablo incelendiğinde;

- Birinci ülkede tarımda çalışan insan sayısı, ikinci ülkede hizmet sektöründe çalışan insan sayısına eşittir.
- İki ülkede de çalışan nüfusun 1/4'ü sanayi sektöründe çalışmaktadır.
- İkinci ülke daha gelişmiş bir ülkedir.

yargılarından hangilerine ulaşılır?

- Yalnız III
- I ve II
- II ve III
- I, II ve III





18-)



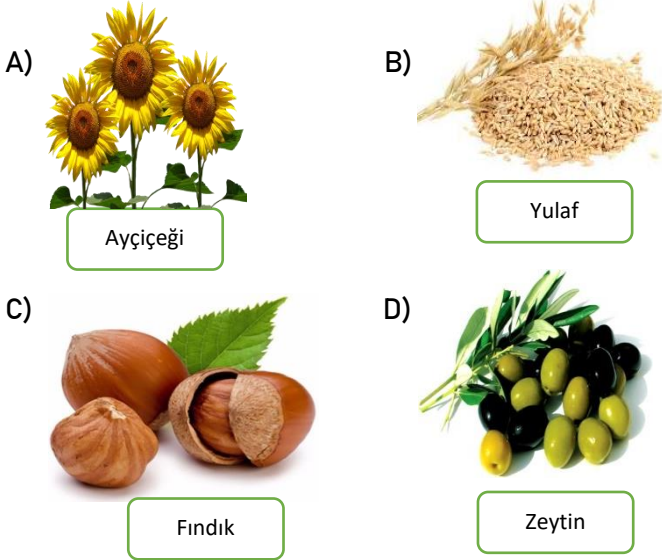
Yukarıda dünyada nüfusun dağılışı ile ilgili verilen taralı alanların ortak özelliği aşağıdakilerden hangisidir?

- Nüfusun seyrek olduğu alanlar
- Nüfus yoğunluğunun fazla olduğu yerler
- Nüfusu 10 Milyonun üzerindeki kentler
- Nüfusun yoğun olduğu yerler

19-) Aşağıda enerji kaynaklarımızdan hangisi yenilenebilir özelliğe sahip değildir?

A)		B)	
	Güneş Enerjisi		Rüzgâr Enerjisi
C)		D)	
	Jeotermal Enerji		Nükleer Enerji

20-) Aşağıda verilen tarım ürünlerinden hangisinde bitkisel yağ elde edilemez?



Türkiye haritasında işaretli yerlerde çıkarılan madenler aşağıda hangisinde doğru bir şekilde eşleştirilmiştir?

	Balıkesir	Zonguldak	Divriği	Murgul
A)	Bor	Taş Kömürü	Demir	Bakır
B)	Linyit	Elmas	Demir	Krom
C)	Bor	Linyit	Petrol	Altın
D)	Mermer	Taş Kömürü	Alüminyum	Demir

22-) 

İnsanlara yardım etmeyi çok severim. Kişilik olarak bir insanı dinlemek bana huzur verir. Onun problemlerini çözebildiğim en büyük huzurum. Kısacası insan canlısıyım.

Zehra Betül'ün anlattıklarına bakarak aşağıdaki mesleklerden hangisi kişilik özelliklerine daha uygundur?


- A) Pilot B) Psikolog
C) Öğretmen D) Veteriner

23-) 

Yukarıda ülkemizin kara sınır komşularımız olan ülkelere ihracat, ithalat ve yolcu giril çıkışları aşağıdakilerden hangisi aracılığıyla yapılmaktadır?

- A) Ticaret Limanları ile B) Havalimanları ile
C) Gümrük Kapıları ile D) Tren İstasyonları ile

24-) Aşağıda verilenlerden hangisi ithal ürünlerimiz arasında yer almamaktadır?



25-) 

İrem Hanım, KOSGEB(Küçük ve Orta Ölçekli İşletmeleri Geliştirme ve Destekleme İdaresi Başkanlığı)'ın verdiği Hibe ve Krediyle birlikte fabrika açtı. Nakliye için 7 kamyonet ve bir de otomobil aldı. İşyerindeki elemanlarına yemek için marketten yiyecek ve içecekler aldı. Vergilerini düzenli ödediği için İstanbul Defterdarı tarafından tebrik edildi.

İrem Hanım ile ilgili verilen girişimcilik örneğinden hangi vergi çeşidine ulaşamaz?

- A) Kurumlar Vergisi B) MTV
C) Emlak Vergisi D) KDV