


*Aşağıdaki sayı örüntülerinin kuralını belirleyiniz.



Kural:



Kural:



Kural:



Kural:



Kural:

*Aşağıda verilen sayıya ve kurala uygun örüntüler oluşturunuz.

Kural: 3 artar.



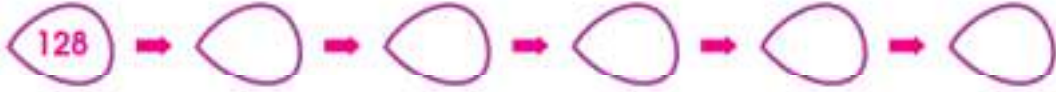
Kural: 2 artar.



Kural: 2 katına çıkar.




Kural: Yarıya düşer.



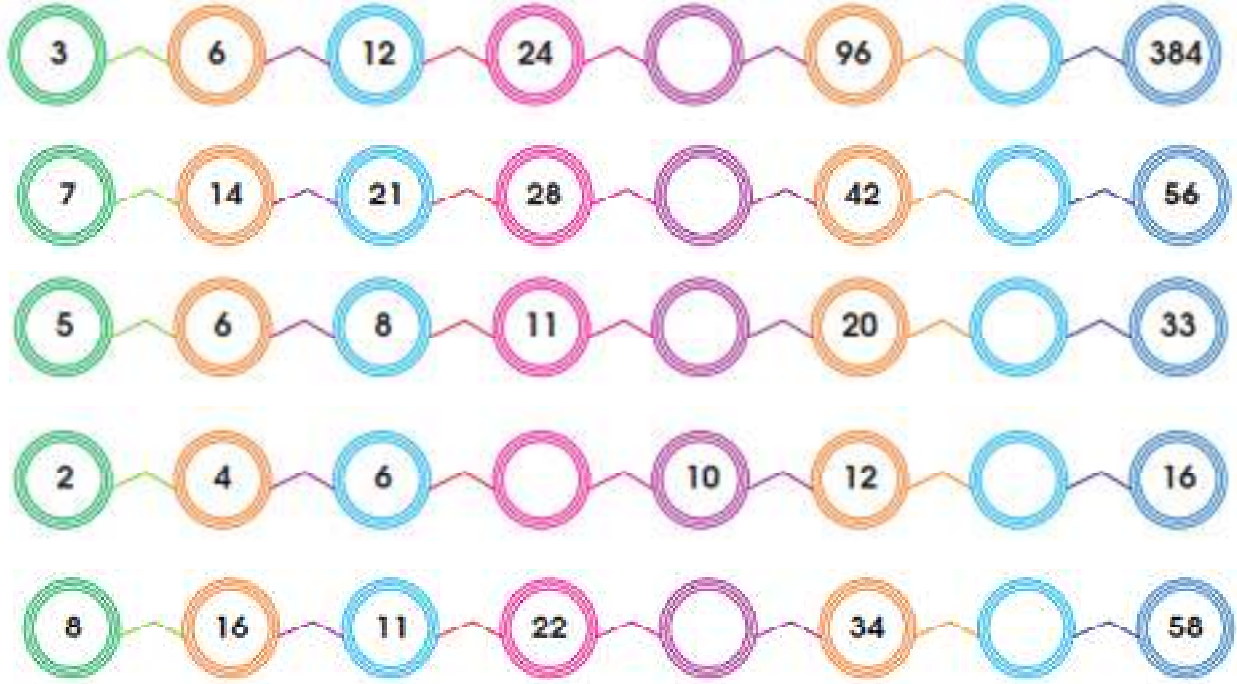
Kural: 5 artar.



Kural: 3 artar, 1 azalır



*Aşağıda verilen örüntülerdeki eksik bölümleri tamamlayınız.



*Aşağıda verilen sayı örüntülerinin kuralını belirleyerek devam ettiriniz



Kural:



Kural:



Kural:



Kural:



Kural:



Kural: