




Adı :
Soyadı :
Sınıf/No :/.....



1. Hangi sayının 4 katının 3 eksiğinin 24 fazlası 53 'dür?
- A) 5 B) 10
C) 8 D) 7
2.  Bir günde 240 sayfa kitap okuyorum.
-  Bir günde 180 sayfa kitap okuyorum.
- Buna göre Gizem ve Ahmet'in bir hafta sonunda okudukları kitap sayfalarının toplamı kaçtır?

- A) 1260 B) 2940
C) 788 D) 1680

3.  Aylık 120 liradan 8 taksitle almış olduğum bisikletimi 1200 liraya satarsam ne kadar kar elde etmiş olurum?

- A) 850 B) 960
C) 240 D) 1320

4. Aşağıdaki çarpma işlemlerinden hangisinin sonucu en küçüktür?

- A) 48×50 B) 232×5
C) 52×25 D) 10×91

5. Aşağıdaki çarpma işlemlerinden hangisinin sonucu yanlıştır?

- A) $(6 \times 7) \times 14 = 588$ B) $(12 \times 5) \times 3 = 180$
C) $(24 \times 6) \times 3 = 402$ D) $(18 \times 2) \times 4 = 144$

6. $(4 \times \heartsuit) \times 7 = 12 \times 7$

Yukarıdaki eşitlikte  sembolü yerine hangi sayı yazılmalıdır?

- A) 2 B) 4
C) 3 D) 5

Özgür Eşiyok

7. Bir bahçede 15 adet elma ağacı ve her ağaçta 125 adet elma vardır. Buna göre bahçede bulunan elmaların sayısı kaçtır?

- A) 1850 B) 1875
C) 5680 D) 1680

8. 28245 sayısının onlar basamağındaki sayının basamak değeri ile binler basamağındaki sayının sayı değerleri çarpımı kaç olur?

- A) 8210 B) 2850
C) 3200 D) 1890

9. Her gün 480 adet ekmek satan bir fırın 6.günün sonunda 3000 ekmek satmış olmak için ek olarak kaç adet daha ekmek pişirmelidir?

- A) 2880 B) 320
C) 280 D) 120

Adı :
Soyadı :
Sınıf/No :/.....



10.



Bir köprüden saatte 128 adet araç geçmektedir. 5 saatin sonunda köprüden toplam kaç araba geçmiştir?

- A) 680
B) 640
C) 788
D) 780

11.

$$\begin{aligned} A + 5 &= 20 \\ B \times 2 &= 10 \\ C \times 6 &= 18 \end{aligned}$$

Olduğuna göre $A \times B \times C = ?$

- A) 150
B) 125
C) 225
D) 250

12.



Bir gökdelende çıkan yangına müdahale etmek isteyen itfaiye aracı her biri 68 basamaktan oluşan 8 adet merdiven kullanmıştır. Buna göre toplam kaç basamaklı bir merdiven oluşmuştur?


- A) 76
B) 544
C) 530
D) 1580

13.

Bir film gösterimi için tanesi 25 lira olan biletlerin 20 lirası film şirketine 5 lirası ise sinema salonuna hasılat olarak kalmaktadır. Bu biletlerden 86 adet satıldığına göre film şirketi sinema salonundan kaç lira daha fazla para kazanmıştır?

- A) 760
B) 1290
C) 530
D) 1580


14.



Bir şantiyede çalışan forklift tek seferde her biri 75 kg ağırlığında olan 3 paketi aynı anda kamyonu yüklemektedir. Kamyonu 5 kez yükleme yaptığına göre toplam kaç kg yük taşımıştır?

- A) 1125
B) 2225
C) 2550
D) 2300

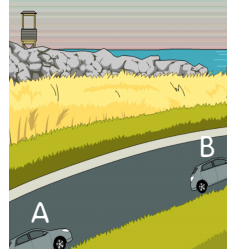
15.



Bir çiftlikte 12 adet inek vardır. Bu ineklerden bir tanesi günde 24 lt süt verdiğine göre 3 günün sonunda toplam kaç lt süt elde edilmiştir?

- A) 288
B) 72
C) 324
D) 864


16.



Bir taksi A noktasından 4 saat sonra B noktasına ulaşıyor. Bir saatte 125 km yol gittiğine göre A noktası ile B noktası arası mesafe toplam kaç km dir?

- A) 450
B) 500
C) 540
D) 550

17.



Her bahar mevsiminde göç eden bir leylek günde 48 km uçarak 25 gün uçtuğunda hedefine 33 km daha yolu kalıyor. Buna göre leylek hedefine ulaştığında toplam kaç km uçuş yapmıştır?

- A) 1200
B) 1584
C) 1450
D) 1233