

ADI-SOYADI:

PUAN:

1. Aşağıdaki boşlukları uygun ifadelerle doldurunuz.(10 puan)

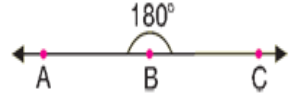
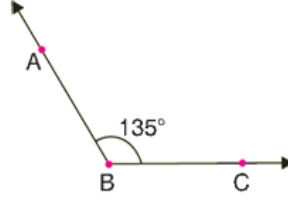
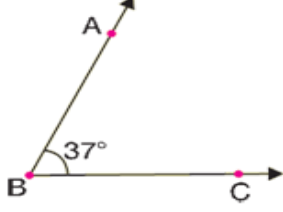
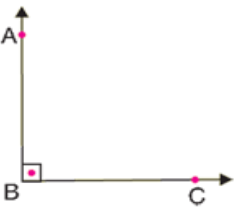
a-90 dereceden küçük olan açılaradenir.

b-90 derece olan açıyadenir.

c-90 dereceden büyük olan açılara denir.

d-ölçüsü 180 derece olan açılara denir.

2.Aşağıdaki açıları çeşitlerine göre isimlendiriniz.(10 puan)



.....

3- Aşağıda verilen açıları çiziniz. (Açıları çizerken isimlerini yazmayı unutmayınız) (20 P)

1- $\widehat{ABC} = 60^\circ$

3- $\widehat{CVB} = 90^\circ$

2- $\widehat{DEF} = 120^\circ$

4- $\widehat{PTS} = 80^\circ$

4- Tanımlara uyan açıları eşleştiriniz.

(5 puan)

- | | |
|--------------------------------|-----------|
| 1) "90°" lik açı | Dar açı |
| 2) "0° ile 90°" arası açılar | Doğru açı |
| 3) "90° ile 180°" arası açılar | Dik açı |
| 4) "180°" lik açı | Geniş açı |

5- Aşağıdaki açılardan hangisi en büyük dar açıdır? (5 puan)

- A) 89° B) 60° C) 91° D) 90°

6- Aşağıdakilerden hangisi en küçük geniş açıdır? (5 puan)

- A) 91° B) 120° C) 99° D) 130°

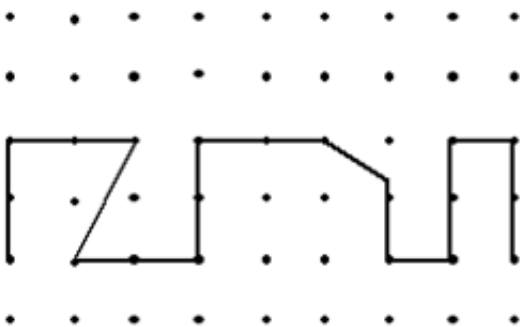
7- 50° açığa kaç derecelik açı daha eklersek dik açı olur? (5 puan)

- A) 40° B) 30° C) 45° D) 50°

8- Aşağıdaki açılardan hangisi en büyük geniş açıdır? (5 puan)

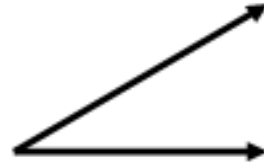
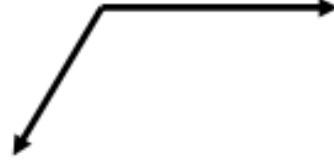
- A) 89° B) 60° C) 91° D) 90°

9- Aşağıdaki şekilde kaç tane dik açı vardır ? (5 puan)



- A) 5 B) 6 C) 7 D) 8

10- Aşağıda verilen açıları ölçünüz. (15 P)



12- Aşağıdaki şekillerde verilmeyen açıları bulunuz. (15 P)

