
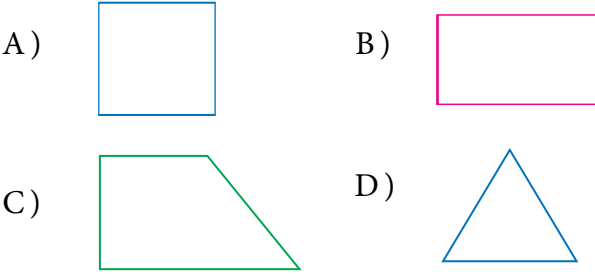


1. Aşağıdakilerden hangisi yanda verilen geometrik cismin kenarlarından biri değildir?

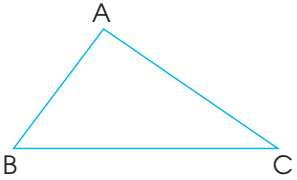


- A) [AB] B) [BD]
C) [CD] D) [AD]


2. Aşağıdaki geometrik şekillerden hangisinin köşegeni yoktur?



3. Yandaki üçgenin sembol ile gösterimi aşağıdakilerden hangisidir?

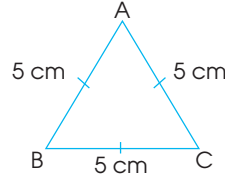


- A) \widehat{ABC} B) [ACB]
C) \widehat{ABC} D) ACD]



- A) ACDB C) BCDA
B) ABCD D) CDAB

5. Aşağıdakilerden hangisi yandaki üçgen ile ilgili doğru bir bilgi değildir?

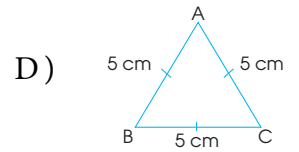
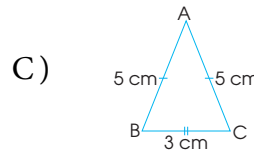
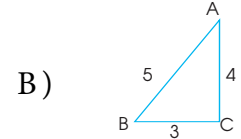
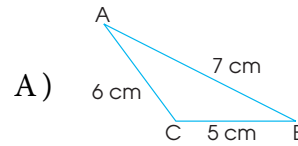


- A) Kenarları [AC],[AB],[BC] 'dir.
B) Tüm kenar uzunlukları eşittir.
C) ADB üçgenidir.
D) Eşkenar bir üçgendir.

6. Aşağıdaki bilgilerden hangisi yanlıştır?

- A) Dikdörtgenin dört köşegeni vardır.
B) Karenin dört kenarı vardır.
C) Dikdörtgenin 2 uzun, 2 kısa kenarı vardır.
D) İkizkenar üçgenin 2 kenar uzunluğu eşittir.

7. Aşağıdakilerden hangisi ikizkenar üçgendir?



8. I. Üçgenin köşegeni yoktur.
II. Karenin iki köşegeni vardır.
III. Dikdörtgenin tüm kenar uzunlukları eşittir.

Yukarıda verilenlerden hangileri doğrudur?

- A) II ve III B) I ve II
C) I,II ve III D) Yalnız III

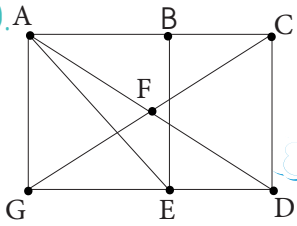
9.

- I. $[AB]$ III. $[AB]$
II. \overline{AB} IV. $|AB|$

Yukarıdaki bilgilerden hangileri bir üçgenin kenarlarını göstermek için kullanılan sembollerdendir?

- A) II ve III B) I ve IV
C) II ve IV D) I ve II

10.



Yandaki şekilde hangi iki noktayı birleştirsem köşegen **oluştur-**
mamış olurum?

- A) A ve C B) A ve D
C) G ve C D) A ve E

11.

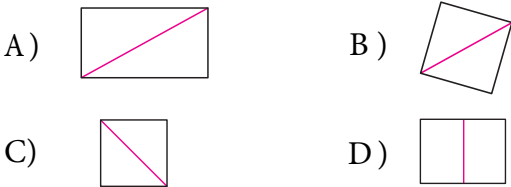


Yandaki şeklin kaç köşesi, kaç köşegeni vardır?

- A) 3 Köşe, 2 Köşegen B) 4 Köşe, 2 Köşegen
C) 2 Köşe, 3 köşegen D) 5 köşe, 3 Köşegen

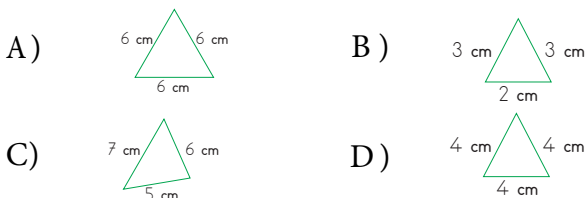
12.

Aşağıdakilerden hangisinde çizilen kırmızı çizgi köşegeni ifade **etmez**?

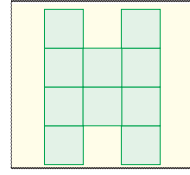


13.

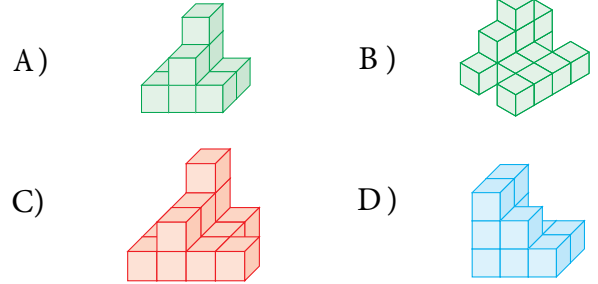
Aşağıdakilerden hangisinde çizilen üçgen çeşit kenar üçgendir?



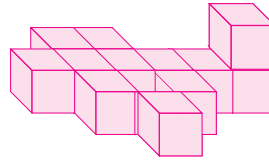
13.



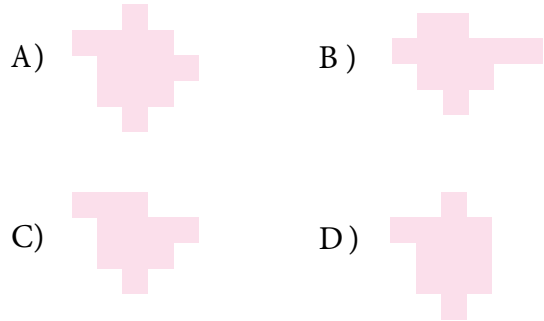
Üstten görünümü yandaki gibi olan, eş küplerden oluşan şekil aşağıdakilerden hangisi olabilir?



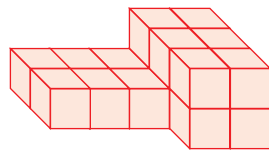
14.



Eş küplerden oluşturulan yukarıdaki şeklin tabanına pembe boya sürülüp beyaz kağıda baskı alındığında oluşacak görüntü nasıl olur?



15.



Eş küplerle oluşturulan, yukarıda verilen yapının planı aşağıdakilerden hangisidir?

