

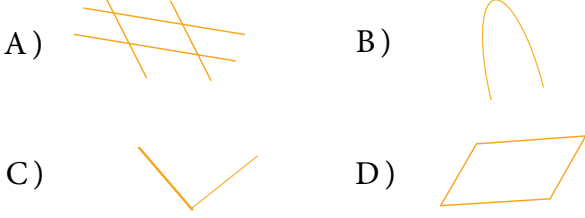
Adı :
Soyadı :
Sınıf/No :/.....



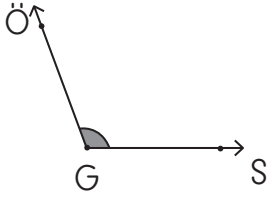
4. Sınıf
Açılar ve Açı Çeşitleri

A U Y A U L

1. Aşağıdakilerden hangisinde bir açı söz konusu **değildir**?

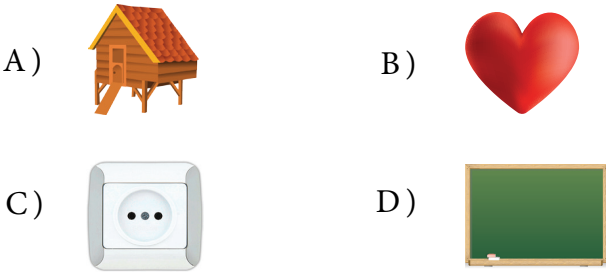


2. Şekildeki açının isimlendirilmesi hangi seçenekte **yanlış** yapılmıştır?

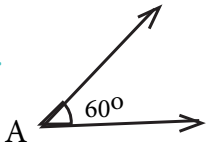


- A) $\widehat{SGÖ}$ B) $\widehat{SÖG}$
C) $\widehat{ÖGS}$ D) \widehat{G}

3. Aşağıdaki resimlerin hangisinde açığa örnek **yoktur**?

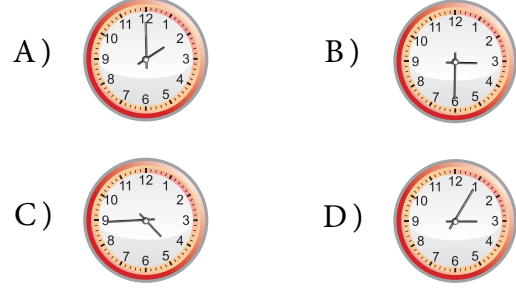


4. Yandaki şekil ile ilgili aşağıdakilerden hangisi **söylenemez**?



- A) 2 Kenarı 1 köşesi vardır.
B) A açısı bir dik açıdır.
C) A açısı 60° dir
D) A açısı bir dar açıdır.

5. Aşağıdaki saatlerden hangisinde akrep ile yelkovan arasındaki açı **dik** açıdır?



6. En büyük geniş açı ile en küçük dar açının toplamı kaç derece olur?

- A) 1 B) 179
C) 180 D) 181

7. Toplamları dik açı olan iki dar açıdan biri 50° ise diğeri diğeri kaç derecedir?

- A) 40 B) 50
C) 60 D) 70

8. Bir dik açı ile bir dar açının toplamı 160° ise dar açı kaç derecedir?

- A) 70 B) 80
C) 90 D) 110

9.

- I. Dar açılar, dik açılardan daima küçüktür.
II. 48° lik açının 30° fazlası geniş açıdır.
III. Bir dik açının $\frac{2}{3}$ 'si 60° dir.
IV. Açıları ölçmek için cetvel kullanırız.

Yukarıda verilenlerden hangileri doğrudur?

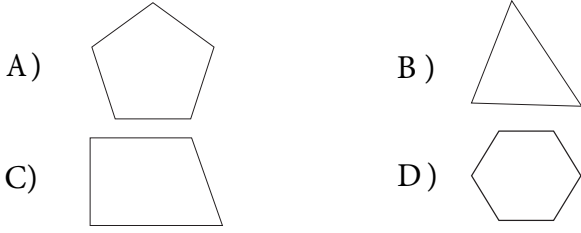
- A) I ve III B) I ve II
C) II,III ve IV D) II ve IV



10. "OSMAN" sözcüğünde açı oluşturmayan kaç harf vardır?

A) 1 B) 2 C) 3 D) 4

11. Açı sayısı en fazla olan şekil aşağıdakilerden hangisidir?



12. Bir dar açının ölçüsü, bir doğru açının $\frac{2}{6}$ ' si kadar olduğuna göre dar açı kaç derecedir?

A) 30° B) 45° C) 60° D) 90°

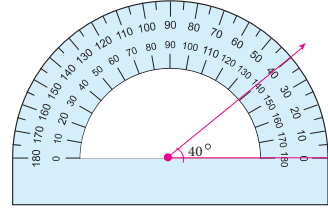
13. $|EA| \perp |AB|$ ise $s(\widehat{EAD})$ kaç derecedir?

A) 5° B) 10° C) 15° D) 30°

14. ABC doğrusaldır. Verilenlere göre $s(\widehat{DBE})$ kaç derecedir?

A) 20° B) 25°
C) 30° D) 40°

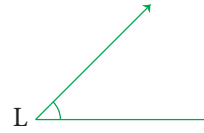
15.



Yukarıdaki şekil ile ilgili aşağıdaki ifadelerden hangisi doğrudur?

- A) A açısı dik açıdır.
B) A açısının ölçüsü 40° dir.
C) A açısı geniş açıdır.
D) $s(\widehat{A}) = 60^\circ$ dir.

16.

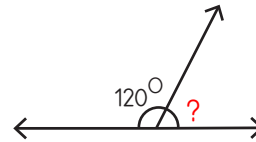


L açısının ölçüsü aşağıdakilerden hangisi olabilir?

A) 40° B) 90° C) 100° D) 120°

Özgür Eşiyok

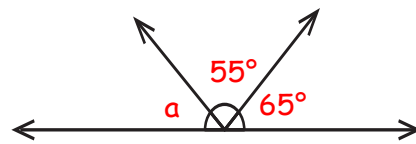
17.



Verilenlere göre " ? " ile gösterilen açı kaç derecedir?

A) 40° B) 50 C) 60° D) 100°

18.



Verilenlere göre "a" ile gösterilen açı kaç derecedir?

A) 30° B) 40 C) 50° D) 60°