

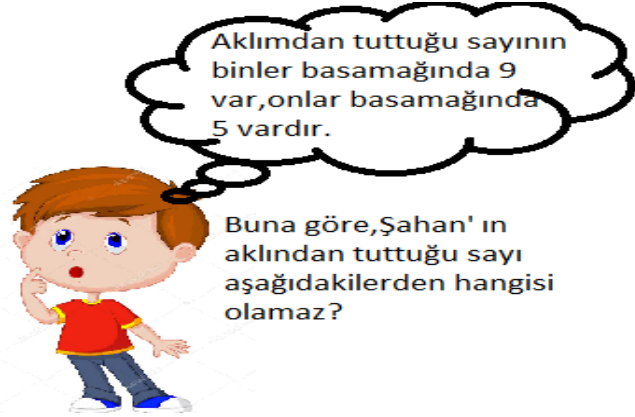
YDGF MATEMATİK KAZANIM DEĞERLENDİRME

a	8302		Sekiz bin yirmi üç
b	8203		Sekiz bin üç yüz iki
c	8023		Sekiz bin iki yüz otuz
d	8230		Sekiz bin yirmi üç

1) Yukarıda harflerle verilmiş olan sayıların okunuşlarıyla eşleştirdiğimizde harflerin sıralaması nasıl olur?

A)	b	d	a	c
B)	c	a	d	b
C)	d	b	c	a
D)	a	c	b	d

2)



- A) Elli dokuz bin yedi yüz elli iki
B) On dokuz bin elli dokuz
C) Doksan bin üç yüz beş
D) Kırk okuz bin dokuz yüz elli dokuz

3)



Okunuşu: Yedi yüz otuz bir bin dört yüz yirmi sekiz

Yukarıda okunuşu verilen sayıya göre kaçtır?



- A) 11
B) 10
C) 9
D) 8

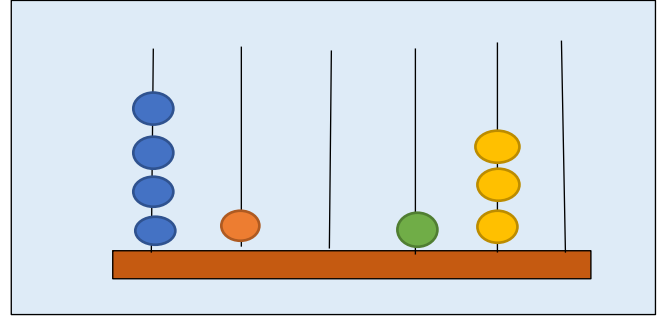
4)

6 , 1 , 9 , 3 , 8

Yukarıda verilen rakamlarla oluşturulan sayılarla ilgili aşağıdaki ifadelerden hangisi yanlıştır.

- A) Birler basamağı tek olan yazılabilecek en büyük sayı 98 613' tür.
B) Sekizle başlayan en büyük sayı 89 631' dir.
C) Okunuşu, on üç bin altı yüz seksen dokuz sayısı yazılabilecek en küçük sayıdır.
D) Yazılabilecek sayıların sayı değerleri toplamı 27' dir.

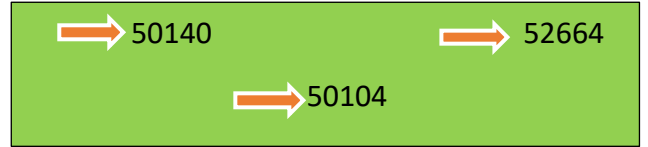
5)



Abaküste belirtilen sayının aşağıdakilerden hangisidir?

- A) 41130 B) 410103 C) 410130 D) 41013

6)



Yukarıda verilen sayıları aşağıdaki okunuşlarıyla eşleştirdiğimizde hangisi boşta kalır?

- A) Elli bin yüz dört
B) Elli bin dört yüz on
C) Elli iki bin altı yüz altmış dört
D) Elli bin yüz kırk

7)

İ	→	7
V	→	2
S	→	9
E	→	0
G	→	4

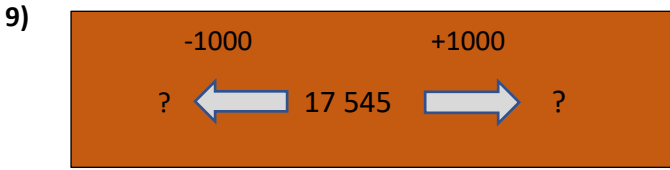
Yanda verilen şifrelemeyi inceleyerek "SEVGİ" kelimesinin oluşturduğu sayının okunuşu aşağıdakilerden hangisidir?

- A) Doksan bin iki yüz yetmiş dört
B) Yetmiş iki bin dokuz yüz dört
C) Kırk dokuz bin yedi yüz yirmi
D) Doksan bin iki yüz kırk yedi

8) Okunuşu: On dokuz bin yedi yüz doksan beş

Yukarıda okunuşu verilen sayıda hangi basamaklarda bulunan sayıların sayı değeri aynıdır?

A)	On binler	Yüzler
B)	Yüzler	Binler
C)	Binler	Onlar
D)	Yüzler	Birler



Şemada verilen önergelere göre soru işareti olan yerlere hangi sayılar gelmelidir?

- A) 16 545 / 18 545
B) 17 445 / 17 645
C) 16 445 / 18 445
D) 17 500 / 17 600

10) 4 930 → A B

Yukarıdaki sayıdan başlayıp ileriye doğru sayan Harun Alp, A ve B yi hangi seçenekte doğru söylemiştir.

A)	5 130	5 330
B)	5 030	5 230
C)	5 230	5 330
D)	5 930	6 930

- 11) → Yüzbinler Basamağı : 4
→ Onlar Basamağı : 0
→ Yüzler Basamağı : 8
→ Birler Basamağı : 1

Yukarıda belirtilen sayı aşağıdakilerden hangisidir?

- A) 40 801
B) 480 100
C) 400 810
D) 400 801

12) ✨ 500'den başlayıp ileriye doğru 100' er saydığımızda 8. Söylediğimiz sayı 1200' dür.

→ 1200' den başlayıp ileriye doğru 1000' er saydığımızda 6. Söylediğimiz sayı 7200' dür.

→ 7200' den başlayıp geriye doğru 100' er saydığımızda 5.sayı 6800' dür.

→ 6800' den başlayarak geriye doğru 1000' er saydığımızda 4.sayı 2800' dür.

Yukarıda verilen öncülardan kaç tanesi doğrudur?

- A)4 B)3 C)2 D)1

13) 9999 + 1 işleminin sonucunda ortaya çıkan yeni basamağın adı aşağıdaki seçeneklerden hangisinde verilmiştir?

- A) Yüzbinler Basamağı
B) Binler Basamağı
C) Onbinler Basamağı
D) Yüzler Basamağı

12)

32 808
3 080
330 008


Yandaki kutuda verilen sayıların okunuşları aşağıda verilmiştir.

Buna göre hangi okunuşun sayısı yukarıda yoktur?

- A) Otuz iki bin sekiz yüz sekiz
B) Otuz üç bin sekiz
C) Üç bin seksen
D) Üç yüz otuz bin sekiz

13)

72 812 sayısının onbinler basamağını 3 artırıp onlar basamağında 1 azaltırsak yeni oluşan sayının okunuşu nasıl olur?



- A)Yetmiş dört bin sekiz yüz iki
B)Yetmiş beş bin yedi yüz on iki
C)Yetmiş beş bin sekiz yüz iki
D)Yetmiş üç bin sekiz yüz kırk iki