


3. SINIF MATEMATİK DERSİ SAYILAR GENEL TEKRAR ETKİNLİĞİ



Taşlarımızı yukarıdaki dikdörtgenlere yerleştiriyoruz.

1. Taşları kullanarak üç tane sayı oluşturalım

a) _____ b) _____ c) _____

2. Oluşturduğumuz sayıların okunuşlarını yazalım.

a) _____ :

b) _____ :

c) _____ :

3. Oluşturduğumuz sayıları büyükten küçüğe sıralayalım

_____ > _____ > _____

4. Oluşturduğumuz sayıları küçükten büyüğe sıralayalım

5. _____ < _____ < _____

6. Sayıları en yakın onluğa ve yüzlüğe yuvarlayalım.


Onluğa a) _____ → _____ b) _____ → _____ c) _____ → _____

Yüzlüğe a) _____ → _____ b) _____ → _____ c) _____ → _____

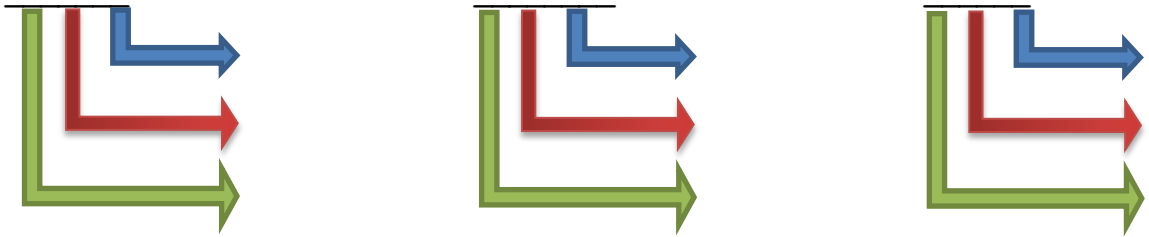
7. Oluşturduğumuz sayıların birini seçelim. Üzerine 3'er, 4'er, 5'er, 6'şar, 7'şer, 8'er ritmik sayma yapalım.

3'er _____:
4'er _____:
5'er _____:
6'şar _____:
7'şer _____:
8'er _____:

8. Oluşturduğumuz sayıların basamak adlarını yazalım.



9. Oluşturduğumuz sayıların basamak değerlerini yazalım.



10. Oluşturduğumuz sayıları tek ve çift sayı olarak gruplandıralım.

Tek Sayılar	Çift Sayılar