

# 3-E SINIFI MATEMATİK ÇALIŞMALARI

## SAYI ÖRÜNTÜSÜNÜ GENİŞLETELİM

1-  $87 - 92 - 91 - ? - 95 - 100 - 99$  sayı dizisinde “?” olan yere hangi sayı gelmelidir?

A) 94      B) 95      C) 96

2-  $74, 80, 86, 91, 98$  sayısal örüntüde kuralı bozan sayı aşağıdakilerden hangisidir?

A) 86      B) 91      C) 98

3-  $39 - 43 - 47 - 51 - 55 - ? - 63 - 67$  örüntüde “?” yerine ne getirilmelidir?

A) 57      B) 58      C) 59

4-  $18 - 19 - 22 - 27 - ?$  örüntüde ? yerine hangi sayı gelmelidir?

A) 32      B) 33      C) 34

5-  $4 - 9 - 18 - 23 - 46 - ? \dots$  örüntüsünü devam ettiren sayı aşağıdakilerden hangisidir?

A) 92      B) 51      C) 56

6- Aşağıdaki sayı dizilerinden hangisi farklı bir kurala göre dizilmiştir?


A)  $21 - 28 - 35 - 42$

B)  $36 - 45 - 54 - 63$

C)  $72 - 81 - 90 - 99$

7-  $16 - 24 - 32 - ? - 48$  sayı dizisinde “?” işareti yerine hangi sayı gelmelidir?


A) 37      B) 38      C) 40



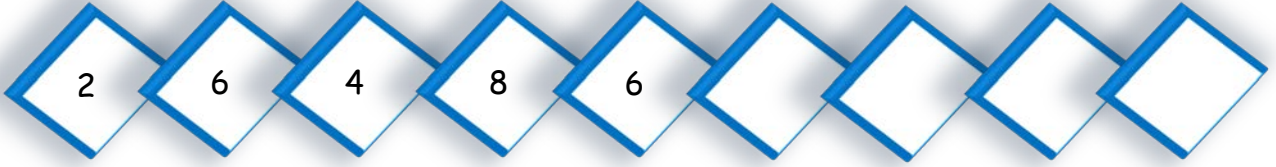
8- Yukarıdaki örüntüde boş bırakılan yere aşağıdakilerden hangisi getirilmelidir?

A) 25      B) 35      C) 45

9- Aşağıdaki örüntülerin kuralını bularak boş yerleri doldurunuz. Kuralı aşağıda belirtilen kısma yazınız.



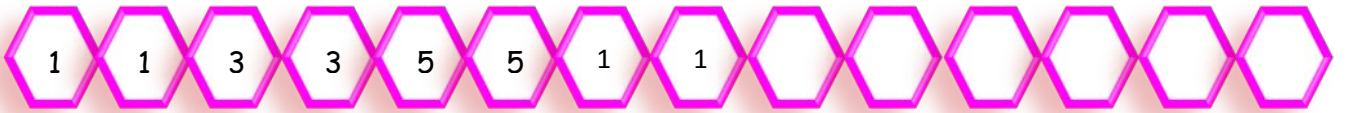
Kuralı:.....  
.....



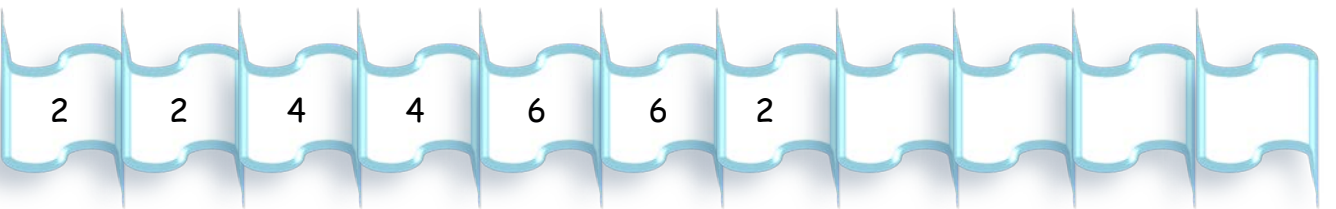
Kuralı:.....  
.....



Kuralı:.....  
.....



Kuralı:.....  
.....



Kuralı:.....  
.....