

DAKİKA SAAT DÖNÜŞTÜRME



Aşağıdaki boşlukları doldurun.

2 saat = dakika

60 dakika = saat



168 dakika = saat + dakika

www.ogretmenincantasi.com

Aşağıdaki boşlukları doldurun.




62 dakika = saat + dakika

1 saat + 28 dakika = dakika


3 saat = dakika

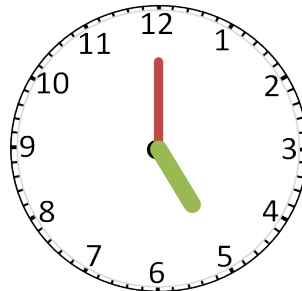
SAATLER (Önce Sonra)

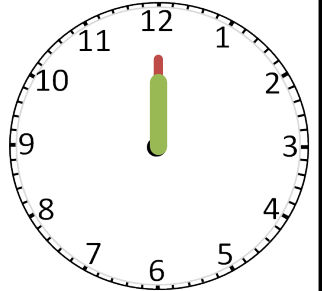
Gösterilen saatlerin istenen dakika kadar önceki ve sonraki saatlerini noktalı yerlere yazın.



35 dakika önce










35 dakika sonra


SAATLER (Çeyrek geçiyor - Çeyrek var)

Saatlerin kaçı gösterdiğini "çeyrek geçiyor, çeyrek var" ifadelerinden uygun olanını kullanarak yazın.









Örnek: "Biri çeyrek geçiyor."
veya "Bire çeyrek var."