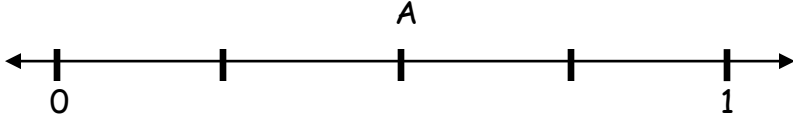


**Manisa Saruhanlı Heybeli İlkokulu 3.Sınıf**  
**Matematik "Kesirleri Sayı Doğrusunda Gösterme" (Test)**

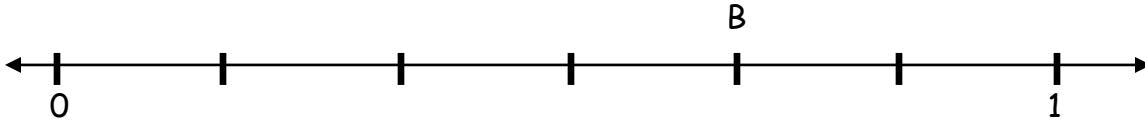


1 - Yukarıdaki sayı doğrusunda A yerine yazılacak olan kesir hangisidir?

A)  $\frac{2}{3}$

B)  $\frac{2}{4}$

C)  $\frac{2}{5}$

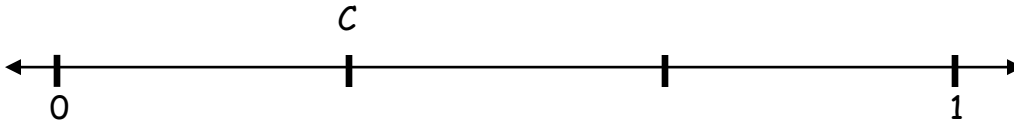


2 - Yukarıdaki sayı doğrusunda B yerine yazılacak olan kesir hangisidir?

A)  $\frac{3}{5}$

B)  $\frac{5}{7}$

C)  $\frac{4}{6}$

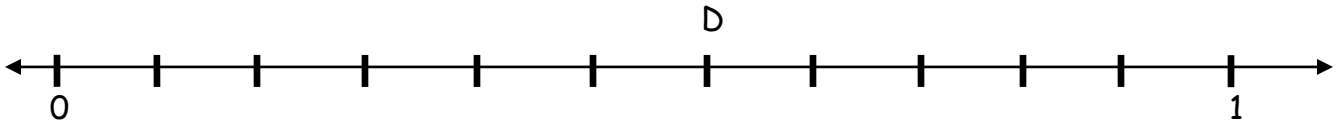


3 - Yukarıdaki sayı doğrusunda C yerine yazılacak olan kesir hangisidir?

A)  $\frac{1}{3}$

B)  $\frac{1}{4}$

C)  $\frac{1}{5}$




4 - Yukarıdaki sayı doğrusunda D yerine yazılacak olan kesirle ilgili hangisi yanlıştır?

A) Paydası 12'dir.

B) Payı 6'dır.

C) Bütün 11 eş parçaya ayrılmıştır.



5 - Yukarıdaki sayı doğrusunda E yerine yazılacak olan kesir hangisidir?

A)  $\frac{3}{4}$

B)  $\frac{5}{6}$

C)  $\frac{4}{5}$



6 - Yukarıdaki sayı doğrusunda  $\frac{5}{7}$  kesri hangi harfin yerine yazılmalıdır?

A) K

B) L

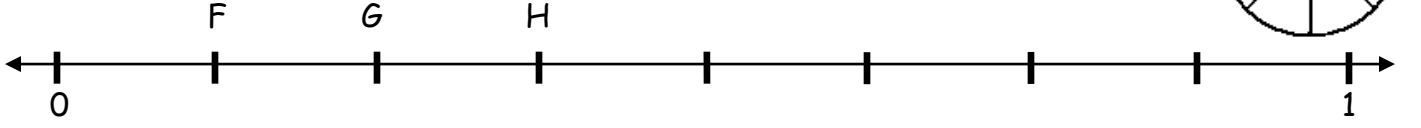
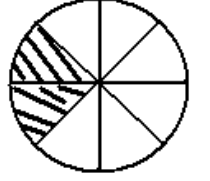
C) M

7 - Yandaki şeklin kesrini sayı doğrusunda gösterirsek hangi harfin olduğu yere yazmalıyız?

A) F

B) G

C) H

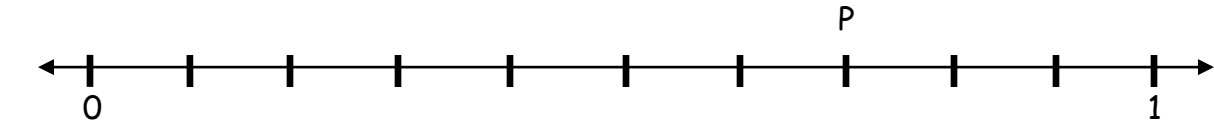
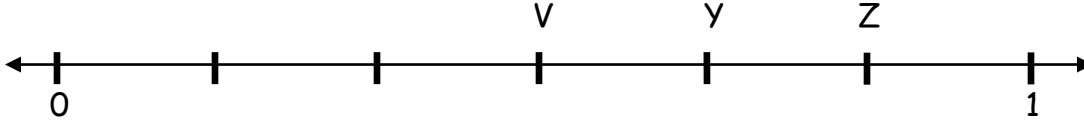
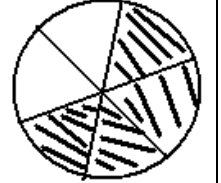


8 - Yandaki şeklin kesrini sayı doğrusunda gösterirsek hangi harfin olduğu yere yazmalıyız?

A) Z

B) Y

C) V

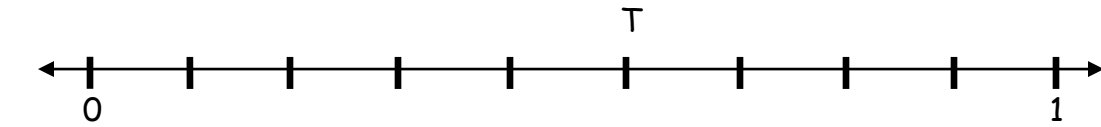


9 - Yukarıdaki sayı doğrusunda P yerine yazılacak olan kesir hangisidir?

A)  $\frac{7}{10}$

B)  $\frac{6}{9}$

C)  $\frac{6}{10}$

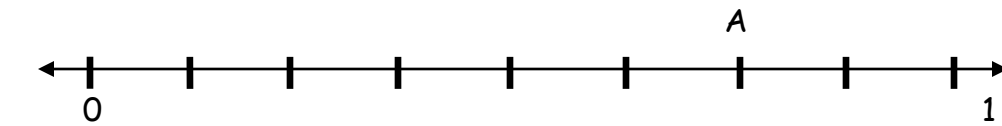


10 - Yukarıdaki sayı doğrusunda T yerine yazılacak olan kesir hangisidir?

A)  $\frac{7}{10}$

B)  $\frac{5}{9}$

C)  $\frac{6}{8}$



11 - Yukarıdaki sayı doğrusunda A yerine yazılacak olan kesirle ilgili hangisi yanlıştır?

A) Paydası 8'dir.

B) Payı 7'dir.

C) Bütünün 6 parçası alınmıştır.

12 - Yandaki şeklin kesrini sayı doğrusunda gösterirsek hangi harfin olduğu yere yazmalıyız?

A) P

B) R

C) S

