

**3.Sınıf Matematik "Gram, Kilogram ve Kütle Tahmini" Çalışma Etkinliği**

- kilogram
- gram
- metre




1 - Yukarıdaki ifadelerden hangisi tartma ile ilgili değildir?

- A) kilogram B) gram C) metre

2 - İfadelerden hangisi yanlıştır?

- A) 1 kilogram = 1000 g B) Yarım kilogram = 50 g C) Yarım kilogram = 500 g

3 - Hangisi gram ile tartılmaz?




- A)  B)  C) 

4 - Çocuklardan hangisi elmanın kütleini yakın tahmin etmiş olabilir?

- A) Elmanın kütlesi 200 g olabilir.  
B) Elmanın kütlesi 1 kg olabilir.  
C) Elmanın kütlesi 800 g olabilir.



5 - Hangisinin kütlesi 1 kilogramdan azdır?

- A)  B)  C) 

6 - "Öğretmen, 4.sınıfa giden Zehra'nın basküle çıkmasını istemiş ve diğer öğrencilerden, Zehra'nın kütleini tahmin etmelerini istemiştir." Hangi çocuk Zehra'nın kütleini doğru tahmin etmiş olabilir?



Zehra

A)



Osman

17 kg

B)



Caner

45 kg

C)



Şenol








69 kg

7 - Elif Naz'ın annesi, Elif Naz'a kek yapmak için malzemeleri hazırlayarak masanın üzerine koydu. Malzemelerin yaklaşık olarak ne kadar olabileceğini altlarına yazın.



<input type="text"/>	<input type="text"/>	<input type="text"/>	<input type="text"/>	<input type="text"/>	<input type="text"/>
50 g	100 g	500 g	190 g	1 kg	10 g

8 - Aşağıda verilen nesnelerin kütlesinin doğru olabileceği kutuları istediğiniz renge boyayın.

													
3 kg	850 g	10 g	175 g	950 g	3 kg	15 g	1 kg	5 kg	950 g	700 g	120 g	9 kg	35 kg

9 - Aşağıdaki cümlelerde boş bırakılan yerlere “gram ve kilogram” ifadelerinden uygun olanı koyunuz.

- \* Annemle pazardan 3 ..... domates aldık.
- \* Kuyumcudan aldığımız bilezik 22 ..... geldi.
- \* Kardeşim 3 yaşında ve 16 ..... ağırlığında.
- \* Bakkaldan kardeşim için 200 ..... leblebi aldım.
- \* Babam marketten 2 ..... piring almamı söyledi.
- \* Teyzemin kek yapmak için kullandığı bir bardak şeker yaklaşık 180 .....'dır.
- \* 3 ay önce doğan kuzum yaklaşık olarak 13 ..... geliyor.
- \* Hasta olduğumda eczaneden aldığımız şurubun üzerinde 300 ..... yazıyor.
- \* Bakkalda satılan ekmekler yasal olarak 220 ..... ağırlıkta olmalıdır.

