









NESNE GRAFİĞİ

Elif hayvanat bahçesine gittiğinde gördüğü hayvanları gösteren aşağıdaki nesne grafiğini çizdi. Bu grafiğe göre aşağıdaki soruları cevaplayın.

Grafik: Hayvanat Bahçesindeki Hayvanlar Grafiği

ayı	
ördek	
kaplumbağa	
timsah	
at	
fil	
tavşan	
penguen	

Her şekil 4 varlığı göstermektedir.

1) 24 tane olan hayvan hangisidir?

2) En az ve en fazla olan hayvanların toplamı kaçtır?

3) En az olan hayvan kaç tanedir?

4) Timsah ve tavşan sayıları farkı kaçtır?

5) Ördek ve at sayıları farkı kaçtır?

6) 28 tane olan hayvan hangisidir?

7) 20 tane olan hayvan hangisidir?

8) Kaplumbağa ve penguen sayıları farkı kaçtır?

9) 32 tane olan hayvan hangisidir?

10) 4 tane olan hayvan hangisidir?

11) Penguen ve fil sayıları toplamı kaçtır?

12) At ve tavşan sayıları toplamı kaçtır?

13) Ayı ve fil sayıları farkı kaçtır?

14) 16 tane olan hayvan hangisidir?

15) En fazla olan hayvan kaç tanedir?

16) Timsah ve ördek sayıları toplamı kaçtır?