

MATEMATİK

1) Hangi sayı tek sayıdır?

- A) yüz yirmi beş
- B) doksan sekiz
- C) bin dört

2) Örüntü kuralı “önce 2 artır sonraki sayıyı üç azalt” olduğuna göre aşağıdaki örüntüde gelecek sayıyı bulun.

8 – 10 – 7 - -

- A) 9 – 6
- B) 6 – 8
- C) 9 - 11

3) “8 – 2 – 4” ile yazılabilecek en büyük sayı hangisidir?

- A) 284
- B) 842
- C) 824

4) Hangi işaret büyüktür anlamına gelir?

- A) <
- B) >
- C) =

5) Hangi sayının, sayı değerleri toplamı 5 olur?

- A) 157
- B) 112
- C) 302

6) Üç basamaklı en küçük iki sayının toplamı kaç olur?

- A) 100
- B) 200
- C) 300

7) “536 “ rakamının yüzler basamağında hangi sayı vardır?

- A) 5
- B) 3
- C) 6

8) Aşağıdaki sayılardan hangisi iki basamaklıdır?

- A) 503
- B) 021
- C) 269

9) “83” sayısı hangi onluğa yuvarlanır?

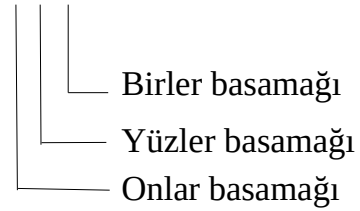
- A) 80
- B) 90
- C) 38

10) Aşağıdaki şıklardan hangisinde sekizerli sayma yapılmıştır?

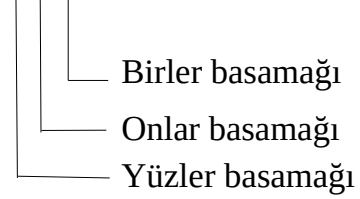
- A) 24 – 32 – 40 – 48
- B) 15 – 22 – 29 – 36
- C) 11 – 16 – 21 – 26

11) Hangi sayının basamakları yanlış gösterilmiştir?

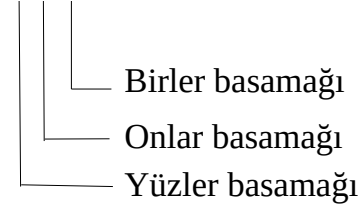
A) 5 8 3



B) 3 7 0



C) 1 9 3



12) Aşağıdaki şıklardan hangisinde yüzerli sayma yapılmıştır?

- A) 121 – 250 – 360 – 420
- B) 23 – 123 – 223 – 323
- C) 100 – 150 – 200 - 250

13) Basamak değerleri toplamı “yedi yüz on yedi” olan sayı aşağıdakilerden hangisidir?

- A) 771
- B) 717
- C) 177

14) “267” sayısı hangi yüzlüğe yuvarlanır?

- A) 70 B) 260 C) 300

15) “onlar basamağında iki, yüzler basamağında altı” olan hangi sayıdır?

- A) 206 B) 122 C) 629

16) Hangi şıkta doğru sıralama yapılmıştır?

- A) $1 < 5 < 7 < 26$
B) $47 = 36 > 21 > 11$
C) $35 > 26 > 19 > 2$

17) İlk adımı 36 olan ve üçerli azalan bir sayı örüntüsü hangisidir?

- A) $36 - 33 - 30 - 27$
B) $36 - 30 - 26 - 20$
C) $27 - 30 - 33 - 36$

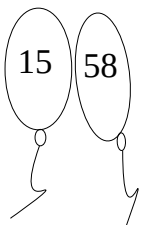
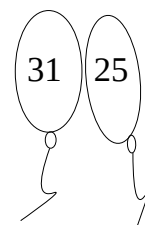
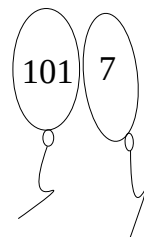
18) Yüzlük blokta (küp) kaç tane birlik blok (küp) bulunur?

- A) 100 B) 10 C) 1000

19) İki tane çift sayının toplamı ne olur?

- A) Tek sayı
B) Çift sayı
C) Bazen tek bazen çift sayı

20) Hangi şıktaki balonlarda sadece tek sayılar vardır?

- A)  B) 
C) 

21) “520 ile 298” sayılarının toplamı tek sayı mı çift sayı mıdır?

- A) Çift sayı B) Tek sayı C) 818

22) “beş yüz kırk yedi” sayısının birler ve onlar basamağını yer değiştirirsek yeni sayı ne olur?

- A) 547 B) 747 C) 574

23) Romen rakamları neyi esas alarak oluşturulmuştur?

- A) adımları B) parmakları C) dişleri

24) Hangisi romen rakamında sekizi gösterir?

- A) I I I I I I I I B) V I I I C) X

25) Romen rakamı “IX” un karşılığı hangisidir?

- A) 1 B) 9 C) 90

CEVAP ANAHTARI

- | | | |
|-------|-------|-------|
| 1) A | 2) A | 3) B |
| 4) B | 5) C | 6) B |
| 7) A | 8) B | 9) A |
| 10) A | 11) A | 12) B |
| 13) B | 14) C | 15) C |
| 16) C | 17) A | 18) A |
| 19) B | 20) C | 21) A |
| 22) C | 23) B | 24) B |
| 25) B | | |

