




DÖRT İŞLEM PİRAMİDİ

Piramitte iki sayı arasındaki işlemin sonucunu üst kutuya yazarak tepelerdeki sayılara ulaşın ve cevapları aşağıdan işaretleyin.

			-			
		x		+		
15	÷	3	+	3	x	4




12 5 27

			-			
		x		+		
12	÷	4	+	3	x	3

17 3 37

DÖRT İŞLEM PİRAMİDİ

Piramitte iki sayı arasındaki işlemin sonucunu üst kutuya yazarak tepelerdeki sayılara ulaşın ve cevapları aşağıdan işaretleyin.

			-			
		x		+		
21	÷	3	+	4	x	5

22 4 6

			-			
		x		+		
16	÷	4	+	3	x	5

5 27 15