

DOĞRU İŞLEMLERİ BUL


Noktalı yerlere "+, -, x, ÷" işaretlerinden uygun olanları yazınız.

$$(5 \dots 9) \dots 2 = 7$$

$$(6 \dots 3) \dots 2 = 1$$

$$(10 \dots 5) \dots 10 = 20$$

$$(4 \dots 5) \dots 3 = 6$$



DOĞRU İŞLEMLERİ BUL


Noktalı yerlere "+, -, x, ÷" işaretlerinden uygun olanları yazınız.

$$(1 \dots 2) \dots 7 = 14$$

$$(3 \dots 3) \dots 2 = 2$$

$$(4 \dots 4) \dots 2 = 6$$

$$(15 \dots 4) \dots 8 = 27$$



DOĞRU İŞLEMLERİ BUL


Noktalı yerlere "+, -, x, ÷" işaretlerinden uygun olanları yazınız.

$$(5 \dots 5) \dots 8 = 8$$

$$(7 \dots 2) \dots 6 = 3$$

$$(13 \dots 4) \dots 1 = 10$$

$$(11 \dots 6) \dots 3 = 2$$



DOĞRU İŞLEMLERİ BUL

Noktalı yerlere "+, -, x, ÷" işaretlerinden uygun olanları yazınız.

$$(15 \dots 5) \dots 4 = 12$$

$$(14 \dots 6) \dots 5 = 4$$

$$(7 \dots 1) \dots 5 = 1$$

$$(12 \dots 3) \dots 2 = 2$$

