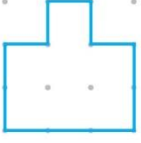


ADI - SOYADI: .....

3.Sınıf Matematik "Çevre Uzunluklarını Bulma 2" (Test)

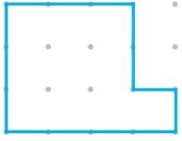


1 - Yanda verilen düzlemsel şeklin çevre uzunluğu kaç birimdir?

A) 8

B) 10

C) 12



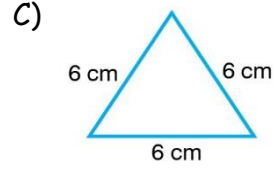
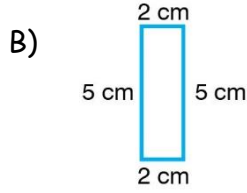
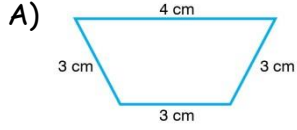
2 - Yanda verilen düzlemsel şeklin çevre uzunluğu kaç birimdir?

A) 14

B) 12

C) 10

3 - Aşağıda verilen hangi şeklin çevresi diğerlerinden uzundur?

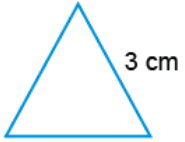


4 - Yandaki bir kenar uzunluğu 5 cm olarak verilen karenin çevre uzunluğu kaç santimetredir?

A) 10

B) 15

C) 20

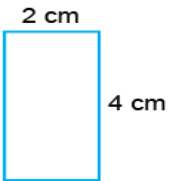


5 - Yandaki tüm kenarları eşit üçgenin bir kenarının uzunluğu 3 cm'dir. Buna göre üçgenin çevresi kaç santimetredir?

A) 12

B) 10

C) 9

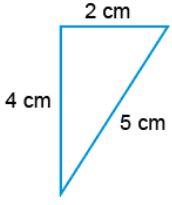


6 - Yandaki kısa kenarı 2 cm, uzun kenarı 4 cm olan dikdörtgenin çevre uzunluğu kaç santimetredir?

A) 12

B) 10

C) 8

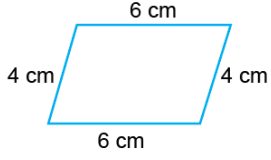


7 - Yandaki üçgeninin çevre uzunluğu kaç santimetredir?

A) 12

B) 11

C) 10



8 - Yanda verilen şeklin çevre uzunluğu kaç santimetredir?

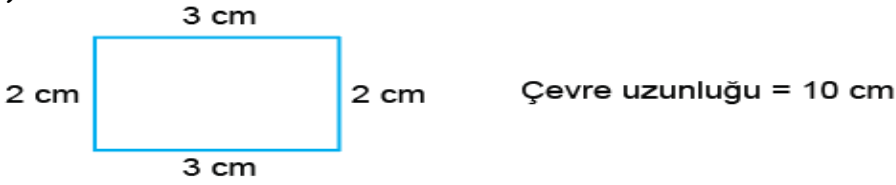
A) 20

B) 18

C) 16

9 - Kenar uzunlukları verilen aşağıdaki şekillerin çevre uzunlukları eşleştirilmiştir. Buna göre hangi eşleştirme yanlıştır?

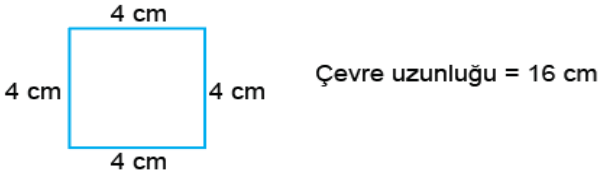
A)



B)

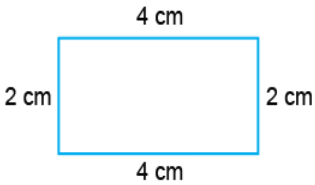


C)

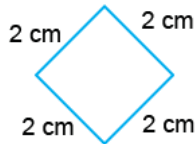


10 - Kenar uzunlukları verilen aşağıdaki şekillerden hangisinin çevre uzunluğu diğerlerinden farklıdır?

A)



B)



C)

