



1) Yukarıdaki arabalar küçükten büyüğe doğru sıralanmıştır. Numarası olmayan arabalara hangi sayılar eklenirse sıralama doğru olur?

- A) 65-70      B) 70-83      C) 72-80

2) Emre 18'den başlayarak 3'er ritmik saydığında 4. söylediği sayı aşağıdakilerden hangisidir?



- A) 27      B) 30      C) 33

3/B SINIFI ÖĞRENCİ MEVCUT GRAFİĞİ

KIZ ÖĞRENCİ	
ERKEK ÖĞRENCİ	

Not: Her şekil 2 öğrenciyi göstermektedir.

3) Yukarıdaki grafiğe göre aşağıdaki ifadelerden hangisi yanlıştır?

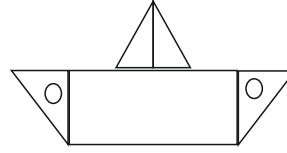
- A) Erkek öğrenciler 18 kişidir.  
B) Erkekler, kızlardan 2 kişi fazladır.  
C) Sınıf mevcudu 17 kişidir.

3) 3 onluk + 2 birlik + 4 onluk toplamı kaç eder ?

- A) 36      B) 72      C) 52

4) Aşağıdakilerden hangisi madeni para değildir ?

- A) 10 Kr      B) 10 TL      C) 25 Kr



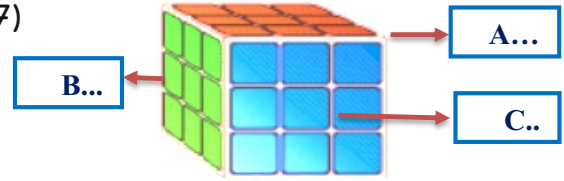
5) Yandaki gemi modelinde aşağıdaki şekillerden hangisi kullanılmamıştır ?

- A) Üçgen      B) Dikdörtgen      C) Kare

6) Üç hafta, Üç gün, toplamda kaç gün eder ?

- A) 24      B) 6      C) 10

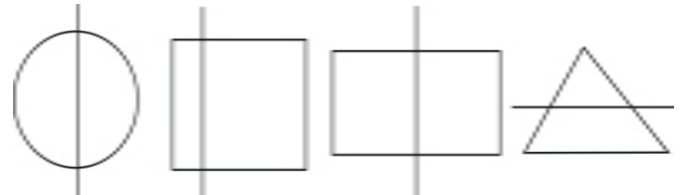
7)



Yukarıdaki şekilde A,B ve C yerlerini doğru olarak doldurabilmek için neler yazılmalıdır?

- |          |          |          |
|----------|----------|----------|
| <u>A</u> | <u>B</u> | <u>C</u> |
| A) Köşe  | Yüzey    | Ayrıt    |
| B) Ayrıt | Yüzey    | Köşe     |
| C) Köşe  | Ayrıt    | Yüzey    |

8)



Yukarıdaki şekillerin kaç tanesinin simetri doğrusu doğru çizilmiştir ?

- A) 1      B) 2      C) 3

$$29 + ? = 64$$



9) Tahtadaki işlemde ? işareti olan yere hangi sayı yazılmalıdır ?

- A) 35      B) 55      C) 45

10) Aşağıdaki toplama işleminde hangi işlem yanlış yapılmıştır ?

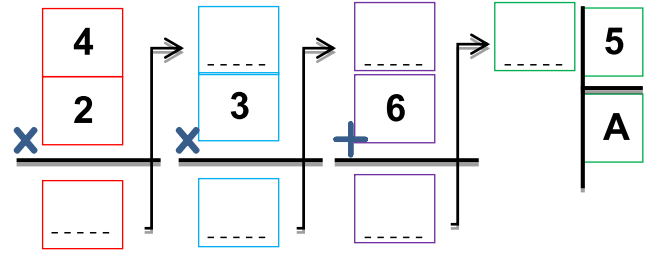
A) 
$$\begin{array}{r} 34 \\ + 21 \\ \hline 56 \end{array}$$
 B) 
$$\begin{array}{r} 43 \\ + 25 \\ \hline 68 \end{array}$$
 C) 
$$\begin{array}{r} 65 \\ + 34 \\ \hline 99 \end{array}$$

11) Bir sürahi 5 bardak suyla dolu. 3 sürahiyi doldurmak için kaç bardak gerekir ?

- A) 18      B) 20      C) 15

12) Aşağıdakilerden hangisi çıkarma işlemini doğru yapmıştır ?

A) 
$$\begin{array}{r} 35 \\ - 17 \\ \hline 18 \end{array}$$
 B) 
$$\begin{array}{r} 54 \\ - 16 \\ \hline 28 \end{array}$$
 C) 
$$\begin{array}{r} 48 \\ - 27 \\ \hline 09 \end{array}$$



13) Yukarıdaki işlemlere göre A kaç olur ?

- A) 6      B) 5      C) 4

14) Sevgi, ilk gün 15 sayfa ikinci gün ise ilk gün okuduğundan 16 sayfa fazla kitap okuyor. Sevgi iki günde toplam kaç sayfa kitap okumuştur ?



- A) 31      B) 47      C) 46

15) Didem 6 yıl önce 33 yaşındaydı. Kardeşi Mustafa, Didem'den 9 yaş küçük olduğuna göre Didem 5 yıl sonra kaç yaşında olacaktır?

- A) 29      B) 30      C) 35

16) Ahmet sınıf kapısının boyunu standart ölçme birimleri ile ölçmüştür. Sizce Ahmet sonucu kaç olarak bulmuş olabilir?

- A) 2 metre  
B) 20 santimetre  
C) 20 metre

17) 3 onluk 5 birlikten oluşan sayının onlar basamağındaki sayının basamak değeri kaçtır?

- A) 3      B) 5      C) 30