



SAATLER (Önce Sonra)

Gösterilen saatlerin istenen dakika kadar önceki ve sonraki saatlerini noktalı yerlere yazın.




50 dakika önce


... ..



... ..



... ..



... ..

50 dakika sonra

... ..

... ..

... ..

... ..


SAATLER (Çeyrek geçiyor - Çeyrek var)

Saatlerin kaçı gösterdiğini "çeyrek geçiyor, çeyrek var" ifadelerinden uygun olanını kullanarak yazın.

Örnek: "Biri çeyrek geçiyor."
veya "Bire çeyrek var."




.....



.....



.....



.....

DAKİKA SAAT DÖNÜŞTÜRME



Aşağıdaki boşlukları doldurun.

180 dakika = saat

2 saat = dakika



120 dakika = saat



Aşağıdaki boşlukları doldurun.

128 dakika = saat + dakika

100 dakika = saat + dakika

123 dakika = saat + dakika