

ADI - SOYADI:

3.Sınıf Matematik "Nokta, Doğru, Doğru parçası, Işın ve Aç" Konu Testi

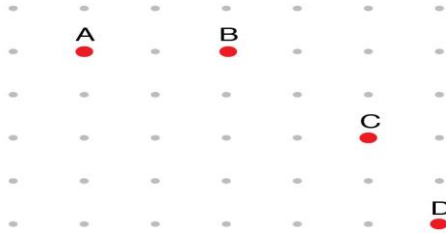
1 - Aşağıdakilerden hangisi nokta modeli olamaz?

- A) Kalemın defterde bıraktığı iz
- B) Pencerenin kolu
- C) Su damlası

Nokta günlük yaşamımızda çeşitli alanlarda kullanılmaktadır.

2 - Aşağıdaki seçeneklerin hangisi noktanın kullandığı alanlardan biri değildir?

- A) Çeşitli geometrik cisimlerin köşelerinin belirtilmesinde
- B) Yazı yazarken cümle sonlarında
- C) Dikdörtgenin ayrıtlarının gösteriminde



3 - B, C ve D noktalarından hangisi A noktasına en uzaktır?

- A) B
- B) C
- C) D

4 - Aşağıdakilerden hangisi ışın modelidir?

- A)
- B)
- C)

5 - Aşağıdaki eşleştirmelerden hangisi yanlıştır?

- A) Nokta
- B) Doğru
- C) Işın

6 - Aşağıda verilen harflerden hangisinde açı modeli yoktur?

- A)
- B)
- C)

7 - Aşağıdaki sayıların hangisinde açı modeli vardır?

- A) 4
- B) 3
- C) 2

8 - Makasın açık ağı hangisine örnektir?

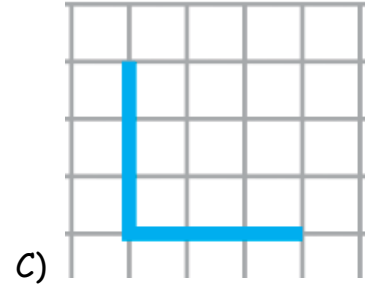
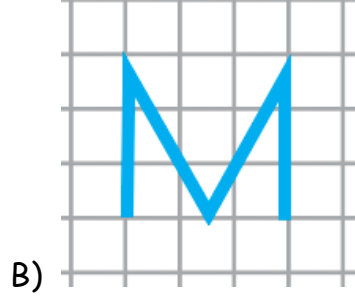
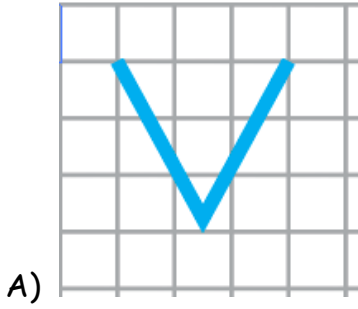
A) Açı

B) Işın


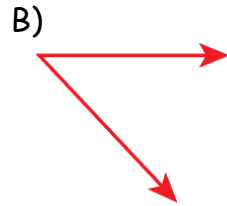
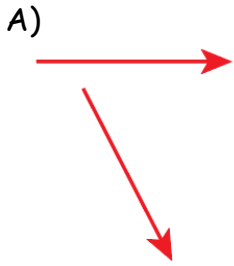
C) Doğru



9 - Aşağıda verilen harflerden hangisinde daha fazla sayıda açı modeli vardır?



10 - Aşağıdakilerden hangisinde açı modeli yoktur?



11 - Aşağıdakilerden hangisi doğru parçası modelidir?



12 - Resimdeki fotoğraf çerçevesinde kaç tane yatay doğru parçası vardır?

A) 2

B) 3

C) 4




13 - Resimdeki fotoğraf çerçevesinde kaç tane dikey doğru parçası vardır?



A) 2

B) 3

C) 4



14 - Aşağıdakilerden hangisi doğru parçasına örnek değildir?



15 - Aşağıdaki harflerden hangisinde eğik doğru parçası yoktur?

A) T

B) M

C) N