






































NESNE GRAFİĞİ

Elif hayvanat bahçesine gittiğinde gördüğü hayvanları gösteren aşağıdaki nesne grafiğini çizdi. Bu grafiğe göre aşağıdaki soruları cevaplayın.

Grafik: Hayvanat Bahçesindeki Hayvanlar Grafiği

kaplumbağa	
at	     
yunus	  
penguen	    
fil	 
maymun	       
kuş	   
kedi	       

Her şekil 4 varlığı göstermektedir.

1) At ve penguen sayıları toplamı kaçtır?

2) Kedi ve kaplumbağa sayıları toplamı kaçtır?

3) Maymun ve fil sayıları toplamı kaçtır?

4) 20 tane olan hayvan hangisidir?

5) 4 tane olan hayvan hangisidir?

6) Kaplumbağa ve at sayıları farkı kaçtır?

7) 28 tane olan hayvan hangisidir?

8) Yunus ve kuş sayıları toplamı kaçtır?

9) 8 tane olan hayvan hangisidir?

10) 12 tane olan hayvan hangisidir?

11) Yunus ve fil sayıları farkı kaçtır?

12) Kedi ve penguen sayıları farkı kaçtır?

13) 32 tane olan hayvan hangisidir?

14) En fazla olan hayvan kaç tanedir?

15) 16 tane olan hayvan hangisidir?

16) En az olan hayvan kaç tanedir?