









NESNE GRAFİĞİ

Elifnaz hayvanat bahçesine gittiğinde gördüğü hayvanları gösteren aşağıdaki nesne grafiğini çizdi. Bu grafiğe göre aşağıdaki soruları cevaplayın.

Grafik: Hayvanat Bahçesindeki Hayvanlar Grafiği

| | |
|--------|--|
| tavşan |  |
| timsah |  |
| zürafa |  |
| at |  |
| geyik |  |
| ördek |  |
| maymun |  |
| fil |  |

Her şekil 2 varlığı göstermektedir.

1) Geyik ve maymun sayıları farkı kaçtır?

2) En az ve en fazla olan hayvanların farkı kaçtır?

3) Tavşan ve fil sayıları farkı kaçtır?

4) Timsah ve zürafa sayıları toplamı kaçtır?

5) 4 tane olan hayvan hangisidir?

6) 8 tane olan hayvan hangisidir?

7) 2 tane olan hayvan hangisidir?

8) En az ve en fazla olan hayvanların toplamı kaçtır?

9) Fil ve maymun sayıları toplamı kaçtır?

10) 14 tane olan hayvan hangisidir?

11) En fazla olan hayvan kaç tanedir?

12) 16 tane olan hayvan hangisidir?

13) Ördek ve at sayıları toplamı kaçtır?

14) En az olan hayvan kaç tanedir?

15) 10 tane olan hayvan hangisidir?

16) Zürafa ve ördek sayıları farkı kaçtır?