

DOĞRU İŞLEMLERİ BUL


Noktalı yerlere "+, -, x, ÷" işaretlerinden uygun olanları yazınız.

$$(7 \dots 3) \dots 2 = 5$$

$$(10 \dots 1) \dots 8 = 17$$

$$(2 \dots 1) \dots 6 = 7$$

$$(11 \dots 2) \dots 3 = 27$$



DOĞRU İŞLEMLERİ BUL


Noktalı yerlere "+, -, x, ÷" işaretlerinden uygun olanları yazınız.

$$(4 \dots 2) \dots 3 = 5$$

$$(5 \dots 7) \dots 4 = 3$$

$$(4 \dots 10) \dots 2 = 12$$

$$(15 \dots 5) \dots 5 = 4$$



DOĞRU İŞLEMLERİ BUL


Noktalı yerlere "+, -, x, ÷" işaretlerinden uygun olanları yazınız.

$$(6 \dots 2) \dots 6 = 18$$

$$(9 \dots 5) \dots 2 = 43$$

$$(1 \dots 8) \dots 4 = 32$$

$$(1 \dots 4) \dots 5 = 10$$



DOĞRU İŞLEMLERİ BUL

Noktalı yerlere "+, -, x, ÷" işaretlerinden uygun olanları yazınız.

$$(9 \dots 5) \dots 5 = 40$$

$$(8 \dots 2) \dots 5 = 20$$

$$(5 \dots 5) \dots 4 = 4$$

$$(9 \dots 4) \dots 2 = 34$$

