

DOGRU İŞLEMLERİ YERLEŞTİR


Noktalı yerlere "+, -, x, ÷" işaretlerinden uygun olanları yazınız.

$$(2 \dots 8) \dots 2 = 8$$

$$(15 \dots 10) \dots 5 = 20$$

$$(4 \dots 3) \dots 2 = 14$$

$$(3 \dots 1) \dots 2 = 2$$



DOGRU İŞLEMLERİ YERLEŞTİR


Noktalı yerlere "+, -, x, ÷" işaretlerinden uygun olanları yazınız.

$$(2 \dots 7) \dots 4 = 10$$

$$(3 \dots 3) \dots 8 = 8$$

$$(3 \dots 5) \dots 3 = 5$$

$$(5 \dots 2) \dots 1 = 2$$



DOGRU İŞLEMLERİ YERLEŞTİR


Noktalı yerlere "+, -, x, ÷" işaretlerinden uygun olanları yazınız.

$$(4 \dots 10) \dots 5 = 8$$

$$(10 \dots 7) \dots 2 = 15$$

$$(12 \dots 2) \dots 5 = 19$$

$$(8 \dots 2) \dots 4 = 1$$



DOGRU İŞLEMLERİ YERLEŞTİR

Noktalı yerlere "+, -, x, ÷" işaretlerinden uygun olanları yazınız.

$$(10 \dots 9) \dots 8 = 8$$

$$(4 \dots 2) \dots 3 = 5$$

$$(7 \dots 2) \dots 4 = 36$$

$$(13 \dots 5) \dots 2 = 4$$

