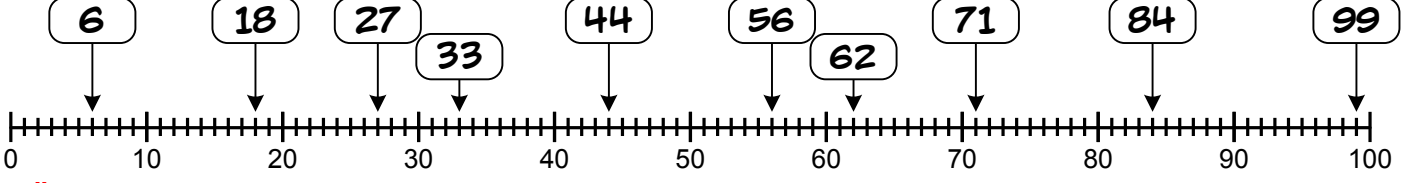


Adı Soyadı:

Aşağıdaki sayıların hangi onluğa yakın olduğunu örnekteki gibi yazınız.



Örnek:

6 → 10	27 → <input type="text"/>	33 → <input type="text"/>	71 → <input type="text"/>	99 → <input type="text"/>
44 → <input type="text"/>	18 → <input type="text"/>	56 → <input type="text"/>	62 → <input type="text"/>	84 → <input type="text"/>

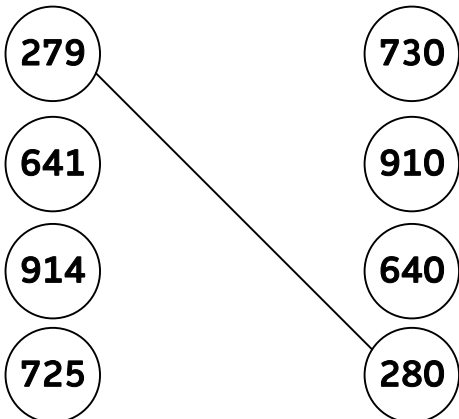
Aşağıdaki boyalı kutulardaki üç basamaklı doğal sayıların yuvarlandığı en yakın onluğa örnekteki gibi işaretleyin

<input type="text" value="120"/> 124 <input type="text" value="130"/>	<input type="text" value="160"/> 165 <input type="text" value="170"/>	<input type="text" value="740"/> 743 <input type="text" value="750"/>	<input type="text" value="230"/> 236 <input type="text" value="240"/>
<input type="text" value="500"/> 509 <input type="text" value="510"/>	<input type="text" value="180"/> 181 <input type="text" value="190"/>	<input type="text" value="620"/> 628 <input type="text" value="630"/>	<input type="text" value="450"/> 452 <input type="text" value="460"/>
<input type="text" value="370"/> 371 <input type="text" value="380"/>	<input type="text" value="470"/> 475 <input type="text" value="480"/>	<input type="text" value="830"/> 833 <input type="text" value="840"/>	<input type="text" value="590"/> 596 <input type="text" value="600"/>

Aşağıdaki üç basamaklı doğal sayıları örnekteki gibi en yakın onluğa yuvarlayalım.

257 → 260	935 → <input type="text"/>	339 → <input type="text"/>	775 → <input type="text"/>
851 → <input type="text"/>	888 → <input type="text"/>	212 → <input type="text"/>	344 → <input type="text"/>
123 → <input type="text"/>	404 → <input type="text"/>	838 → <input type="text"/>	626 → <input type="text"/>

Sayıları en yakın onluğa yuvarlayıp eşleştirelim.

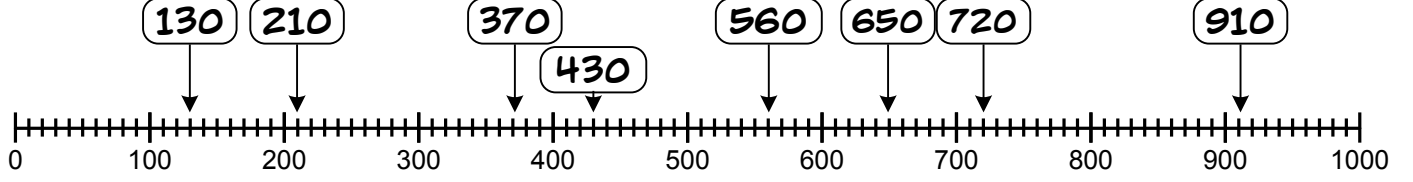


780 sayısına yuvarlanan sayıları istediğiniz bir renk ile boyayın.

785	789	784
775	777	787
781	772	779

Adı Soyadı:

Aşağıdaki sayıların hangi yüzlüğe yakın olduğunu örnekteki gibi yazınız.



Örnek:

130 → 100	210 → <input type="text"/>	910 → <input type="text"/>	370 → <input type="text"/>
560 → <input type="text"/>	650 → <input type="text"/>	430 → <input type="text"/>	720 → <input type="text"/>

Aşağıdaki sayılardan bir önceki ve bir sonraki yüzlüğü yazalım. Yakın olduğu yüzlüğü işaretleyelim. hangi onluğa yakın olduğunu örnekteki gibi yazınız.

<div>400 444 500</div>	<div>211</div>	<div>307</div>
<div>775</div>	<div>336</div>	<div>534</div>
<div>924</div>	<div>751</div>	<div>196</div>
<div>832</div>	<div>319</div>	<div>467</div>
<div>158</div>	<div>814</div>	<div>258</div>

Aşağıdaki sayıları en yakın yüzlüğe yuvarlayalım.

154 → <input type="text"/>	399 → <input type="text"/>	166 → <input type="text"/>
521 → <input type="text"/>	415 → <input type="text"/>	832 → <input type="text"/>
175 → <input type="text"/>	142 → <input type="text"/>	662 → <input type="text"/>
351 → <input type="text"/>	283 → <input type="text"/>	685 → <input type="text"/>
76 → <input type="text"/>	678 → <input type="text"/>	802 → <input type="text"/>

Adı Soyadı:

Verilen sayıları örnekteki gibi en yakın onluğa yuvarlayınız.

492	490	727	730	283		678	
979		543		314		208	
807		61		665		63	
641		697		864		981	
329		763		344		355	
134		946		718		984	
746		809		239		607	
572		86		733		761	
559		464		828		424	
562		134		196		975	

Verilen sayıları örnekteki gibi en yakın yüzlüğe yuvarlayınız.

833	800	857		149		407	
165	200	829		266		765	
818		691		801		444	
444		102		915		812	
139		598		352		629	
702		113		757		533	
686		707		535		966	
147		209		503		485	
407		144		134		813	
251		928		943		782	