

ADI - SOYADI: .....

**3.SINIF MATEMATİK "KARE, DİKDÖRTGEN ve ÜÇGEN" (TEST)**

**1 - Bütün kenarları birbirine eşit uzunlukta ve dört kenarı olan geometrik şekil hangisidir?**

A) Üçgen

B) Kare

C) Dikdörtgen

**2 - Aşağıdaki şekillerden hangisinin köşegeni yoktur?**

A)



B)




C)

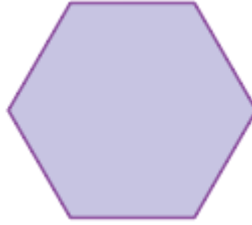


**3 - Aşağıdaki şekillerden hangisinin kenar sayısı en fazladır?**


A)



B)



C)



**4 - Dikdörtgenin kaç köşegeni vardır?**

A) 1

B) 2

C) 3

**5 - Aşağıdaki ifadelerden hangisi yanlıştır?**

A) Dikdörtgenin dört kenarı, iki köşegeni vardır.

B) Dikdörtgenin bütün kenar uzunlukları eşittir.

C) Karenin bütün kenar uzunlukları eşittir.

**6 - Aşağıdakilerden hangisi beşgen modelidir?**

A)



B)



C)



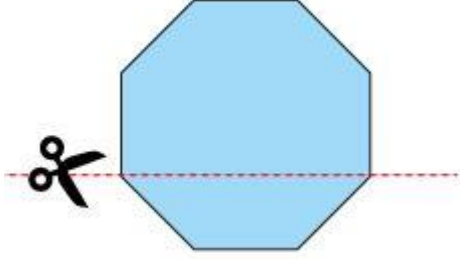
- ♦ Üçgenin üç köşegeni vardır.
- ♦ Karenin iki köşegeni vardır.
- ♦ Dikdörtgenin dört köşegeni vardır.

7 - Yukarıdakilerden kaç tanesi yanlıştır?

A) 1

B) 2

C) 3

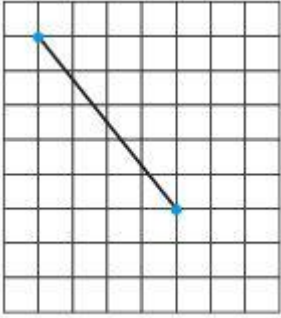


8 - Yukarıdaki kartondan yapılmış geometrik şekil kırmızı çizgi ile belirtilen yerden kesilirse hangi geometrik şekil elde edilmez?

A) Dörtgen

B) Beşgen

C) Altıgen




9 - Kareli zeminde gösterilen çizgi aşağıdakilerden hangisinin köşegenidir?

A) Üçgen

B) Kare

C) Dikdörtgen



10 - Noktalı kağıtta verilenlere göre hangisi yanlıştır?

A) Mavi noktaları köşe olarak alırsak oluşan şekil dikdörtgendir.

B) Kırmızı noktaları köşe olarak alırsak oluşan şekil karedir.

C) Yeşil noktaları köşe olarak alırsak oluşan şekil altıgendir.