

3.SINIF FEN BİLİMLERİ "ELEKTRİKLİ ARAÇLAR" DEĞERLENDİRME TESTİ




NOTU

1 - Elektriğin icat edilmesiyle ilgili aşağıdakilerden hangisi yanlıştır?

- A) Hayatımız kolaylaşmıştır. B) İşlerimiz aksamaya başlamıştır. C) İşlerimizi kısa sürede bitirebiliriz.

"Elektriğin icat edilmesiyle teknoloji de gelişmeye başlamış ve hayatımıza birçok olumlu katkısı olmuştur."

2 - Yukarıdaki açıklamaya göre, hangi çocuğun söylediği buna örnek olamaz?

- A)  Berke : Çamaşır makinesi sayesinde annem çamaşırları kısa zamanda yıkayabiliyor.
- B)  İdris : Bilgisayar başında çok zaman geçirdiğim için sokakta oyun oynayamıyorum.
- C)  Muhammet : Elektrik süpürgesi sayesinde evimizin temizliği çabucak bitiyor.

3 - Aşağıdaki seçeneklerde verilen araçlar kullanım amaçlarına göre eşleştirilmiştir. Hangi seçenekteki eşleştirme yanlıştır?

- A) Televizyon → Haberleşme B) Tost makinesi → Isıtma C) Telefon → Aydınlatma

4 - Aşağıdaki elektrikli araçlardan hangisi soğutma amacıyla kullanılır?

- A) Buzdolabı B) Cep telefonu C) Sokak lambası

1. Ampul → Aydınlatma 2. Fırın → Isıtma 3. Radyo → Haberleşme

5 - Yukarıda verilen araçlar kullanım amaçlarına göre eşleştirilmiştir. Bu eşleştirmelerden hangileri doğrudur?

- A) 1 ve 2 B) 2 ve 3 C) 1, 2 ve 3

6 - Aşağıda verilen araçlardan hangisi haberleşme amacıyla kullanılmaz?

- A) Bilgisayar B) Çamaşır makinesi C) Telefon

7 - Aşağıdaki araçlardan hangisi aydınlatma amacıyla kullanılır?

- A) Floresan B) Su ısıtıcısı C) Çay makinesi

8 - Aşağıdaki araçlardan hangisi soğutma amacıyla kullanılır?

- A) Şofben B) Derin dondurucu C) Saç kurutma makinesi

9 - Aşağıdaki araçlardan hangisi ısıtma amacıyla kullanılır?

- A)  Elektrik sobası
- B)  Cep telefonu
- C)  Duvar saati

10 - Aşağıdaki araçlardan hangisinin kullanım amacı diğerlerinden farklıdır?

- A) Cep telefonu B) Televizyon C) Su ısıtıcısı

11 - Aşağıdaki araçlardan hangisi hem ısıtma, hem de soğutma amacıyla kullanılır?

- A) Kahve makinesi B) Klima C) Sokak lambası

12 - Yaşadığımız çevrede elektrikler kesilirse;

1. Televizyon çalışmayacağı için haberleri öğrenemeyiz.
2. Buzdolabımızdaki yiyecekler bozulabilir.
3. Isıtıcımız çalışmayacağı için kışın üşüebiliriz.

yukarıdaki durumlardan hangileri gerçekleşebilir?

- A) 1 ve 2 B) 2 ve 3 C) 1, 2 ve 3

13 - Yandaki aracın yerine günümüzde hangi elektrikli araç kullanılmaktadır?

- A)  B)  C) 



14 - Yandaki aracın yerine günümüzde hangi elektrikli araç kullanılmaktadır?

- A)  B)  C) 



15 - Aşağıdakilerden hangisinin kullanım alanı diğerlerinden farklıdır?

- A) Çamaşır makinesi B) Ütü C) Işıldak

16 - Aşağıdakilerden hangisinin kullanım alanı diğerlerinden farklıdır?

- A) Elektrikli soba B) Buzdolabı C) Klima

17 - Günümüzde, görselde verilen işi kolaylaştıran elektrikli araç hangisidir?

- A)  B)  C) 



18 - Babanız aşağıdaki araçlardan hangisini kullanmak için elektriğe ihtiyaç duymaz?

- A) Matkap B) Kaynak makinesi C) Tornavida

19 - Anneniz aşağıdaki araçlardan hangisini kullanmak için elektriğe ihtiyaç duymaz?

- A) Makas B) Mutfak robotu C) Rondo

20 - Aşağıdaki elektrikli araçlardan hangisini bir büyüğünüz yanınızda yokken kullanmak tehlikeli olabilir?

- A) Buzdolabı B) Fırın C) Televizyon

Doğru:

Yanlış:

Her soru 5 puandır.

Mehmet Gürdal TEKİN