

## Fen Bilimleri Değerlendirme Sınavı- 2

1. Aşağıdakilerden doğru olanların başına "D", yanlış olanların başına "Y" yazınız.(5 puan)


- .....→ Yerlere çöp atmamaya dikkat etmeliyiz.  
 .....→ Ormandaki ağaçları keserek yerine güzel binalar yapmalıyız.  
 .....→ Bütün canlılar yaşamak için gerekli enerjiyi besinlerden sağlar.  
 .....→ Hoparlör, megafon, mikrofon gibi araçlar sesin şiddetini artırır.  
 .....→ Doğal kaynaklar tükenmeyeceği için sürekli kullanılabilir.

2. Cümlelerdeki boşlukları aşağıdaki kelimelerden uygun olanlarla doldurunuz.(5 puan)



- ☒ Fabrika, okul bahçesi ve hastane ..... çevreye örnektir.  
☒ Yeni tohumlar üreten ..... belli bir süre sonra ölür.  
☒ Her canlı yaşadığı sürece ..... yapar.  
☒ Hava kirliliği ..... da kirlenmesine neden olur.  
☒ Bacalara ve egzozlara ..... takmalıyız.


3. Görselleri verilen ortamlardan yakın çevremiz olanlara "Y", olmayanlara "D" yazınız.(6 puan)




4. Aşağıda karışık olarak verilmiş bitkinin yaşam döngüsüne ait ifadeleri numaralandırınız.(10 pu)

- .....→ Kök, toprağa doğru, tohumun içindeki filiz ise ışığa doğru gelişir.  
 .....→ Bitki büyüyerek kendi tohumlarını üretir.  
 .....→ Tohum kabuğuna doğru ufak delikten su sızar. Bu durumda tohum kabuğu çatlar.  
 .....→ Yeni tohumlar üreten bitki belli bir süre sonra ölür.  
 .....→ Bitkinin yaprakları büyür. Bitki kendi besinini yapar.















5. İşitme kaybına neden olacak durumlara "E", olmayanlara "H" yazınız.(8 puan)



6. Doğal ışık kaynağı olanlara "D", olmayanlara "Y" harfini yazınız.(8 puan)



7. Görseli verilen atık malzemeyi uygun geri dönüşüm bölümüne yazınız.(14 puan)

Cam :.....		Kâğıt :.....		Plastik :.....		Metal :.....	
1 	2 	3 	4 	5 	6 	7 	
8 	9 	10 	11 	12 	13 	14 	


8. Aşağıdaki ifadeleri numaralarıyla eşleştiriniz.(12 puan)

- |   |                          |   |
|---|--------------------------|---|
| 1. Kullandığımız bitmiş pilleri çöp tenekesine      | <input type="checkbox"/> | çevremiz ve ekonomimiz için yararlıdır.                       |
| 2. Çöplerimizi yapılarına göre ayrıştırmak          | <input type="checkbox"/> | atık yağ toplama merkezlerine vermeliyiz.                     |
| 3. Parfüm ve deodorantların aşırı kullanılması ozon | <input type="checkbox"/> | karıştığı sular ve içindeki canlılar zarar görür.             |
| 4. Sanayi atıkları ve deterjan kalıntılarının       | <input type="checkbox"/> | tabakasının zarar görmesine neden olur.                       |
| 5. Hava tabakasını en çok kirleten durumlara örnek  | <input type="checkbox"/> | taşıtların egzozları ve fabrika bacalarından çıkan gazlardır. |
| 6. Evimizde biriken kızartma yağlarını              | <input type="checkbox"/> | değil pil atık kutusuna atmalıyız.                            |

9. Aşağıdaki varlıklardan canlı olanlara "C", olmayanlara "X" yazınız.(9 puan)



10. Görsellerden doğal çevre olanlara "D", yapay çevre olanlara "Y" yazınız.(8 puan)



11. Canlıların ortak özelliklerinden beş tanesini yazınız.(15 puan)

- .....
- .....
- .....
- .....
- .....



Adım Soyadım: .....

Puan: ..... 18 Nisan 2019

Fen Bilimleri Değerlendirme Sınavı- 2

1. Aşağıdakilerden doğru olanların başına "D", yanlış olanların başına "Y" yazınız.(5 puan)

.....D→ Yerlere çöp atmamaya dikkat etmeliyiz.

.....Y→ Ormandaki ağaçları keserek yerine güzel binalar yapmalıyız.

.....D→ Bütün canlılar yaşamak için gerekli enerjiyi besinlerden sağlar.

.....D→ Hoparlör, megafon, mikrofon gibi araçlar sesin şiddetini artırır.

.....Y→ Doğal kaynaklar tükenmeyeceği için sürekli kullanılabilir.

2. Cümlelerdeki boşlukları aşağıdaki kelimelerden uygun olanlarla doldurunuz.(5 puan)

hayvan toprağın yapay doğal bitki tohum filtre solunum

☑ Fabrika, okul bahçesi ve hastane .....YAPAY..... çevreye örnektir.

☑ Yeni tohumlar üreten .....BİTKİ..... belli bir süre sonra ölür.

☑ Her canlı yaşadığı sürece .....SOLUNUM..... yapar.

☑ Hava kirliliği .....TOPRAĞIN..... da kirlenmesine neden olur.


☑ Bacalara ve egzozlara .....FİLTRE..... takmalıyız.

3. Görselleri verilen ortamlardan yakın çevremiz olanlara "Y", olmayanlara "D" yazınız.(6 puan)

Y



D



Y




D



Y



D



4. Aşağıda karışık olarak verilmiş bitkinin yaşam döngüsüne ait ifadeleri numaralandırınız.(10 pu)

.....2→ Kök, toprağa doğru, tohumun içindeki filiz ise ışığa doğru gelişir.



.....4→ Bitki büyüyerek kendi tohumlarını üretir.

.....1→ Tohum kabuğuna doğru ufak delikten su sızar. Bu durumda tohum kabuğu çatlar.





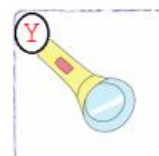
.....5→ Yeni tohumlar üreten bitki belli bir süre sonra ölür.

.....3→ Bitkinin yaprakları büyür. Bitki kendi besinini yapar.

5. İşitme kaybına neden olacak durumları işaretleyiniz.(8 puan)



6. Doğal ışık kaynağı olanlara "D", olmayanlara "Y" harfini yazınız.(8 puan)





7. Görseli verilen atık malzemeyi uygun geri dönüşüm bölümüne yazınız.(14 puan)

Cam : 7-9-14.....		Kâğıt : 3-6-12.....		Plastik : 1-5-11-13...		Metal : 2-4-8-10....	
① 	② 	③ 	④ 	⑤ 	⑥ 	⑦ 	
⑧ 	⑨ 	⑩ 	⑪ 	⑫ 	⑬ 	⑭ 	

8. Aşağıdaki ifadeleri numaralarıyla eşleştiriniz.(12 puan)

- |   |   |   |
|---|---|---|
| 1. Kullandığımız bitmiş pilleri çöp tenekesine      | 2 | çevremiz ve ekonomimiz için yararlıdır.                       |
| 2. Çöplerimizi yapılarına göre ayrıştırmak          | 6 | atık yağ toplama merkezlerine vermeliyiz.                     |
| 3. Parfüm ve deodorantların aşırı kullanılması ozon | 4 | kariştığı sular ve içindeki canlılar zarar görür.             |
| 4. Sanayi atıkları ve deterjan kalıntılarının       | 3 | tabakasının zarar görmesine neden olur.                       |
| 5. Hava tabakasını en çok kirleten durumlara örnek  | 5 | taşıtların egzozları ve fabrika bacalarından çıkan gazlardır. |
| 6. Evimizde biriken kızartma yağlarını              | 1 | değil pil atık kutusuna atmalıyız.                            |

9. Aşağıdaki varlıklardan canlı olanlara "C", olmayanlara "X" yazınız.(9 puan)

<input checked="" type="checkbox"/> X	<input checked="" type="checkbox"/> X	<input type="checkbox"/> C	<input checked="" type="checkbox"/> X	<input checked="" type="checkbox"/> X	<input type="checkbox"/> C	<input checked="" type="checkbox"/> X	<input checked="" type="checkbox"/> X	<input type="checkbox"/> C
BİSİKLET	DEFTER	AĞAÇ	TOPRAK	KİTAP	İNSAN	RADYO	KALEM	KEDİ

10. Görsellerden doğal çevre olanlara "D", yapay çevre olanlara "Y" yazınız.(8 puan)



11. Canlıların ortak özelliklerinden beş tanesini yazınız.(15 puan)

- BESLENME.....  
SOLUNUM YAPMA.....
- ÜREME.....  
BOŞALTIM.....
- TEPKİ VERME.....  
HAREKET ETME.....
- BÜYÜR, GELİŞİR, ÖLÜR.....
- .....