



6 - Aşağıdaki nesnelerden hangisinin çevresi kırmızı çizgiyle gösterilmiştir?

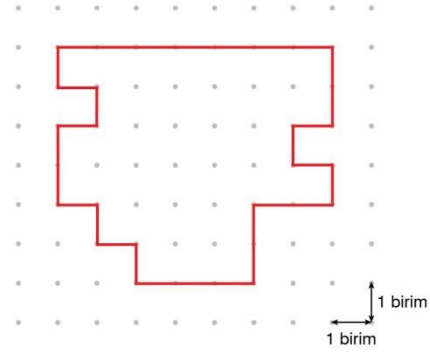
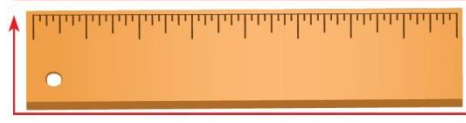
A)



B)



C)

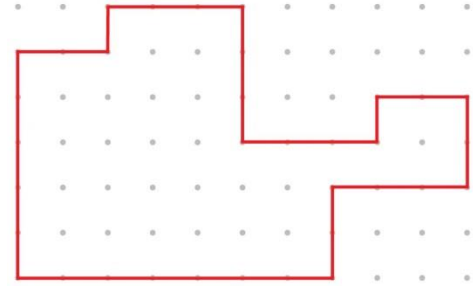


7 - Noktalı kâğıda çizilmiş olan yukarıdaki şeklin çevre uzunluğu kaç birimdir?

A) 28

B) 29

C) 30

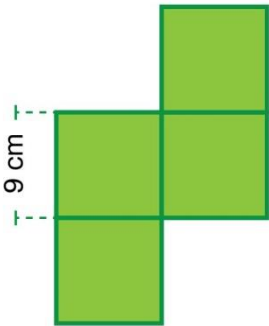


8 - Yukarıdaki şeklin çevre uzunluğu kaç birimdir? (İki nokta arasındaki uzunluk 1 birimdir)

A) 34

B) 42

C) 51



Yandaki şekil birbirine eş dört kareden oluşmuştur.

9 -Karenin bir kenarının uzunluğu 9 cm olduğuna göre bu şeklin çevre uzunluğu kaç santimetredir?

A) 108

B) 99

C) 90

10 - Kısa kenar uzunluğu 12 cm, uzun kenar uzunluğu 18 cm olan dikdörtgenin çevre uzunluğu kaç santimetredir?

A) 30




B) 48

C) 60

11 - Bir kenar uzunluğu 45 m olan kare şeklindeki bahçenin çevre uzunluğu kaç metredir?

A) 90

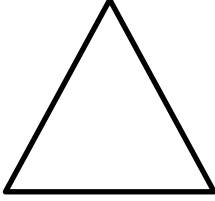


B) 120

C) 180

12 - Kenar uzunlukları birbirine eşit bir üçgenin bir kenar uzunluğu 34 cm ise çevre uzunluğu kaç santimetredir?

A) 68



B) 102

C) 136

13 - Dikdörtgen şeklindeki bir arsanın kısa kenar uzunluğu 76 m, uzun kenar uzunluğu, kısa kenar uzunluğundan 23 m fazladır. Bu arsanın çevre uzunluğu kaç metredir?

A) 480

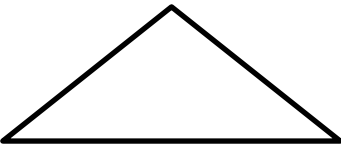


B) 350

C) 320

14 - Kenar uzunlukları 80 cm, 90 cm ve 110 cm olan üçgenin çevre uzunluğu bir karenin çevre uzunluğuna eşittir. Karenin bir kenarının uzunluğu kaç santimetredir?

A) 70



B) 75



C) 80

15 - Çevre uzunluğu 72 cm olan dikdörtgenin uzun kenar uzunluğu 24 cm'dir. Bu dikdörtgenin kısa kenar uzunluğu kaç santimetredir?

A) 24



B) 12

C) 10