

Adım Soyadım :

Sonuç :

Sınıfım:.....

Numaram:.....

ÇOCUK VE OYUN

Sebzelerden sevdiğim:
Havuç, domates, oyun.
Meyvelerden sevdiğim:
Elma, şeftali, oyun.
Bence en iyi besin oyun
Çünkü
Hiçbir şey yemesem bile bazen
Oynarken doyuyorum.

İsmail UYAROĞLU

(İlk iki soruyu şiire göre yanıtlayınız.)

1. Şiirde hangi yiyecekten bahsedilmemiştir?

- A) Domates
B) Portakal
C) Şeftali

2. Şiirin ana duygusu aşağıdakilerden hangisidir?

- A) Sebze sevgisi
B) Meyve sevgisi
C) Oyun Sevgisi

3. Alfabemizin birinci ve on dördüncü harfleriyle oluşturulan kelimenin eş anlamlısı hangi seçenekte geçmektedir?


- A) Kedimizin gözleri kömür gibi karaydı.
B) Sabah kalktığımda her yer beyaza bürünmüştü
C) Birazcık koşunca yanakları al al olmuştu.



Yukarıdaki sözcüklerden anlamlı bir cümle yaptığımızda şekillerin sırası nasıl olur?

- A)
- B)
- C)

5.



Yandaki görselde aşağıdakilerden hangisinin cevabı yoktur?

- A) Çocuk ne yapmaktadır?
B) Çocuk niçin okumaktadır?
C) Çocuk nerededir?

6.

112 - 115 - 118 - 121 - 123 - 127

Yukarıdaki örüntüde örüntüyü bozan sayı hangisidir?

- A) 118 B) 121 C) 123

7.



9 - 18 - 27 - 36 - 45 - 54



18 - 27 - 36 - 45 - 54 - 63



27 - 36 - 45 - 54 - 63 - 71

İleriye doğru dokuzar ritmik sayma yapan çocuklardan hangisi yanlış saymıştır?

- A) Mustafa B) Eylül C) Furkan

8. İleriye doğru yedişer ritmik sayarken 3. söylediğimiz sayı 49 ise saymaya hangi sayıdan başlanılmıştır?

- A) 35 B) 42 C) 49

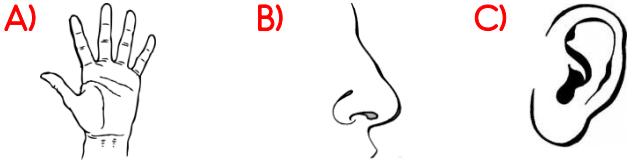
9. Üç basamaklı en küçük tek doğal sayı hangisidir?

- A) 100 B) 101 C) 102

10. " 17 " sayısının Romen rakamları ile yazılışı hangisidir?

- A) XVI B) XXII C) XVII

11. Bir maddenin sıcaklığını hangi duyu organımız ile anlarız?



12. ▲ Göz çukurunda bulunur.

😊 En hassas duyu organımızdır.

♥ Ocaktaki yemeğin kokusunu gözlerimizle algılarız.

Gözümüz ile ilgili verilen bilgilerden hangisi ya da hangileri doğrudur?

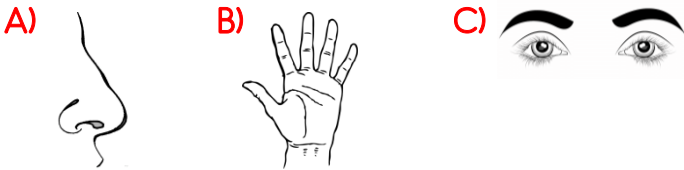
A) ▲ B) ▲, 😊 C) ▲, 😊, ♥

13. * Ne olduğunu bilmediğimiz maddeleri koklamak sağlına zarar verebilir. *

Yukarıdaki cümlede boş bırakılan yere hangi duyu organımız gelmelidir?

A) Burun B) Kulak C) Dil

14. Yazı yazan birisinin aşağıdaki hangi duyu organını kullanmasına gerek yoktur?



15. → Düzenli olarak banyo yapmalıyız.

→ Uzun süre Güneş altında kalmamalıyız.

→ Kirli ve tozlu yerlerden uzak durmalıyız.

→ Kesici ve yanıcı maddelerden uzak durmalıyız.

Yukarıda verilen bilgilerden kaç tanesi deri sağlığımız için gereklidir?

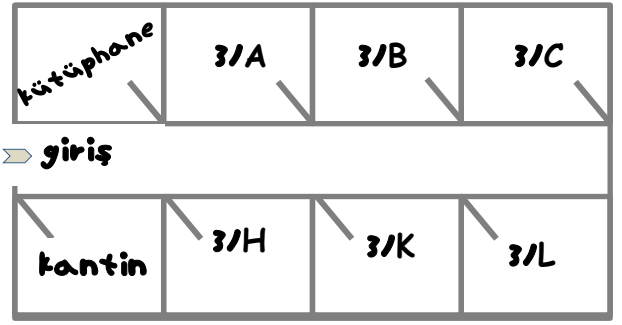
A) 2 B) 3 C) 4

16. Kroki ile ilgili aşağıda verilen ifadelerden hangisi yanlıştır?

A) Krokiler, kuşbakışı olarak çizilir.

B) Krokiler, bir yerin görünüşünün büyütülerek kâğıt üzerine çizilmesidir.

C) Krokiler, yaşadığımız yeri bizlere tanıtır.



(17. ve 18. soruyu krokiye göre yanıtlayınız.)

17.



Yağız

Ben, kantinin yanındaki sınıfta okumaktayım. Kağan benim karşımdaki sınıfta, Davut ise Kağan'ın yan sınıfta okumaktadır.

Yağız'ın verdiği bilgilere göre öğrencilerin sınıfları hangisinde doğru verilmiştir?

	Yağız	Kağan	Davut
A)	3/A	3/H	3/K
B)	3/H	3/A	3/B
C)	3/H	3/K	3/L

18. Berkay, kütüphanenin yanındaki sınıfta okumaktadır. Buna göre Berkay'ın sınıfı hangi seçenekte doğru verilmiştir?

A) 3/A B) 3/B C) 3/C

19. Okulumuzda düzenlenen etkinlikler ile ilgili verilen bilgilerden hangisi yanlıştır?

A) Birlik ve beraberliğimizi artırır.

B) Ailelerimizin kaynaşmasını sağlar.

C) Sadece başarısız öğrenciler katılır.

20. * Belirli gün ve haftalarda düzenlenen etkinliklerde görev alarak *

Yukarıda verilen cümleyi hangisi ile tamamlayabiliriz?

A) Para kazanırız.

B) Toplumsal olaylara karşı duyarlılığımızı artırırız.

C) Anne babamızı kızdırırız.

kolay gelsin

