

Adım Soyadım :

Sonuç :

Sınıfım:.....

Numaram:.....

Kitabın yanında defter
Defterin yanında bardak
Bardağın yanında çocuk
Çocuğun yanında kedi
Ve uzakta yıldızlar yıldızlar
Oktay Rifat HOROZCU

(İlk iki soruyu şiire göre yanıtlayınız.)

1. Şiire göre çocuk kimin yanındadır?


- A) Kitabın
B) Defterin
C) Bardağın

2. Aşağıdakilerden hangisi şiirin başlığı olabilir?

- A) Yıldızlar
B) Hayvan Sevgisi
C) Araba Sevdası



Verilen görselleri sözlük sırasına koyduğumuzda en başa hangisi gelir?



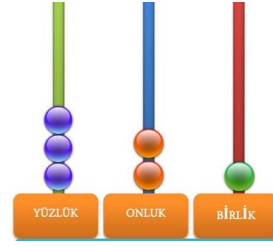
4. " icat " sözcüğünün eş anlamlısı hangi cümlede kullanılmıştır?

- A) Ömer'in bulduğu kedi çok güzeldi.
B) Ahmet Al'inin buluşu çok faydalı olacak.
C) Köyümüzün bulunduğu yer ilçeye de yakındır.

5. " çay " kelimesi hangisinde farklı bir anlamda kullanılmıştır?

- A) Ülkemizde çay en çok Rize'de yetişir.
B) Bardaktaki çayı yanlışlıkla döktüm.
C) Köyümüzün içinden kocaman bir çay geçmektedir.

6.



Abaküste gösterilen sayı ile ilgili verilen hangi bilgi yanlıştır?

- A) Rakamla yazılışı 123'tür.
B) Üç yüz yirmi bir diye okunur.
C) Onlar basamağındaki rakamın basamak değeri 20'dir.

7.

1 onluk

3 yüzlük

5 birlik

Yukarıda yüzlük, onluk ve birlik şeklinde verilen sayı hangisidir?

- A) 135 B) 153 C) 315

8. Aşağıdaki sayılardan hangisi farklı bir onluğa yuvarlanır?

- A) 246 B) 242 C) 238

9.

692 683

Yukarıda verilen iki sayı karşılaştırıldığında aralarına hangi işaret gelmelidir?

- A) < B) > C) =

10.

306

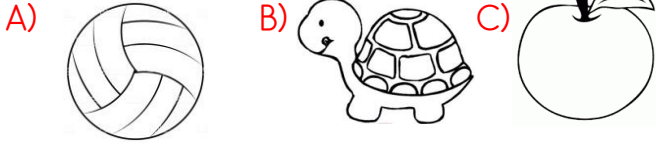
854

579

Yukarıda verilen sayıların küçükten büyüğe doğru sıralanışı nasıl olmalıdır?

- A) 306 < 854 < 579
B) 579 < 854 < 306
C) 306 < 579 < 854

11. Aşağıdakilerden hangisi Dünya'nın şekline örnek olamaz?



12. a. Alttan ve üstten basıktır.
b. Yanlarından basıktır.
c. Filin hortumları üzerindedir.


Dünya'mızın şekli ile yukarıda verilen bilgilerden kaç tanesi doğrudur?

- A) 1 B) 2 C) 3

13. Hangisi Dünya'mızın katmanlarından biri değildir?

- A) Çekirdek
B) Yer Küre
C) Ağaç Küre

14.



a Kara Katmanı



b Hava Katmanı



c Su Katmanı

Yukarıdaki resimleri bulundukları katmanlarda yazılı olan harf ile eşleştirirsek hangi sonuç oluşur?

- A)

a

 B)

c

 C)

b

- | |
|---|
| b |
|---|

b

c

- | |
|---|
| c |
|---|

a

a

15. Rüzgâr, yağmur, kar gibi hava olayları hangi katmanda gerçekleşir?

- A) Kara Katmanı
B) Su Katmanı
C) Hava Katmanı

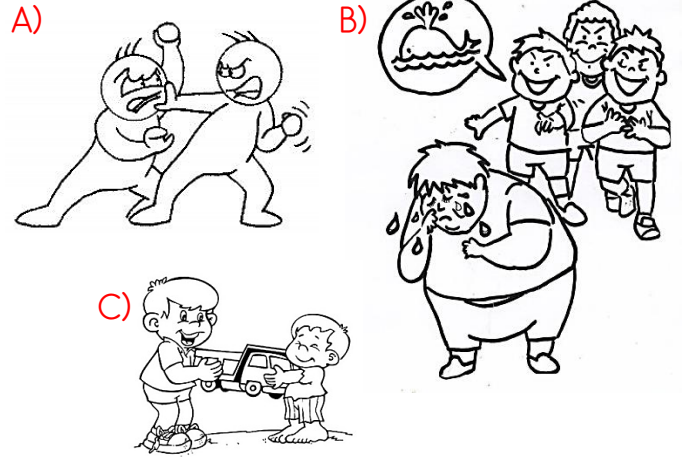
16. Aşağıda verilen ifadelerden hangisi yanlıştır?

- A) Farklı görüşlere karşı çıkmalıyız.
B) Arkadaşlarımızın davranışları bizi etkiler.
C) Birbirimizin sorunlarına karşı duyarlı olmalıyız.

17. Aşağıdaki davranışlardan hangisi Zehra ile Aygül'ün arkadaşlığını olumsuz etkiler?

- A) Yarışmayı kazanan Aygül'ü Zehra'nın tebrik etmesi
B) Kalemını kaybeden Aygül'e, Zehra'nın kendi kalemını vermesi
C) Aygül, zayıf not alınca Zehra'nın ona gülmesi

18. Hangi görsel arkadaşlık ilişkilerini olumlu olarak etkiler?



19. Aşağıdakilerden hangisi olumsuz davranışlara örnektir?

- A) Arkadaşımızın sırrını kimseye anlatmamak
B) Oyunu kurallarına göre oynamamak
C) Arkadaşımızı sözünü kesmeden dinlemek

20. a. Bencillik
b. Nezaket
c. Dürüstlük

Yukarıdaki davranışlardan hangisi ya da hangileri arkadaşlık ilişkilerine zarar verir?

- A) a B) a, b C) a, b, c

