











## ÇEVRE HESAPLAMA




\*Aşağıdaki karelerin çevresini hesaplayınız.

				
$\Ç = \dots\dots\dots$	$\Ç = \dots\dots\dots$	$\Ç = \dots\dots\dots$	$\Ç = \dots\dots\dots$	$\Ç = \dots\dots\dots$
$\Ç = \dots\dots\dots$	$\Ç = \dots\dots\dots$	$\Ç = \dots\dots\dots$	$\Ç = \dots\dots\dots$	$\Ç = \dots\dots\dots$




\*Aşağıdaki karelerin çevresi verilmiştir. Noktalı yerlere karelerin bir kenarının uzunluğunu yazınız.

				
$\dots\dots\dots$	$\dots\dots\dots$	$\dots\dots\dots$	$\dots\dots\dots$	$\dots\dots\dots$

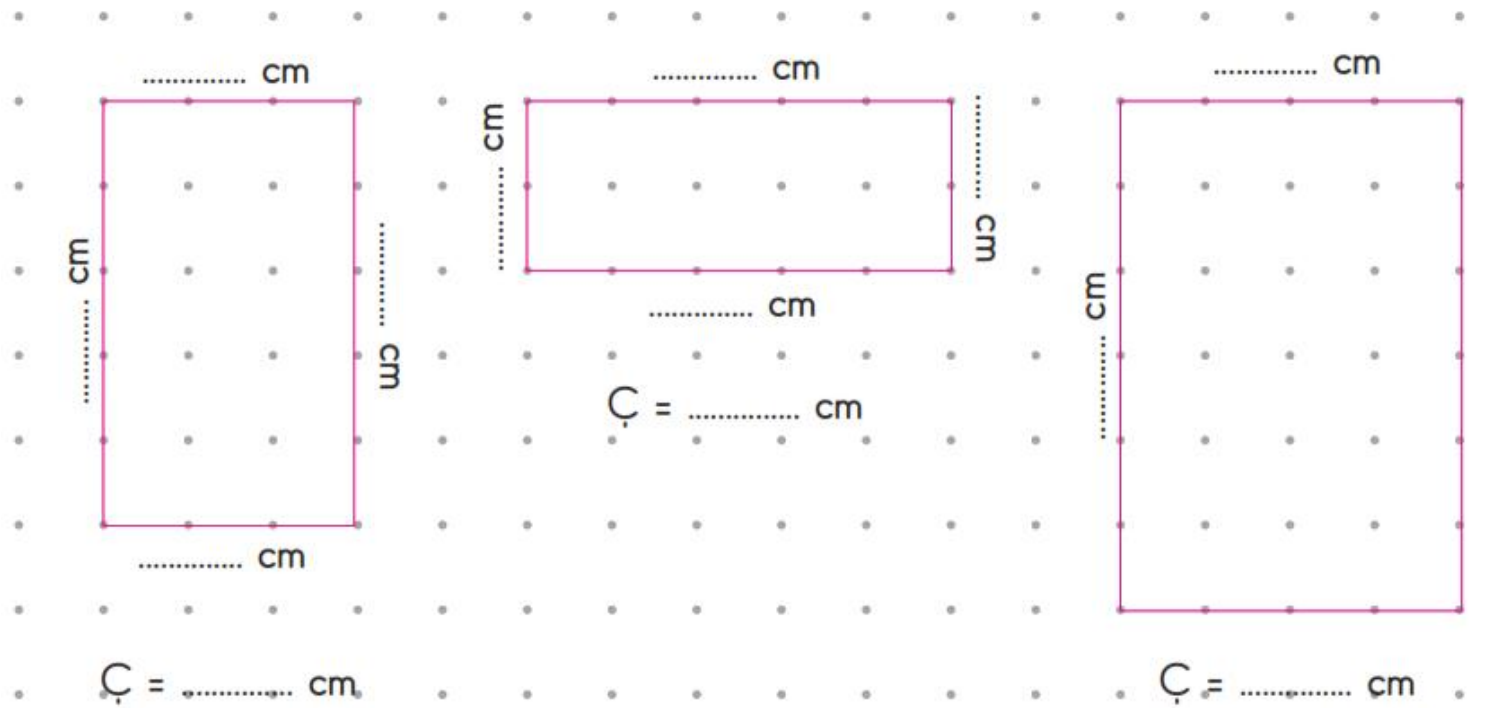
\*Aşağıdaki dikdörtgenlerin çevresini hesaplayınız.

		
$\Ç = \dots\dots\dots \text{ cm}$	$\Ç = \dots\dots\dots \text{ cm}$	$\Ç = \dots\dots\dots \text{ cm}$

\*Aşağıda çevresi verilen dikdörtgenlerin diğer kenarlarını yanlarına yazınız.

		
$\Ç = 20 \text{ cm}$	$\Ç = 10 \text{ cm}$	$\Ç = 14 \text{ cm}$

\*Aşağıdaki noktalı kağıtta her iki nokta arası 1cm’dir. Buna göre verilen şekillerin kenar uzunluklarını bularak çevresini hesaplayınız.



\*Aşağıdaki şekillerin çevresini hesaplayınız

