

Adı Soyadı:

-----TÜRKÇE-----



Atatürk'ün yolu, bir köy okuluna düşmüştü. Tek sınıflı bir okulda genç bir öğretmen ders veriyordu. Atatürk, sınıfa girince, öğretmen ona yer vermek istedi.

Atatürk:

-Hayır, yerinize oturunuz ve dersinize devam ediniz. Eğer izin verirsiniz, biz de sizden faydalanmak istiyoruz, dedi ve ekledi:

-Sınıfa girdiği zaman, cumhurbaşkanı bile olsa öğretmenden sonra gelir.

(İlk 4 soruyu parçaya göre cevaplayınız.)

SORULAR

T1) Atatürk nasıl bir okula uğruyor?

- A) Atatürk öğretmeni olmayan bir köy okuluna uğruyor.
- B) Atatürk bir köy okuluna uğruyor.
- C) Atatürk bir şehir okuluna uğruyor.

T2) Atatürk sınıfa girince öğretmen ne yapıyor?

- A) Atatürk sınıfa girince dersine devam ediyor.
- B) Atatürk sınıfa girince öğretmen Atatürk'e yer vermek istiyor.
- C) Atatürk sınıfa girince öğretmen hiçbir şey yapmadı.

T3) Atatürk öğretmene nasıl davranıyor?

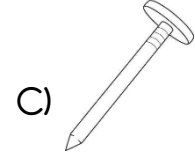
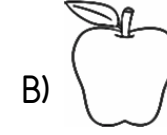
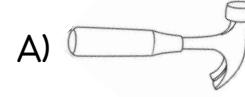
- A) Atatürk öğretmenden dersine devam etmesini istiyor.
- B) Atatürk öğretmenin ayağa kalkmasını istiyor.
- C) Atatürk öğretmenden ona yer vermesini istiyor.

T4) Okuduğunuz yazıdan nasıl bir sonuç çıkarıyorsunuz?

- A) Atatürk'e göre öğretmenler önemli insanlar değildir.
- B) Atatürk 'e göre öğretmenler
- C) Atatürk öğretmene çok değer verirdi.



T5) Aşağıdaki nesnelerden hangisinin adı sözlükte diğerlerinden önce gelir?



Kalemin ucunu açmaya çalışıyordu.

T6) Yukarıdaki cümle hakkında verilenlerden hangisi yanlıştır ?

- A) 4 kelimeden oluşmaktadır.
- B) 15 heceden oluşmaktadır.
- C) Bütün kelimeler doğru yazılmıştır.

Doktor kardeşimi iyileştirdi.

T7) Yukarıda altı çizili sözcük yerine aşağıdakilerden hangisi getirilebilir ?

- A) savcı
- B) veteriner
- C) hekim

T8) Aşağıdaki cümlelerin hangisinde "yıl" kelimesinin eş anlamlısı kullanılmıştır ?

- A) Haziran ayı çok sıcak geçti.
- B) Yılmadan yorulmadan çalışıyorum.
- C) Bu sene çok ayva oldu.

T9) Aşağıdaki cümlelerin hangisinde dört heceden oluşmuş bir kelime yoktur ?

- A) Annem balkonda çay içiyor.
- B) Pazartesi günü gideceğiz.
- C) Belediye sokakları temizliyor.

T10) Aşağıdaki sözcüklerden hangisi hecelerine yanlış ayrılmıştır?

- A) ki-tap-çı-lar
- B) gö- zler-in -den
- C) mut- lu- luk

M1) 9 yüzlük + 9 birlik şeklinde çözümlenen bir sayı kaç basamaklıdır.

- A) 3 B) 2 C) 1

M2) Aşağıda bazı sayıların yazılışları ile okunuşları eşleştirilmiştir. Bu eşleştirmelerden hangisi yanlıştır ?

- A) 308 = Üç yüz sekiz B) 951 = Dokuz yüz elli bir
C) 490 = Dört yüz dokuz

M3) Dört yüz altı şeklinde okunan sayının rakamla yazılışı hangisidir ?

- A.)46 B.)406 C.) 460

M4) 5 onluk, 8 yüzlük, 3 birlikten oluşan sayı kaçtır ?

- A) 583 B) 358 C) 853



38-30 =

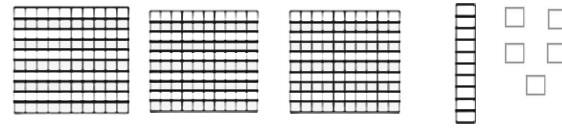
M5) Ali'nin yaptığı işlemin sonucu kaçtır ?

- A) VII B) VIII C) IX

M6) Birler basamağı 4 ,onlar basamağı 4, yüzler basamağı 7 olan sayının en yakın onluğa yuvarlanması hangisidir?

- A) 740 B) 450 C) 750

M7)



Yukarıdaki sayıyı en yakın onluğa yuvarlağa yuvarsak hangi sayı olur?

- A) 315 B) 310 C) 320

786

M8) Sayısını en yakın onluğa yuvarladığımızda onlar basamağındaki rakamın basamak değeri hangi sayı olur?

- A) 90 B) 80 C) 790

M9) Onlar ve birler basamağı 4 olan üç basamaklı en küçük sayı hangi onluğa yuvarlanır?

- A) 940 B) 150 C) 140

296-865-827-635-498

M10) Yukarıdaki sayıları küçükten büyüğe doğru, uygun sembol ile sıralayan çocuk hangisidir ?

- A) 296<498<827<635<865
B) 296>498>635>827>865
C) 296<498<635<827<865

-HAYAT BİLGİSİ-



Gitar çalmayı seviyorum. Fakat iyi gitar çalamıyorum.



H1) Yukarıdaki çocuk zayıf yönünü geliştirmek için ne yapmalıdır ?

- A) Gitar çalmayı bırakmalıdır.
- B) Şarkı söylemeye başlamalıdır.
- C) Gitar kursuna gitmelidir.

H2) Arkadaşlarınızla devamlı nezaket kurallarına uygun bir şekilde konuşuyorsunuz. Bu durum arkadaşınızı nasıl etkiler?

- A) Onları üzer.
- B) Onları mutlu eder.
- C) Onları sinirlendirir.



Ceyda

Derste öğretmenimi dikkatli dinlersem

H3) Ceyda'nın cümlesi aşağıdakilerden hangisiyle tamamlanabilir?

- A) arkadaşlarım tarafından çok sevilirim
- B) öğretmenler beni sevmez.
- C) başarıımı kötü yönden etkiler.

H4) Aşağıdakilerden hangisi arkadaşlarımızla ilişkilerimizi güçlendirir ve sevilmemizi sağlar?

- A) Arkadaşlarımız ile alay etmek.
- B) Görgü kurallarına uymak.
- C) Onları sürekli şikayet etmek



H5) Aşağıdaki davranışlardan hangisi yanlıştır ?

- A) İzin almadan arkadaşımızın eşyasını kullanmak
- B) Sabahları arkadaşlarımıza "Günaydın" demek
- C) Sınıf kurallarına uymak

H6) Ailemizden sonra bize en yakın olan kişiler aşağıdakilerden hangileridir?

- A) Tanıdıklarımız
- B) Hizmetliler
- C) Arkadaşlar

H7) Gerektiğinde de özür dilemek ya da teşekkür etmek arkadaşlık ilişkilerimiz için önemlidir. Aşağıdaki davranışlardan hangisi için arkadaşlarımızdan özür dilemeliyiz?

- A) Eşyaları paylaştığımızda.
- B) Oyunu kaybettiğinde
- C) İstmeden arkadaşımızı üzdüğümüzde.

-FEN BİLİMLERİ-



F1) Eski zamanlarda insanlar Dünya'mızın şekli ile ilgili olarak yukarıdaki görüşleri ifade eden görsellerden kaç tanesini savunuyordu.

- A) I
- B) II
- C) III

F2) Gemiyle Dünya'mızın çevresini dolaşarak Dünya'nın yuvarlak olduğunu kanıtlayan gemici kimdir?

- A) Macellan
- B) Edison
- C) Biruni



Çevremize baktığımızda
Dünya'mızı düz gibi
görürüz.



F3) Bunun sebebi aşağıdakilerden hangisidir?

- A) Dünyanın yüzeyinin çok büyük olması
- B) Dünya'nın düz olması
- C) Dünya'mızın kare olması

F4)Aşağıdakilerden hangisi Dünya'nın yuvarlak olduğunu ispatlar?

- A) Dünya'nın kendi çevresinde dönmesi.
- B) Dünya üzerinde denizleri ve karaların olması.
- C) Deniz kenarında bizden uzaklaşan geminin yavaş yavaş kaybolması.

- ⇒ Kalınlığı her yerde aynı değildir.
- ⇒ Dünya'nın tüm yüzeyini kaplar.
- ⇒ Üzerinde insan, bitki ve hayvan yaşar.

F5) Yukarıda özellikleri verilen katman hangisidir?

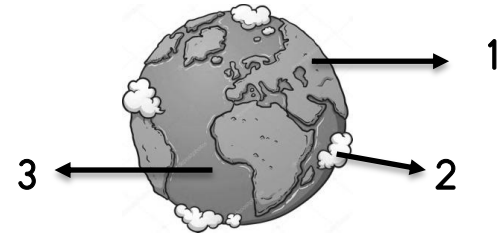
- A) Yer kabuğu
- B) Manto
- C) Çekirdek

F6)Aşağıdaki ifadelerden hangisi doğrudur?

- A) Hava tabakasının içinde su buharı yoktur.
- B) Hava tabakası çeşitli gazlardan oluşur.
- C) Hava tabakasının içinde yalnızca oksijen vardır.

F7) "Hava Katmanı" için aşağıdakilerden hangisi söylenemez?

- A) Güneşten gelen zararlı ışınları önler.
- B) Hava olayları bu kürede gerçekleşir.
- C) Yer kabuğu da denir.



F8) Yukarıda numaralandırılmış yerler hangi katmanlara aittir?

- | | |
|---------------------|---------------------|
| A) 1 → Kara Katmanı | B) 1 → Kara Katmanı |
| 2 → Hava Katmanı | 2 → Su Katmanı |
| 3 → Su Katmanı | 3 → Hava Katmanı |
- C) 1 → Su Katmanı
2 → Hava Katmanı
3 → Kara Katmanı



Balıklar, ahtapot, denizati, istakoz
.....yaşar.

F9) Yukarıdaki noktalı yere hangi katman gelmelidir?

- A) su küre
- B) taş küre
- C) hava küre

F10) Dünyanın iç katmanlarının içten dışa sıralanışı hangi şıkta doğru verilmiştir?

- A) Çekirdek-Yer Kabuğu-Manto
- B) Yer Kabuğu-Çekirdek- Manto
- C) Çekirdek-Manto-Yer Kabuğu

F11) Aşağıdakilerden hangisi hava kürede gerçekleşmez?

- A) sis
- B) erozyon
- C) yağmur

-----BAŞARILAR-----