

### 3.SINIF DENEME SINAVI

#### TÜRKÇE TESTİ

##### FİDAN

Nasrettin Hoca bir gün evinin bahçesine birkaç fidan diker. Fakat diktiği fidanları akşam söker. Ertesi sabah aynı fidanları yeniden bahçeye diker. Fidanları akşam tekrar söker. Hoca'nın yaptıklarını gören komşuları dayanamayıp yanına gelirler.

-Hocam, bakıyoruz; fidanları sabahları dikeyor, akşamları da söküyorsun. Bu nasıl iş, bir türlü akıl erdiremedik.

-Ah, hiç sormayın komşular... Baksanıza ortalık hırsızlardan geçilmiyor. Ne olur ne olmaz, insanın malı hep gözünün önünde olmalı!

(İlk üç soruyu yukarıdaki fıkraya göre cevaplayınız.)

1) Nasrettin Hoca, diktiği fidanları ne zaman söküyormuş?

- A) Kış mevsiminde
- B) Akşam
- C) Kuruduğu zaman

2) Hoca'nın yaptıklarını kimler fark etmiş?

- A) Karısı
- B) Komşuları
- C) Mahallesinin muhtarı

3) Nasrettin Hoca'nın, fidanları sökmesinin nedeni aşağıdakilerden hangisi olamaz?

- A) Hırsızların çalmasından korkması.
- B) Ağaçları sevmemesi.
- C) Fidanların gözünün önünde durmasını istemesi.

4) Aşağıdaki cümlelerin hangisinde parantezle belirtilen yere virgül getirilemez?

- A) Mehmet ( ) in arabasını yeni gördüm.
- B) Pazardan elma ( ) portakal aldım.
- C) Murat ( ) Ahmet ve Sinan beraber gittiler.

5) Aşağıdaki cümlelerin hangisinin sonuna farklı bir noktalama işareti getirilmelidir?

- A) Bugün erkenden kalktım
- B) Yarıyıl tatiline ne zaman gireceğiz
- C) Havalar erkenden kararmaya başladı.

6) Aşağıdaki sözcükleri sözlük sırasına göre sıraladığımızda 2.sırada hangi sözcük yer alır?

- A) paket
- B) sepet
- C) demet

### 3.SINIF 1. DONEM 1. DENEME SINAVI

7)



Kitaplarımı  
yanıma aldığım  
için .....

Yukarıdaki cümle aşağıdaki kelimelerden hangisiyle sürdürülemez?

- A) ders çalışmadım.
- B) derslerimi aksatmadım.
- C) bol bol okuma yaptım.

8) " televizyon" kelimesi hecelerine nasıl ayrılır?

- A) tel-e-viz-yon
- B) te-le-viz-yon
- C) tele-viz-yon

9) Aşağıdaki cümlelerin hangisinde aralarında benzerlik ilişkisi kurulan varlıkların altı çizilmiştir?

- A) Cemre'nin altın gibi sarı saçları var.
- B) Dün hava çok soğuktu.
- C) Derslerine çalışırsa başarılı olur.

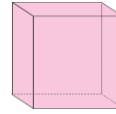
10) " Kaz " kelimesi aşağıdaki tümcelerden hangisinde farklı anlamda kullanılmıştır.

- A) Bahçemize derin bir çukur kazdık.
- B) En sevdiğim hayvanlardan biri de kazdır.
- C) Hayatımda hiç kaz görmedim.

### MATEMATİK TESTİ

1) 5 tane yüzeyi, 6 tane köşesi olan geometrik cisim aşağıdakilerden hangisidir?

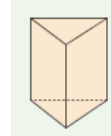
A)



B)



C)



2)



Yukarıdaki sayı örüntüsünde ;



ve



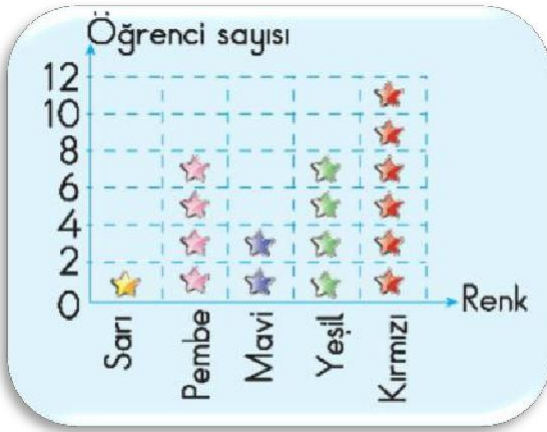
yerine sırasıyla

hangi sayılar gelmelidir?

- A) 20, 16
- B) 12, 18
- C) 14, 20

### 3.SINIF 1. DONEM 1. DENEME SINAVI

Grafik : Sınıfta en çok sevilen



(Grafikte her şekil 2 öğrenciyi göstermektedir. Buna göre 2 ve 3. soruları yukarıdaki grafiğe göre cevaplayınız.)

3) Pembe ve yeşil rengi seven öğrencilerle ilgili söylenenlerden hangisi doğrudur?

A) Pembe rengi sevenler yeşil rengi sevenlerden fazladır.

B) Yeşil rengi sevenler, pembe rengi sevenlerden fazladır.

C) Pembe ve yeşil rengi seven öğrenci sayıları aynıdır.

4) Grafiğe göre sınıf mevcudu kaçtır?

A) 34 B) 30 C) 32

5) Hangi basamakta olursa olsun sayı ve basamak değeri değişmeyen rakam aşağıdakilerden hangisidir?

A) 0 B) 1 C) 9

6) Murat'ın babası 46 , Annesi 42 yaşındadır. Murat'ın babası ve annesini yaşlarının toplamını en yakın onluğa yuvarlayarak bulursak sonuç kaç olur?

A) 90 B) 100 C) 80

7) XX = 20 XIX = 19

VV = 25 VII = 7

Yukarıdaki Romen rakamlarından kaç tanesinin okunuşu doğru verilmiştir?

A) 2 B) 3 C) 4

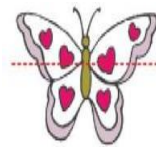
8) 510 599 499 519

Yukarıdaki sayıları büyükten küçüğe sıraladığımızda baştan ikinci sayı aşağıdakilerden hangisi olur?

A) 499 B) 519 C) 510

9) Aşağıdakilerden hangisi simetrik olarak iki eş parçaya ayrılmıştır?

A)



B)



C)



### 3.SINIF 1. DONEM 1. DENEME SINAVI

10) Aşağıdaki şekillerden köşesi ve ayrıtı yoktur?

A)



B)



C)



Yukarıdaki çocuklardan hangisi yanlış bilgi vermiştir?

A)



B)



C)



### ...FEN BİLİMLERİ TESTİ...

1) Aynı yolu daha uzun sürede alan bir varlığın hızı .....

Yukarıdaki noktalı yere aşağıdakilerden hangisinin getirilmesi doğru olur?

A) diğerinden daha hızlıdır.

B) diğeriyle aynı hızdadır.

C) diğerine göre yavaştır.

2)



İtme kuvveti uygulayarak cisimleri yavaşlatabiliriz.



Kuvvet uygulayarak hareket eden bazı cisimleri durdurabiliriz.



Kuvvet uygulayarak cisimlerin yönünü değiştirebiliriz.

3)



Görme duyu organıdır.



Koklama duyu organıdır.



Duyma duyu organıdır.

Yukarıdaki eşleştirilmelerden hangisi doğrudur.

A)



B)



C)



### 3.SINIF 1. DONEM 1. DENEME SINAVI

4) Aşağıdakilerden hangisi hızlanma hareketi yapan bir varlığa örnektir?

- A) Viraja yaklaşan araba.
- B) Kalkışa geçen uçak.
- C) Kırmızı ışığa yaklaşan araba.




5) Aşağıdaki hareketlerden hangisi diğerlerinden farklıdır?

- A) Kaydıraktan kayan çocuk.
- B) Harekete geçen araba.
- C) Çalışan bir vantilatörün pervanesi.

6) Aşağıdakilerden hangisi yanlıştır?

- A) Kaplumbağa, kediye göre yavaştır.
- B) Hareket halindeki helikopterin pervanesi sallanma hareketi yapar.
- C) Uçak , arabaya göre daha hızlıdır.

7) Aşağıdakilerden hangisi duyu organlarımızdan birisi değildir?

- A) 
- B) 
- C) 

8) Hareketli cisimler çeşitli tehlikelere sebep olabilir. Aşağıdakilerden hangisi bu duruma örnek olamaz?

- A) Çalışan vantilatörün pervanesine elimizle dokunmak.
- B) Hızlı giden bir bisikleti elimizle durdurmaya çalışmak.
- C) Üzerimize doğru gelen balonu tutmak.

9) Yıldızların parıltısı.

Çiçeğin rengi.

Kuşların cıvıltısı.

Mutfakta pişen yemeğin kokusu.

Havanın soğuk yada sıcaklığı.

Yukarıdakilerden kaç tanesini gözümüzle algılarız?

- A) 2
- B) 3
- C) 4

10) Duyu organlarımızın büyük bir kısmı vücudumuzun hangi bölümünde yer alır?

- A) başımızda
- B) gövdemizde
- C) sırtımızda

### 3.SINIF 1. DONEM 1. DENEME SINAVI

#### HAYAT BİLGİSİ TESTİ

1) Aşağıdakilerden hangisi arkadaşımızda olmasını istediğimiz davranışlardan birisi değildir?

- A) Kararlılık
- B) Tarafsızlık
- C) Karamsarlık

2) İyi bir konuşmacı aşağıdaki davranışlardan hangisini yapmaz?

- A) Dinleyenlerin yüzüne bakar.
- B) Bağırarak konuşur.
- C) Nezaket ifadelerini kullanır.

3)



"Melih, arkadaş seçiminde olumlu özellikleri dikkate alan bir öğrencidir."

Buna göre aşağıdakilerden hangisi Melih'in arkadaş seçiminde dikkate aldığı özelliklerden birisi olamaz ?

- A) hoşgörülü
- B) bencil
- C) dürüst

kazandırdıklarından biri değildir?

- A) Planlı ve programlı olma.

4) Aşağıdakilerden hangisi krokinin özelliklerinden bir tanesi değildir?

- A) Kuş bakışı çizilmesi
- B) Plansız olması
- C) Planlı olması

5)



Okulumuz tarihiyle ilgili araştırma yaparken aşağıdakilerden hangisini öğrenmemize gerek yoktur?

- A) Okulumuzun adını nerden aldığı.
- B) Okulumuzda mezun olan herkesin adını.

C) Okulumuzun hangi tarihte yaptırıldığını.

6)



İlayda, sınıfta yapılan deneme sınavında birinci olmuştur. Sınıf arkadaşları bu durumda İlayda' ya nasıl davranmalıdırlar?

- A) İlayda'nın başarısını çekememelidirler.
- B) Başarılı olduğu için İlayda'yı tebrik etmelidirler.
- C) İlayda'nın başarısını umursamamalıdırlar.

B) Yanlı davranma.



### 3.SINIF 1. DONEM 1. DENEME SINAVI

8) Aşağıdakilerden hangisi  
Atatürk'ün öğrenim gördüğü son  
okuldur?

A) Mahalle Mektebi

B) Askeri İdadi

C) Harp Akademisi

9) Okulda acil bir durum  
meydana geldiğinde ilk olarak  
kime haber vermeliyiz?

A) Polise

B) Babamıza

C) Öğretmenimize

10 ) Yangın çıktığında aşağıdaki  
numaralardan hangisi aranmalıdır?

A) 110

B) 112

C) 155