

ADI SOYADI:.....

## TÜRKÇE



Kadın, bir gece havaalanında bekliyordu. Uçağın kalkmasına daha epeyce zaman vardı. Havaalanındaki bir dükkândan, bir kitap ve bir paket

kurabiye satın alıp kendisine oturacak bir yer buldu. Kitaba kendini öyle bir kaptırmış ki yine de yanında duran adamın aralarındaki paketten birer birer kurabiye aldığını gördü. "Kibar bir insan olmasaydım şu adamın gözlerini morartırdım." diye düşündü. Sonunda pakette tek bir kurabiye kalınca adam, kurabiye ikiye böldü. Yarısını ağzına attı, yarısını kadına verdi. Kadın hayatında bu kadar sinirlendiğini hatırlamıyordu. Uçağın kalkacağı anons edilince kadın toplandı, dönüp bakmadı bile kurabiye hırsızına. Uçağına bindi. Koltuğına oturdu. Çantasına elini uzatınca şaşırıp kaldı. Bir paket kurabiye gözlerinin önünde duruyordu. Meğer adam her bir kurabiyesini kadınla paylaşmıştı. Özür dilemek için geç kaldığını anladı. Kurabiye hırsız kendisiydi işte. (İlk üç soruyu metne göre cevaplayınız.)

**Yukarıdaki metinde aşağıdakilerden hangisine değinilmemiştir?**

- A) Kadının bir havaalanından beklediğine
- B) Kadının, adama çok sinirlendiğine
- C) Kadının evine gidecek yol parasının olmadığına

**2. Bu metnin ana fikri nedir?**

- A) Kurabiyemizi başkalarıyla paylaşmalıyız.
- B) Ön yargılı olmak, insanları yanlış düşünmeye doğru yönlendirir.
- C) Uçak ile seyahat etmeden önce mutlaka kitap almalı ve kurabiye yemeliyiz.

**3. Yukardaki olay nerede geçmektedir?**

- A) uçakta
- B) havaalanında
- C) durakta

**4) "çalış" fiili aşağıdaki cümlelerin hangisinde şimdiki zamana göre uyarlanmıştır ?**

- A. Gizem ders çalışıyor.
- B. Gizem ders çalışacak.
- C. Gizem ders çalıştı.

**5. Aşağıdaki cümlelerin hangisinde neden-sonuç ilişkisi yoktur?**

- A) Dondurmayı çok yiyince boğazım ağrıdı.
- B) Ayağı takılınca yere düştü.
- C) Annemi ,babamı tüm ailemi seviyorum.

**6.Aşağıdaki cümlelerin hangisinde sıfat( bir varlığı niteleyen kelime) kullanılmamıştır?**

- A) Sağlık için her gün bir yumurta yerim.
- B) Ramazanda sıcak pideleri ben alırım.
- C) Akrabalar bayramda köye gelecekler.

Güneş girmeyen eve ..... girer.

**7.Bu atasözdeki boşluğa hangi görseldeki meslek adı yazılmalıdır?**



**8." Traktör " kelimesi ile aynı hece sayısına sahip olan sözcük aşağıdakilerden hangisidir?**

- A.otobüs
- B.prens
- C.kitap

**9)Aşağıdaki sözcüklerden hangisi yapısı bakımından diğerlerinden farklıdır?**

- A.çiftçi
- B.karaciğer
- C.Akdeniz

**10."Durakta yarım saat otobüs bekledim." cümlesinde altı çizili kelimeler sırasıyla hangi soruların cevabıdır?**

- A. nerede-ne
- B. nereden-kim
- C. ne – nasıl

**11. Aşağıdaki cümlelerin hangisinde altı çizili kelime bir zamir değildir?**

- A) Biz yarın size geleceğiz.
- B) Ben her yıl Muğla'ya giderim.
- C) Şu ağaç kırk yaşındadır.

**12. Aşağıdaki hangi cümlede yazım yanlış yapılmıştır?**

- A) Sen niçin ara mı yorsun?
- B) Yarın arkadaşların geliyor mu?
- C) Tuana'yı tanımıyor musun?

sayı	sekiz	sıcak	su	simit
------	-------	-------	----	-------

**13)Yukarıda karışık olarak verilen sözcükleri, sözlük sırasına göre sıraladığımızda 4. Olan kelime aşağıdakilerden hangisidir?**

- A. simit
- B. su
- C. sayı

**14) "sür" sözcüğü hangi tümcede farklı anlamda kullanılmıştır?**

- A) Elindeki fırçayı dikkatli **sür**.
- B) Babam "Arabayı dikkatli **sür**." derdi.
- C) Ayakkabıyı yere **sür**terek yürüyordu.

15. Aşağıdaki tümcelerden hangisinde **ayrı yazılması gereken** –de bitişik yazılmıştır?

- A) Köpeğim**de** durmadan havlıyor.  
B) Yolda beni görünce yanıma geldi.  
C) İbrahim bahçe**de** top oynuyor.

ADI SOYADI:.....

### MATEMATİK



1) Ali evinden Ayşelere ,oradanda Ayşe'yle beraber parka gidip oyun oynuyorlar. Ali evinden parka kadar kaç m kaç cm yürümüştür?

- A. 55m 49cm  
B. 45m 59cm  
C. 65m 69cm

X	10	5
8	80	▲
★	90	45



2) Yukarıdaki çarpım tablosuna göre verilmeyen sayıların farkı kaçtır?

- A. 40  
B. 33  
C. 31

21	27	33	39	46	51
----	----	----	----	----	----

3) Yukarıdaki sayı örüntüsünde kuralı bozan sayı aşağıdakilerden hangisidir?

- A. 46      B. 27      C. 51

4) Eren ile Serkan sıralarının boyunu standart olmayan uzunluk ölçme birimleriyle ölçtüler. İkisi de farklı sonuçlar söylediler. Buna göre Eren ve Serkan hangi ölçme aracını kullanmış olabilirler?

- A. metre      B. karış      C. cetvel



$$70 - 30 = 40$$

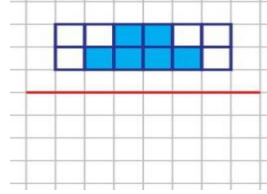
$$5 - 2 = 3$$

$$40 + 3 = 43$$

5) Azra hangi çıkarma işlemini zihninden yapmıştır?

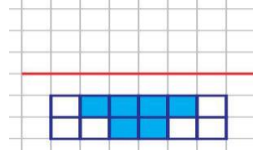
- A. 76 - 35  
B. 75 - 32  
C. 73 - 31

Azra

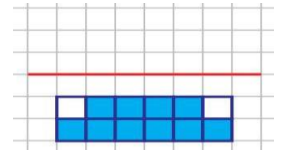


6) Yandaki şeklin verilen doğruya göre simetriği aşağıdakilerden hangisidir?

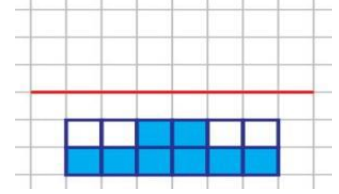
A.



B.




C.




7) Aşağıdaki saatlerden hangisi 11.50'den 45 dakika sonrasını göstermektedir?

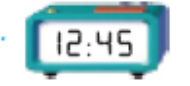
A.



B.

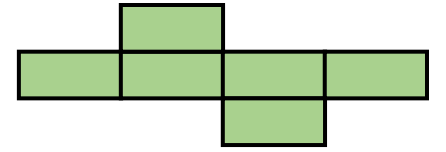


C.



8) Yanda açılımı verilen cisim aşağıdakilerden hangisidir?

- A. Kare prizma  
B. küp  
C. Dikdörtgen prizma



9) Aşağıdaki bölme işlemlerinden hangisinde kalan sayısı vardır?

A. 39

3

B. 42

4

C. 72

8



10) Terzi elindeki 5 m kumaşın önce 1 m 40 cm'sini, sonra da 2 m 50 cm'sini kullandı. Geriye kaç cm kumaş kaldı?

- A. 180  
B. 260  
C. 110

11)Aşağıdaki saatlerden hangisinde akrep ve yelkovan geniş açı oluşturmuştur?



556

522

615

12)Yukarıda sembolle gösterilen sayılardan hangileri aynı yüzlüğe yuvarlanır?

A. ★ ■ B. ■ ▲ C. ★ ▲



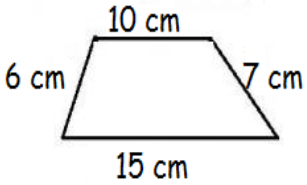
13.Tramvay biletinin fiyatı 2 TL 50 kr'tur. Okula tramvayla gidip gelen Yiğit biletler için 5 günde kaç TL para ödemiştir?

A.10  
B.25  
C.30



14) 60 m kumaşın  $\frac{2}{6}$  'si satıldı.  
Geriye kaç m kumaş kalmıştır?

A) 10  
B) 20  
C) 40



15. Yandaki şeklin çevre uzunluğu kaç cm'dir?

A.25  
B.32  
C.38

ADI SOYADI:.....

### HAYAT BİLGİSİ

.....İnsanlar yaşamlarına devam edebilmek için bitki ve doğaya ihtiyaç duyar.  
.....Pusulanın renkli ucu güneyi gösterir.  
.....Bitkilerin yaşaması için su ve hava yeterlidir..  
.....Karınca yuvaları yön bulmamıza yardımcı olabilir.

1.Yukarıdaki ifadeleri doğru ve yanlış olarak ifade edersek sırlama nasıl olur?

A. D – Y – Y – D B. D – D – Y – Y  
C.Y – D – Y – D

2. Atatürk ile ilgili aşağıdakilerden hangisi söylenemez?

A) Ümidini hiçbir zaman kaybetmezdi.  
B) Planlı ve düzenli çalışırdı  
C) Kararlarında aceleciydi.

3. Aşağıdakilerden hangisi geri dönüşümün sağladığı faydalar arasında yer alır?

A) Ekonominin gerilemesine sebep olur.  
B) Enerji tasarrufu sağlar.  
C) Doğal kaynaklar hızla tükenir.

4- Aşağıda verilen canlıların hangisinin hem etinden hem de sütünden yararlanırız?



"Bitkiler, hayvan ve insanların ihtiyacı olan ..... üretir."

5)Yukarıdaki boşluğa hangi kelime yazılmalıdır?

A.oksijeni B.havayı C.suyu



Ayşegül

Atık pilleri geri dönüşüm kutusuna atarım.



Hamza

Plastik şişeleri toprağa gömerim.



M.Ali

Hayvan ve bitkileri korurum.

6.Yukarıdaki üç öğrenci ile ilgili olarak aşağıdakilerden hangisi söylenemez?


A. Ayşegül, doğayı çevreyi korumaktadır.  
B. Hamza, doğayı seven bir çocuktur.  
C. M.Ali, kaynakları bilinçli bir şekilde korur.

Semra: "Yaz tatilinde ailemle birlikte Konya ve Antalya illerini gezdik."

7. Buna göre Semra aşağıdaki tarihi eserlerden hangisini görmüş olamaz?

A) Mevlana Türbesi  
B) Efes Antik Kenti  
C) Aspendos Tiyatrosu

8.Aşağıdaki hayvanlardan hangisinin yuvası yön bulmamıza yardımcı olur?





9.Yukarıda verilen bu görsellerin temsil ettiği haklarımız aşağıdakilerin hangisinde doğru verilmiştir?

	▲	●	■
A.	Eğitim hakkı	İletişim hakkı	Seyahat etme hakkı
B.	Sağlık hakkı	Eğitim hakkı	Yaşama hakkı
C.	İletişim hakkı	Seyahat etme hakkı	Eğitim hakkı

10.Aşağıdakilerden hangisi ev kazalarına neden olmaz?

- A. Kibritle oynamak B. Bilgisayarla oynamak  
C. Topla oynamak

ADI SOYADI:.....

### FEN BİLİMLERİ

1) “İnsanlar tarafında oluşturulan park, bahçe gibi yerler ..... çevreye örnek olarak gösterilebilir.”

Yukarıdaki ifadede boş bırakılan yere hangi ifade yazılmalıdır?

- A) yapay B) doğal C) temiz

Sümeyye, annesinin fırında pişirdiği böreği yemek için soğumasını bekledi.

2)Yukarıda bahsedilen elektrikli cihazla ilgili verilen bilgilerden hangisi yanlıştır?

- A) Fırın, elektrik enerjisini ısı enerjisine çevirir.  
B) Fırın, şehir elektriği ile çalışır.  
C) Fırın soğutma amaçlı kullanılır.

3)Aşağıdaki atıklardan hangisinin geri dönüşümü olmaz?



A.



B.



C.

4)Aşağıdaki cümlelerde altı çizili kelimelerden hangisi gaz haledir?

- A) Sabahları süt içerim.  
B) Masada 4 tane bardak var.  
C) Üzerinde parfüm kokusu var.

5) Aşağıdakilerden hangisi, toprağın kirlenmesinin nedenlerindendir?

- A) Hayvan dışkıları B) Bitki kalıntıları  
C) Pet şişe ve plastik torbalar



6 )Körebe oyunu oynayan çocuklardan, ebe olan hangi duyu organlarını daha çok kullanır?

- A) Görme ve İşitme  
B) Duyma ve Dokunma  
C) Tatma ve Dokunma

7) Aşağıdaki davranışlardan hangisi elektriği tasarruflu kullanmamızı sağlar?

- A) Buzdolabının kapağını uzun süre açık tutmak.  
B) Bulaşık makinesini makine tam dolmadan çalıştırmak.  
C) Çamaşırları açık havada ipe asarak kurutmak.



Telefon



lamba



saç kurutma



kumanda

8)Yukarıdaki görsellerin ortak özelliği aşağıdakilerden hangisidir?

- A. Aydınlatma için kullanılırlar.  
B. Isıtmada kullanılırlar.  
C. Elektrikle çalışırlar.



9)Aşağıdakilerden hangisi görseldeki canlıya ait bir özellik değildir?

- A) Büyür ve gelişir.  
B) Hareket eder.  
C) Kendi besinini kendi yapar.

(.....) Peri bacaları ve Pamukkale doğal çevre örneğidir.

(.....) Yollar, parklar, köprüler yapay çevreye örnektir.

(.....) Cansız varlıklar büyür, çoğalır, solunum yapar ve beslenirler.

(.....) Elektrik, su, doğal gaz gibi kaynaklar tükenmeyen kaynaklardır.

(.....) Çevrenin zarar görmesi sadece insanları etkiler.

(.....) Toprak cansız varlıklara örnektir.

Yukarıdaki ifadelerden kaç tanesi doğrudur?

- A.3 B.5 C.1