

ADI SOYADI:.....

TÜRKÇE



Bizim evimizde teknolojik alet kullanımı sınırlıdır. Mesela benim cep telefonum yok. Arkadaşlarımla çoğunda var. Ancak annem bu konuda çok kararlı. On

beş yaşına gelene kadar almayacaktım. Bilgisayarı genellikle araştırma ödevlerinde kullanıyorum. Annemi ikna edebilirsem bazen yarım saat oyun oynayabiliyorum. Annem telefon ve televizyona karşı. Çünkü dikkatli kullanılmıyorsa beynimizi uyuşturuyormuş. Her şeyi dikkatli ve düşünerek kullanılması gerekiyormuş. Annem hayatımdaki en büyük koruyucu meleğim...
(İlk üç soruyu metne göre cevaplayınız.)

1. Metne göre kaç yaşına geldiğinde cep telefonu olabilmış?

- A.10 B.12 C.15

2. Teknolojik aletler doğru kullanılmıyorsa ne olurmuş?

- A. Bağımlılık yapıp insanı uyuşturuyormuş
B. Elektrik faturaları çok yüksek olurmuş.
C. Okulda çok başarılı olunuyormuş.

3. Annesi neden telefon ve televizyonun çok kullanılmasına karşıymış?

- A. Teknolojiyi sevmediği için.
B. Sadece kendisi kullansın diye.
C. Sağlığımıza zarar vermemesi için.

Şimdiki zaman
Gelecek zaman
Geçmiş zaman

4) "Koş" fiilini yukarıda belirtilen zamanlara göre uyarırsak sıralama nasıl olur?

- A. koştu B. koşacak C. Koşuyor
Koşacak koşuyor koşacak
Koşuyor koştu koştu

5. Aşağıdaki cümlelerden hangisinde neden-sonuç ilişkisi yoktur?

- A) Öğretmenimiz hepimizi sinemaya götürdü.
B) Acıkınca kantinden tost aldım.
C) Çok oyun oynadığım için yorgunum.

6. Aşağıdaki cümlelerin hangisinde sıfat (bir varlığı niteleyen kelime) kullanılmamıştır?

- A) Muhammed yeni top aldı.
B) Yeşil biberlerin hepsi acı değil.
C) Ayşe'nin resimlerini herkes beğeniyor.

- 1- Buzdolabından su almak istedi.
2- Annesi gelmeden yerleri temizlemeye karar verdi.
3- Annem bunu görürse çok kızar diye düşündü.
4- Suyu çıkarırken çorbayı devirip döktü.
7. Yukarıdaki cümleler olayların oluş sırasına göre sıralandığında sıralama nasıl olur?
A) 1-4-3-2 B) 3-1-4-2 C) 3-1-2-4

8. "Beraa , uzun eteğini giymiş. " cümlesinde eteğin hangi özelliği belirtilmektedir?

- A) rengi B) biçimi C) sayısı

9) Aşağıdaki cümlelerin hangisinde altı çizili kelimenin sesteşi yoktur?

- A) Tüm gün televizyonun karşısından kalkmadı.
B) Korkudan yüzü sap sarı olmuştu.
C) Sırtında kocaman bir ben vardı

kitap	boya	fasülye
toprak	sınav	çilek

10) Yukarıdaki kelimelerden kaç tanesi büyük ünlü uyumuna uymamıştır?

- A.2 B.4 C.6

11) "Geç" sözcüğü hangi tümcede farklı anlamda kullanılmıştır?

- A) Dikkat ederek karşı kaldırıma geçtim.
B) Suyu yüzerek geçti
C) Bazı sabahlar okula geç kalıyoruz..

ayı	aslan	akrep	ahtapot	arı
-----	-------	-------	---------	-----

12) Yukarıda karışık olarak verilen sözcükleri, sözlük sırasına göre sıraladığımızda 3. Olan kelime aşağıdakilerden hangisidir?

- A. arı B. aslan C. ahtapot

13. Aşağıdaki hangi cümlede yazım yanlış yapılmamıştır?

- A) İzmir, 9 eylül 1922'de düşman işgalinden kurtarıldı.
B) Türk hava kurumu, havacılık çalışmaları yapar.
C) Biz, Bursa'da bir mahallede oturuyoruz.

- Baba bayramlıklarımı aldın mı()
- Tabi ki aldım.
- Yaşasın() Ayakkabımı () pantolonumu () gömleğimi almışsın ()

14)Yukarıdaki cümlelerdeki parantez içlerine sırayla hangi noktalama işaretleri gelmelidir?

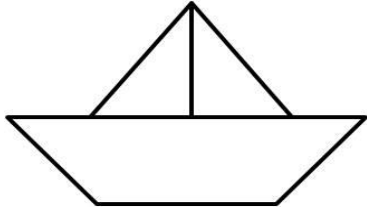
- A) (?) (.) (,) (:) (!)
B) (?) (!) (,) (,) (.)
C) (!) (,) (.) (,) (?)



15. “Siz onu bana sorun.”
Cümlesinde kaç tane zamir vardır?
A) 1 B) 2 C) 3

ADI SOYADI:.....

MATEMATİK



1–Yandaki şekilde kaç tane **dar açı** vardır ?

- A) 8
B) 6
C) 4

2) Aşağıdakilerden hangisi metre ile ölçülür?



A. Dolap



B. yol



C. kalem

3-Nergis, arkadaşlarına **bir gün**ünün $\frac{3}{8}$ 'ünü

uyuyarak, $\frac{3}{8}$ 'ünü okulda ve ders çalışarak, geri kalan zamanını da oynayarak eğlenerek geçirdiğini söylemiş. Nergis kaç saatini oynayarak, eğlenerek geçirirmiş?

- A) 6
B) 4
C) 2



4.)Yukarıdaki cetvelde ölçülen telin uzunluğu hangisidir?

- A) 9 cm B) 5 cm C) 7 cm



5.)Yukarıda sembollerle gösterilen sayılardan hangileri **aynı yüzlüğe** yuvarlanır?

- A. ★ ■ B. ■ ▲ C. ★ ▲



6.) Damla'nın boyunun 1 metre olması için kaç cm daha uzaması gerekir?

- A) 9 B) 19 C) 100



7.) Yukarıdaki sayı örüntüsünde kuralı bozan sayı aşağıdakilerden hangisidir?

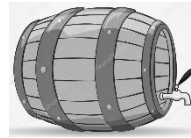
- A.18 B.34 C.9

8-) Yarım kilosu 2 TL olan patatesten 4 kg alan Ayşegül, satıcıya 20 TL veriyor. Kaç lira para üstü almalıdır?

- A.4
B.8
C.12

9.)Aşağıdaki eşitliklerden hangisi yanlıştır?

- A) 845 cm = 8 m 45 cm
B) 606 cm = 6 m 60 cm
C) 516 cm = 5 m 16 cm



10.) Bir fıçıda 49 litre zeytinyağı vardı. Bu fıçıya 41 litre daha zeytinyağı konularak fıçı dolduruluyor. Fıçıdaki yağ 3 litrelik şişelere dolduruluyor. Daha sonra her şişe 32 liradan satılırsa kaç lira kazanılır?

- A.960
B.660
C.654

11.)

$$\begin{array}{r} \blacktriangle \bullet 9 \\ - 45 \blacksquare \\ \hline 234 \end{array}$$

Yandaki işlemde, "▲"

"●" ve "■" yerine yazılması gereken rakamlar aşağıdaki-

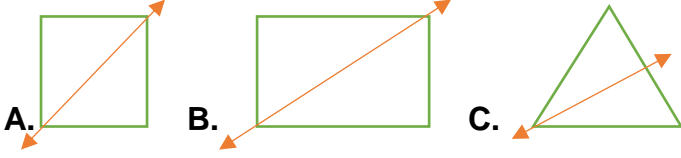
lerin hangisinde doğru verilmiştir?

- A) ▲ → 4 B) ▲ → 6 C) ▲ → 6
● → 3 ● → 7 ● → 8
■ → 5 ■ → 4 ■ → 5

12) Annem temizlediği balıkları 18.20'de fırına bıraktı. Balıklar fırında 40 dakikada pişti. Balıklar piştiğinde saat kaç olmuştu?

- A) 18.60
B) 17.40
C) 19.00

13.) Aşağıdakilerden şekillerden hangisinin simetri doğrusu yanlış çizilmiştir?



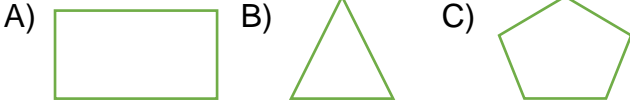
$$50 + 20 = 70$$

$$8 + 1 = 9$$

$$70 + 9 = 79$$

Azra


15. "Benim tüm açıları dik açıdır. Karşılıklı kenarlarım birbirine eşittir. 2 tane simetri doğrum vardır." Buna göre ben hangi şekilim?



ADI SOYADI:.....

HAYAT BİLGİSİ

1. Matematiğe katkılarından dolayı TÜBİTAK Bilim Ödülünü kazanan bilim insanımız kimdir?



A. Cahit ARF B. Gazi YAŞARGİL C. Engin ARIK

At, eşek gibi hayvanların.....yararlanırsınız. Ekmek Besindir.

2. Yukarıdaki noktalı yerlere aşağıdaki kelimelerden hangisi gelmelidir?

- A. sütünden – bitkisel
B. gücünden – hayvansal
C. gücünden – bitkisel

3. Ülkemiz cumhuriyetle yönetilmeden önce hangi yönetimle yönetiliyordu?

- A. Krallık B. Padişahlık C. Cumhuriyetçilik

Efes Antik Şehri

İzmir

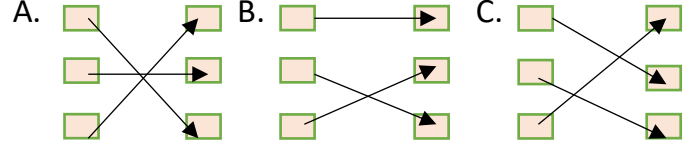
Sümela Manastırı

Ağrı

İshak Paşa Sarayı

Trabzon

4. Tarihi yerler bulundukları iller ile eşleştirildiğinde okların konumu hangi seçenekteki gibi olur?



5. Aşağıdaki tarihler ve olaylar eşleştirilmiştir. Bunlardan hangisi doğrudur?

- A) 19 Mayıs TBMM'nin açılışı
B) 23 Nisan 1920 Atatürk'ün Samsun'a çıkışı
C) 29 Ekim Cumhuriyetin ilanı

6. "Çalışkan, cesur, yenilikçi ve ileri görüşlü olması Atatürk'ün özelliklerindendir."

Cümlesindeki boşluğa aşağıdakilerden hangisi yazılmalıdır?

- A. yenilik B. kişilik C. bencillik

Su	Demir	Hava
Güneş	Kaya	pil

7. Bir bitkinin yaşayabilmesi için yukarılardan kaç tanesine ihtiyacı vardır?

- A.3 B.6 C.4

8. Çevre temizliğiyle ilgili aşağıda verilen ifadelerden hangisi yanlıştır?

- A. Sadece evimizi temiz tutmalıyız.
B. Çöpleri özelliklerine göre ayırmalıyız.
C. Çevreyi kirletenleri uyarmalıyız.

9. İnsanların zorunlu nedenlerden dolayı yerlerini değiştirmesine ne diyoruz?

- A. seyahat B. göç C. turizm



10. Yandaki trafik levhasının anlamı aşağıdakilerden hangisidir?

- A. Yaya giremez
B. Okul geçidi
C. Yaya yolu

ADI SOYADI:.....

FEN BİLİMLERİ

- Kuvvetin cisimler üzerinde bir etkisi yoktur.
- Kuvvet cisimlerin şeklini değiştirebilir.
- Kuvvet duran cisimleri hareket ettirebilir.

1.) Kuvvet ile ilgili yukarıda verilenlerden kaç tanesi doğrudur?

A.1 B.2 C.3

2-)



Semra

Tüm canlılara ait ortak özellikler vardır. Aşağıdakilerden hangisi bunlardan biri değildir?

A) Yürüme B) Büyüme C) Üreme



Dünya'nın şeklinin küreye benzediğini söyleyen ilk bilim insanı kimdir?

3-) A) Macellan B) Pisagor C) Aristo



Su



kolonya

4.) Gözleri kapalı olan Umut kolonya ile suyu birbirinden nasıl ayırt edebilir?

A .Koklayarak B. İçerek
C. dokunarak

5-) " Dalaman'dan havalanan bir uçak sürekli aynı yöne doğru uçarsa tekrar Dalaman 'a varır." Yukarıdaki ifade aşağıdakilerden hangisinin kanıtıdır ?

A) Dünya'nın şeklinin yuvarlak olması
B) Dünya'nın şeklinin düz olması
C) Uçakların çok yüksekte uçuşması



6-) Atık pillerin çevreye zarar verdiğini bilen Betül , aşağıdakilerden hangisini yapmalıdır?

A) Atık pilleri toprağa gömmelidir.
B) Şarj edilebilen pil satın almalıdır.
C) Diğer çöplerin olduğu kutuya atmalıdır.

	D	Y
Süt, sıvı maddelerdendir.	✓	
Yağmur, katı maddelerdendir.		✓
Su buharı, gaz maddelerdendir.		✓
Ekmek, katı maddelerdendir.	✓	

7.) Tablodaki işaretlemelerden kaç tanesi doğrudur?

A.2 B.3 C.4

8.) Aşağıdakilerden hangisi farklı elektrik kaynaklarıyla çalışır?



A.



B.



C.

☐ Bir enerji türü başka bir enerji türüne dönüştürülebilir.

☐ Elektrik enerjisini sadece evlerde kullanabiliriz.

☐ Elektrik günümüzde birçok alanda kullanılmaktadır.

9.Yukarıdaki doğru-yanlış etkinliğinde ifadelerin başına sırasıyla hangileri yazılmalıdır?

A) D – Y – D
B) D – D – D
C) Y – D – Y



10.Yukarıdaki şemada boş bırakılan kutuya aşağıdakilerden hangisi yazılmalıdır?

A. akarsu B. orman C. park