

ADI SOYADI:.....

## TÜRKÇE



İki çocuk ormanda geziniyorlardı. Birdenbire önlerine bir ayı çıktı. Ayıyı görür görmez çocuklardan birisi ağaca tırmandı. Diğer ise çaresiz ölü gibi yere

uzandı. Ayı yerde yatan çocuğa yaklaştı, burnunu uzatarak çocuğu kokladı kokladı. Sonunda homurdanarak başını salladı ve uzaklaştı.

Ağaca saklanan çocuk ağaçtan inerek yerde yatan arkadaşının yanına geldi. Gülererek ona; "O ayı senin kulağına bir şeyler fısıldadı. Ne dediğini bana da söyler misin?" dedi. Yerde yatan çocuk: Ayı bana; "Tehlike sırasında seni yalnız bırakanlarla dost olma dedi." diye cevap verdi.

( ilk üç soruyu metne göre cevaplayınız. )

1.İki çocuk ormanda gezerken hangi hayvanla karşılaşmışlar?



2.İki arkadaş nerede dolaşıyorlarmış?

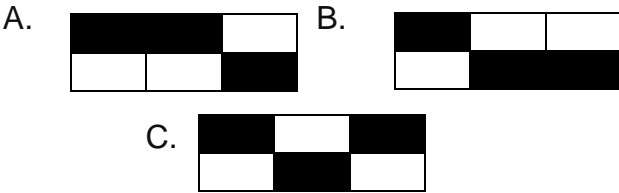
- A. Hayvanat bahçesinde B. Mahallede  
C. Ormanda

3.Bu parçada asıl anlatılmak istenen ana fikir nedir?

- A. Ormandaki yabani hayvanlara dikkat etmeliyiz.  
B. Arkadaşlarımızı zor zamanda yalnız bırakmamalıyız.  
C. Ayılar ölü gibi uzananlara bir şey yapmaz.

Simitçi	Tuzluk	Su
Kalemler	Taş	Kalemlik

4. Yukarıdaki kelimelerden türemiş olanları karadığımızda ortaya çıkan şekil aşağıdakilerden hangisi olur ?



5.Aşağıdaki cümlelerin hangisinde sebep-sonuç ilişkisi vardır?

- A. Ödevlerimin hepsini yaptım.  
B. Erik toplamak için ağaca çıkınca annem kızdı.  
C. Okula doğru koşa koşa gidiyordum..

Derin ( )

-Yarın parka gidelim mi ( )

Nehir ( )

-Gidelim ama Alperen ( ) Hamza ve Tuana da gelsin.

6.Yukarıdaki cümlelerde parantez içindeki yerlere sırasıyla hangi noktalama işaretleri getirilmelidir?

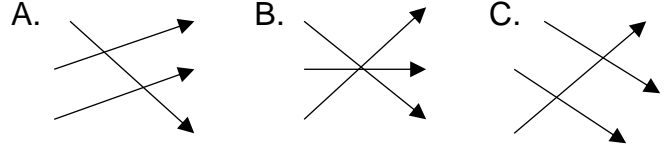
- A) (,) (.) (.) (:)  
B) (:) (?) (:) (,)  
C) (:) (.) (.) (,)

7. Aşağıdakilerden hangisinde olumsuz eylem vardır?

- A) Arkadaşlarla güzel bir beden dersi yaptık.  
B) Zeynep dikkatsizce koşunca kafasını çarptı.  
C). Hastalanınca orucumu tutamadım.

buzdolabı		Basit
Akıllı		türemiş
araba		birleşik

8.Yukarıdaki kelimeler yapısına göre eşleştirildiğinde nasıl şekil oluşur?



9. Aşağıdaki cümlelerden hangisinde eskiden yapılmış bir iş vardır?

- A) Yeni aldığım kitabı zevkle okudum.  
B) Hira dikkatini toplarsa başarılı biri olacak.  
C) Okuldan eve doğru gidiyorum.

"Saatin kaç olduğunu söyler misiniz?"

10.Yukarıdaki cümlede altı çizili sözcük, aşağıdakilerin hangisinde aynı anlamda kullanılmıştır?

- A) Hırsız polisi görünce kaçmaya başladı..  
B) Eskiden tavşan kaç tazi tut oyununu oynardık.  
C) Kitabın fiyatı kaç lira?

11. Aşağıdaki cümlelerin hangisinde topluluk ismi vardır?

- A) Anneme çiçekçiden rengarenk çiçekler aldım.  
B) Öğretmenim sınıf için bir deste kalem aldı.  
C) Mahir, terzide çıraklığa işine başlamış..

12.Aşağıdaki cümlelerin hangisinde "şu" sözcüğü adın yerine kullanılmıştır?

- A) Şu defteri bana İrmak verdi.  
B) Şurada duran cetvel kimin?  
C) Şu bardağa ayran dökte içelim.

13.) Aşağıdaki cümlelerin hangisinde hayal ürünü olan bir durumdan söz edilmektedir?

- A) Sümeyye, parkta arkadaşlarıyla oynuyordu.  
B) Arabamızla hızlı bir şekilde hastaneye gittik.  
C) Ağaçlar çiçek açtığından çok neşeliydiler.

“Başarılı olmak için gece gündüz demeden çalışıyordum.”

14. Yukarıdaki cümlelerde altı çizili sözcükler arasındaki anlam ilişkisine benzer ilişki aşağıdakilerden hangisinde vardır?

- A. Muallim – öğretmen B. Savaş – Barış  
C. Yıl – Sene

1- kitap 2- küçük 3- kazanılmalıdır  
4- alışkanlığı 5-yaşta 6-okuma

15. Yukarıdaki sözcüklerden kurallı ve anlamlı bir cümle oluşturulduğunda sıralama nasıl olur?

- A. 1 – 6 - 4 – 2 – 5 - 3  
B. 6 – 3 – 5 – 1 – 4 – 2  
C. 2 – 4 – 1 – 6 – 3 – 5


ADI SOYADI:.....

### MATEMATİK

1.  $(\square + 18) + 24 = 36 + (18 + 24)$

işleminde  $\square$  yerine hangi sayı gelmelidir ?

- A.36  
B.42  
C.27



2.)Üç kardeş birleşerek annelerine 200 TL ‘ye hediye aldı. Buna göre Zeynep kaç lira vermiştir?

- A )157  
B )115  
C ) 58

Nokta günlük yaşamımızda çeşitli alanlarda kullanılmaktadır.

3- Aşağıdaki seçeneklerin hangisi noktanın kullandığı alanlardan biri değildir?

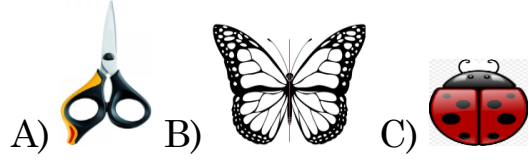
- A) Çeşitli geometrik cisimlerin köşelerinin belirtilmesinde  
B) Yazı yazarken cümle sonlarında  
C) Dikdörtgenin ayrıtlarının gösteriminde

A S E V  
L O J C

4. Yukarıdaki harflerden kaç tanesinin açısı vardır?

- A. 4 B. 2 C. 6

5.Aşağıdaki resimlerden hangisi simetrik değildir?

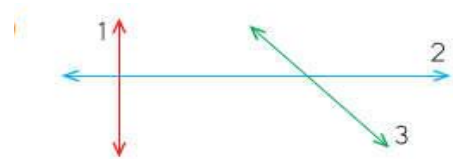


6.Yukarıdaki sayılardan kaç tanesi çift doğal sayıdır?

- A.2 B. 4 C.3

7. Bir çiftlikte bulunan 90 tavuktan her biri günde 3 tane yumurtluyor. Çiftçi, yumurtalarını her biri 30 tane alan kolilere yerleştirip pazara götürüyor. Çiftçi her gün pazara kaç koli yumurta götürmektedir?

- A)11  
B) 9  
C) 15

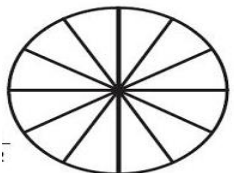
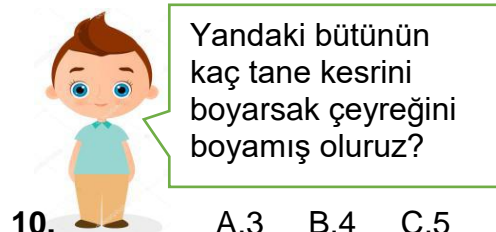


8. Yukarıdaki doğru modellerine göre hangisi yatay doğru modelidir?

- A. 1 B. 2 C. 3

9.) Ankara'dan 16.30'da hareket eden tren İstanbul'a vardığında saat 20.55'i göstermektedir. Tren ne kadar sürede İstanbul'a ulaşmıştır?

- A)4sa 25dk  
B)5sa 30dk  
C)3sa 40dk



10. A.3 B.4 C.5

- 11.) Bir çiftlikteki inek ve koyunların toplamı 75'dir. Bu hayvanların  $\frac{3}{5}$ 'ü koyun, diğerleri ise inehtir. Koyunların sayısı, ineklerden kaç fazladır?  
A.15  
B.20  
C.25



1 metre kaç santimetredir?

- A)10 cm B) 100 cm C) 1000 cm

12.

- 13.“Benim beş yüzeyim vardır. İki yüzeyim üçgen- sel bölgeden, üç yüzeyim ise dikdörtgensel bölge- den oluşmuştur. Buna göre ben hangi geometrik şekilim?

- A) üçgen prizma B) koni C) silindir

- 14-Aşağıdaki şekillerden hangisi ışına örnektir?



..... - 27 - 25 - 30 - 28 - 33

- 15.) Yukarıdaki sayı örüntüsünde noktalı yere hangi sayı gelmelidir?

- A)24 B) 22 C) 20

ADI SOYADI:.....

### HAYAT BİLGİSİ

Düşmanın vatan topraklarına girdiğini görünce hiç tereddüt etmeden üç aylık çocuğunu geride bırakarak “Evladım anasız yaşayabilir ama vatansız yaşayamaz.” diyerek Doğu Cephesi’nde direnişe katıldı.

1. Yukarıda hangi milli kahramanı- mızdan bahsetmektedir?



- A)Nene Hatun B) Kara Fatma  
C) Halide Onbaşı

- 2.) Aşağıdaki öğrencilerden hangisi kişisel bakımı hakkında bilgi vermemektedir?

- A) Her sabah uyanınca elimi ve yüzümü yıkarım.  
B) Top oynarken ayakkabım yırtıldı.  
C) Haftada en az iki kere banyo yaparım.

3. Aşağıdakilerden hangisi ülkemize ait bir tarihi yerlerden biridir?



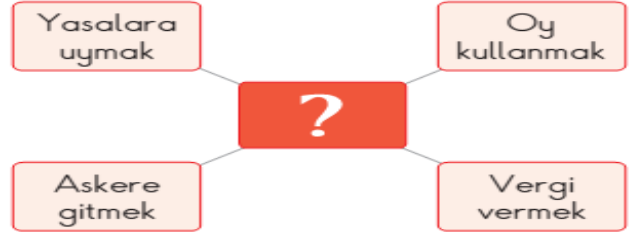
A.kız kulesi



B. Pisa kulesi



C.Eyfel kulesi



4. Yukarıdaki kavram haritasında “?” ile gösterilen yere aşağıdakilerden hangisi gelmelidir?

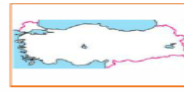
- A. Vatandaşlık Görevleri  
B. Evimizdeki Kurallar  
C. Oyun Kuralları

5. Aşağıdakilerden hangisi ülkemizde yaşayan farklı kültürlere örnek olarak gösterilir ?

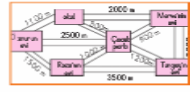
- A. Kurban Bayramı kutlamak  
B. Ramazan Bayramı kutlamak  
C. Cadılar Bayramı kutlamak

6. Aşağıdakilerden hangisi krokidir?

A.



B.



C.



- I. Atatürk iyi bir asker ve komutandı.  
II. Atatürk yaptığı işe inanan, sabırlı ve mücadeleci bir liderdi.  
III. Atatürk vatanını ve milletini seven bir liderdi.

- 7.Atatürk’ün kişilik özellikleriyle ilgili yukarıda verilen bilgilerden hangileri doğrudur?

- A. I – II - III B. II - III C. I – III



8. Şemadaki ifadelerin doğru ya da yanlış olduğuna karar vererek ilerlediğimizde hangi çıkışa ulaşırız?

- A. B. C.

**Emre:** Ödevimi yapmadım, seninkinden bakabilir miyim?

**Ece:** Ben de yapmadım, dün annemle gezmeye gittik.

**9- Çocukların konuşmaları ile ilgili ne söylenebilir?**

- A) Emre ve Ece sorumluluklarının farkında değildir.  
B) Ece ve Emre iyi arkadaşlardır.  
C) Ece ve Emre iyi vakit geçirmişler.

**10-23 Nisan 1920 tarihi ile ilgili söylenenlerden hangisi doğrudur?**

- A) Cumhuriyetin ilan edildiği tarihtir.  
B) TBMM'nin açıldığı tarihtir.  
C) Kurtuluş savaşının başladığı tarihtir.

**ADI SOYADI:**.....

### FEN BİLİMLERİ

**1. Aşağıdakilerden hangisi yapay bir çevreye örnektir?**



A.Köy B.Orman C.Dağ

Zeynep dişlerini fırçalarken suyu kapatmamıştır.

**2 ) Zeynep için aşağıdakilerden hangisi söylenebilir**

- A) Tasarruflu birisidir.  
B) Diş sağlığına özen özen gösterir.  
C) Suyu israf etmektedir.

**3. Doğal yaşamı korumayla ilgili olarak verilen bilgilerden hangisi yanlıştır?**

- A. Bütün fabrikaları kapatmak  
B. Parklara ağaç dikmek.  
C. Sokak hayvanlarına yiyecek vermek



**4. ) Aşağıdakilerden hangisi yukarıdaki maddelerin ortak özelliklerinden değildir?**

- A) Kırılgan B) Esnek C) Sert

**5.) Aşağıdakilerden hangisi akü ile çalışır?**

- A ) tablet B ) el feneri C ) araba farı

✓ Bitkiler çoğunlukla ... .. çoğalırlar.

✓ Bazı hayvanlar ... .. bazıları da ... .. çoğalırlar.

**6. Cümleler hangi kelimelerle tamamlanabilir?**

- A. tohumla – doğurarak – yumurtlayarak  
B. doğurarak – tohumla – yumurtlayarak  
C. sporlarla – yumurtlayarak – tohumla



1..... 2..... 3.....

7.Yukarıdaki görseller elektrik üretim santrelleridir.

**Bu santrallerin adı sırasıyla aşağıdakilerden hangisidir?**

- | 1.               | 2.     | 3.            |
|------------------|--------|---------------|
| A. hidroelektrik | rüzgar | termik        |
| B. rüzgar        | termik | hidroelektrik |
| C. termik        | rüzgar | hidroelektrik |

“Attığınız çöpler, fabrikaların kimyasal atıkları ve bulaşık yıkarken kullandığınız deterjanlar balıkların ölmesine yol açabilir.”

**8– İsmail’in bahsettiği kirlilik hangisidir?**

- A) Hava kirliliği B) Toprak kirliliği  
C) Su kirliliği

1. Ayran ....I.... maddedir.  
2. Kaya ....II.... maddedir.  
3. Buhar ....III.... maddedir.

**9.) Yukarıdaki cümlelerdeki boşluklara hangi kelimeler gelmelidir?**

- | I       | II   | III  |
|---------|------|------|
| A) Katı | Sıvı | Gaz  |
| B) Sıvı | Gaz  | Katı |
| C) Sıvı | Katı | Gaz  |

“Elektriğin icat edilmesiyle teknoloji de gelişmeye başlamış ve hayatımıza birçok olumlu katkısı olmuştur.”

**10.)Yukarıdaki açıklamaya göre, hangi çocuğun söylediği buna örnek olamaz?**

A) Berke : Çamaşır makinesi sayesinde annem çamaşırları kısa zamanda yıkayabiliyor.

B) Ali : Bilgisayar başında çok zaman geçirdiğim için sokakta oyun oynayamıyorum.

C) Muhammet : Elektrik süpürgesi sayesinde evimizin temizliği çabucak bitiyor.

