

ADI SOYADI:.....



TÜRKÇE

Plastik, dayanıklı olabilir ama bir o kadar da doğada yok edilmesi zor bir maddedir. Alışverişlerimizde plastik torbalar yerine doğa dostu alışveriş torbalarını tercih etmeliyiz. Doğayı korumak için bir çok firma

plastik torba kullanımını kaldırdı.

En iyisi alışverişlerimizde , kendi çantamızı taşımamız. Evimizde ya da alışverişimizde geri dönüşümlü bez veya kağıt malzemeler kullanmak, doğaya daha az zarar verecektir. Gelin hep birlikte doğaya yardımcı olalım...

(İlk üç soruyu metne göre cevaplayınız.)

1. Metinde aşağıdakilerden hangisini kullanmayı önermemektedir?



A. Bez torba B. plastik torba C. Kağıt torba

2. Aşağıdakilerden hangisi metnin konusudur?

- A. Alışveriş torbaları
B. Bilinçli tüketicilik
C. Dayanıklı tüketim malları

3. Aşağıdakilerden hangisi metnin ana düşüncesidir?

- A. Plastik maddeler doğada yok olmazlar.
B. Alışverişlerde bilinçli hareket etmeliyiz.
C. Geri dönüşümü olan maddeleri kullanarak doğayı korumalıyız.

Batman	Bahar	Bayrak	bayat
<input type="checkbox"/>	<input type="checkbox"/>	<input type="checkbox"/>	<input type="checkbox"/>

4.) Yukarıdaki kelimeler sözlük sırasına göre sıralandığında hangisi 3. sırada olur?

- A) bayat B) Batman C) bayrak

5. Aşağıdaki cümlelerde altı çizili kelimelerden hangisi zamirdir?

- A) Şu kalem çok iyi yazıyor.
B) Şu adam dün yine buradaydı.
C) Şu kimin elbisesi, biliyor musun?

6.) Hangi cümlede sebep-sonuç ilişkisi yoktur?

- A) Dikkatli dinleyince daha iyi öğreniyorum.
B) Yağmur yağınca beden dersi iptal oldu.
C) Kerem'le Bilal top almaya gittiler.



"Kardeşim uyuyor yatağında."

cümlesinde hangi sözcük eylemdir?

- A) kardeşim B) uyuyor C) yatağında



Hoca çevresine bakmış. Hiçbir şey olmamış gibi yerinden kalkmış: "Düşmesem de zaten inecektim." demiş.



Nasrettin Hoca'nın düştüğünü gören çocuklar hemen başına toplanmışlar.



Nasrettin Hoca bir gün eşeğini koştururken yere düşmüş.



Çocuklar: "Hoca eşekten düştü ! " diye alay etmeye başlamışlar.

8. Yukarıdaki Nasrettin Hoca fıkrası, olayların oluş sırasına göre sıralanırsa , doğru sıralama aşağıdakilerden hangisi olur?

A. 3	B. 4	C. 4
2	2	3
4	1	1
1	3	2

9.) "pazar" kelimesi hangi öğrencinin söylediği cümlede farklı anlamda kullanılmıştır ?

- A) Pazar günleri ailece bir yerlere gideriz..
B) Semt pazarından alışveriş yaptık.
C) Arkadaşlarla pazar günü buluşacağız.

10.) Hangi cümlede yazım yanlışı yoktur?

- A) Her yıl marmaris'e tatile gideriz.
B) Akıllı telefonlar yüzünden artık gaste okunmuyor..
C) Ablamın okulu bu yıl bitecek.

11. Aşağıdaki cümlelerin hangisinde eylem geçmiş zamanda yapılmıştır?

- A) Ayakkabı bağlamayı öğrendim.
B) Tatilde köye gideceğim.
C) Ödevlerimi yapıyorum.

Odada	Oda	Odaya	Odayı	odadan
.....

12. Yukarıdaki kelimeleri ismin hallerine nitelendirirsek, sıralama aşağıdakilerden hangisi olur?

- A. Yönelme-yalın-belirtme-ayrılma-bulunma
B. Bulunma-yalın-yönelme-belirtme-ayrılma
C. Bulunma-yönelme-yalın-ayrılma-belirtme

karabiber		Basit
kalem		türemiş
uslu		birleşik

13. Yukarıdaki kelimeler yapısına göre eşleştirildiğinde nasıl şekil oluşur?

- A. B. C.

“ Havalarda soğuduğu için ”

14.Yukarıdaki cümle aşağıdakilerden hangisiyle tamamlanamaz?

- A) sobalar kuruldu.
- B) erikler çiçek açtı.
- C) kazaklar giyildi.

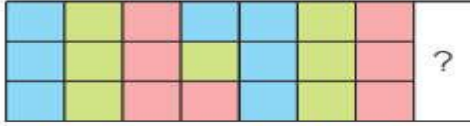
15. Yeşil koltuğun yanında duran, köşeli kutunun içinden bir çiçek resmi çıktı.

Yukarıdaki cümlede kaç tane sıfat vardır?

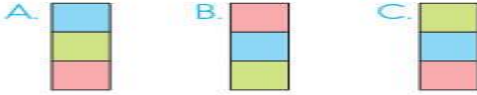
- A.1
- B.3
- C.5

ADI SOYADI:.....

MATEMATİK



1.Yukarıdaki süsleme aşağıdakilerden hangisi ile sürdürülmelidir?



Kare ve dikdörtgenin dört tane köşegeni vardır.	Üçgenin köşegeni yoktur.
Kare ve dikdörtgenin kenar sayıları birbirine eşittir.	Karenin açıları geniş açıdır.

2.Yukarıdaki tabloda yanlış olan ifadeleri kararsak aşağıdaki şekillerden hangisi oluşur?



- A.
- B.
- C.

3.) Serkan bahçeden topladığı 8 kg çileği, kilogramı 8 TL'den sattı. Kazandığı parayla tanesi 6 TL olan kitaplardan 5 tane, tanesi 2 TL olan çikolatalardan 7 tane aldı.. Serkan'ın kaç TL'si kaldı?

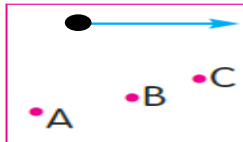
- A.35
- B.20
- C.44



4.Yukarıdaki geometrik cisimlerden hangisinin yüzeyiyle çember çizemem?

- A. koni
- B. küre
- C.silindir

5. Yandaki açının diğer kolu hangi noktadan geçerse geniş açı oluşur?
a. A b. B c. C



“3 2 ”doğal sayısı en yakın onluğa yuvarlanınca 320 oluyor.

6.) Buna göre yerine yazılabilecek rakamların toplamı kaçtır?

- A) 10
- B) 5
- C) 15



7-) Yukarıdaki şekillerin doğru modellerine göre isimleri hangi seçenekte sırasıyla doğru olarak verilmiştir?

- A-) Doğru - Doğru Parçası - Işın
- B.) Işın – doğru parçası – doğru
- C.) Doğru parçası – doğru - ışın




8–Semra, her birinde 15 yumurta olan kolilerden 7 adet getiriyor. Yumurtaların 65'sini satıyor. Yumurtaların 6 tanesi kırılıyor. Buna göre geriye kaç yumurta kalmıştır?

- A) 26
- B) 34
- C) 15

Şekil	Kenar sayısı	Köşe sayısı	Açı sayısı
kare	4	4	4
üçgen	3	3	3
dikdörtgen	4	4	4

9.Yukarıdaki tabloya göre sembollerin yerlerine hangi sayılar gelmelidir?

- A. 4 3 4
- B. 3 4 3
- C. 4 3 3



10. Kaç numaralı noktalar birleştirilirse dikdörtgen oluşur?

- A) 1-2-7-5 B) 1-8-5-3 C) 2-7-3-5



09.10'ta başlayan sınavım 80 dakika sürdü. Sınavım kaçta bitmiştir?

11. A.10.30
B.09.50
C.10.10

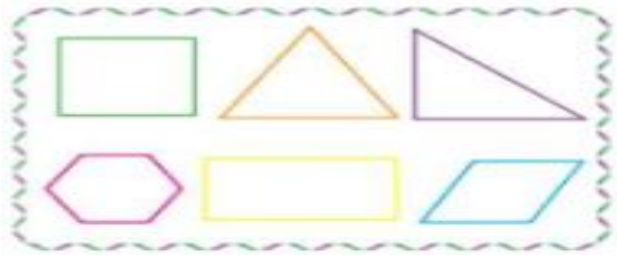
12.) Kerem dedesinin bahçesinden topladığı $\frac{4}{6}$ cevizlerin $\frac{4}{6}$ 'ünü öğretmenine, geri kalanları da eve götürdü. Kerem eve 20 kg ceviz götürdüğüne göre öğretmenine kaç kg ceviz vermiştir?

- A.20
B.40
C.60

..... - 38 - 41 - 47 - 50 - 56

13.) Yukarıdaki sayı örüntüsünde noktalı yere hangi sayı gelmelidir?

- A)32 B) 34 C) 30



14.Yukarıdaki şekillerden kaç tanesinin bütün açıları **dik açıdır** ?

- A) 4 B) 3 C) 2



15.Yukarıdaki sayılardan kaç tanesi tek doğal sayıdır?

- A.2 B. 4 C.3

ADI SOYADI:.....

HAYAT BİLGİSİ



Cumhuriyet ne demektir?

1.
A) Halkın kendi kendini yönetmesidir.
B) Halkın hep birlikte bayram yapmasıdır.
C) Halkın padişah tarafından yönetilmesidir

2.Aşağıdaki hangi öğrencinin davranışı **yanlıştır**?

A-Ali: Salıncakta ayaktaiken daha hızlı sallanıyorum.

B-Veli: Kaydıraktan önümdeki arkadaşım inmeden kaymam.

C-Umut: Salıncakta çok hızlı sallanmam.

3.Aşağıdaki trafik işaretlerinden hangisinin anlamı **yanlış** yazılmıştır?



A) bisiklet giremez



B) ünlem



C) okul geçidi


4.Hangisi yaptığı çalışmalarla 2015 yılında Nobel kimya ödülünü kazanan bilim insanıdır?



A. Vecihi
HÜRKUŞ



B. Gazi
YAŞARGİL



C. Aziz
SANCAR



Ona "Cephane yok" dediler, "Bulunur" dedi. "Ordu yok" dediler, "Kurulur" dedi, "Düşman çok" dediler, "Yenilir" dedi.

5- Yukarıdaki ifadeye göre Mustafa Kemal Atatürk'ün hangi kişisel özelliğinden söz edilmektedir?

- A) İleri görüşlü B) Aceleci C) Azimli ve kararlı

6. Aşağıdakilerden hangisi ülkemize ait bir tarihi yerlerden **değildir**?



A.Piramitler



B.Ayasofya



C.Zeugma mozaikleri

7- Okulda bir kaza meydana geldiğinde hangisini yapmak **yanlış** bir davranıştır?

A. Yaralanan arkadaşımızı hemen sınıfa taşımamız.

B. Sakin olmalı paniğe kapılmamalıyız.

C. Arkadaşımız yerden kalkamayacak durumdaysa nöbetçi öğretmene haber vermeliyiz.

8- Aşağıdakilerden hangi olay Türk Milletinin birlik beraberlikle yenemeyeceği bir güç olmadığını tüm dünyaya duyurmuştur?

- A. Kurtuluş Savaşı B) Kurban bayramı
C) Doğum günü

8.) Aşağıdakilerden hangisi doğaya daha çok zarar vermektedir?



-Yemek masasını toplayabilirim.
.....Çamaşırları yıkayabilirim.
.....Ödevlerimi yalnız başıma yapabilirim.
.....Bakkaldan ekmek alabilirim.
.....Bir işte çalışıp para kazanabilirim.

10.Yukarıdaki görev ve sorumluluklardan kaç tanesi çocuklara ait olabilir?

- A.3 B.4 C.5

ADI SOYADI:.....

FEN BİLİMLERİ



1.) Resimdeki top hangi hareketi yapmaktadır?

- A) hızlanma
B) sallanma
C) yön değiştirme


1	Soğutma	buzdolabı
2	aydınlatma	lamba
3	temizlik	telefon
4	haberleşme	bulaşık makinesi

Yukarıdaki tabloda kullanım alanlarına göre elektrikli araçlar verilmiştir.

Tablodaki yanlıştın giderilebilmesi için hangi kutuların yer değiştirmesi gerekir?

- A) 1 ve 2 B) 2 ve 3
C) 3 ve 4

3.) Aşağıdakilerden hangisi farklı bir elektrik kaynağı ile çalışmaktadır?



4- Resimdeki kişiyle ilgili ne söylenebilir?



- A. Tehlikeli maddelerle çalışırken hiçbir önlem almamıştır.
B. Tehlikeli maddelerle çalışırken koruyucu önlemleri almıştır.
C. Tehlikeli maddelerle çalışırken dikkatli davranmamaktadır.

5-



“Varlıkları görebilmemiz için gereklidir.”

Yukarıdaki cümlede noktalı yere seçeneklerden hangisi gelmelidir ?
A)-renk B)-ısı C)-ışık

6) Aşağıdakilerden hangisi havayı kirletir?

- A) Taşıtların egzozlarından çıkan zararlı gazlar.
B) Lavaboya dökülen atık yağlar
C) Ormana atılan piller.

7.Aşağıdakilerden hangisinde bir doğal çevreden söz edilmiştir?

- A) Geçen yıl şehrimizde büyük bir hayvanat bahçesi açıldı.
B) Dayımların evinin yakınında büyük bir orman var.
C) Mahallemizdeki parka küçük bir havuz yapıldı.

Bazı atıklar doğada kolay kolay yok olmaz, uzun yılların geçmesi gerekir.

8.) Aşağıdaki maddelerden hangisi doğaya en kısa sürede karışır ?



9.) Aşağıdakilerden hangisi farklı bir hareket yapar?

- A) Harekete yeni başlayan araba
B) İnişe geçen uçak
C) Yokuş aşağı yuvarlanan top

10- Aşağıdakilerden hangisi çevre kirliliğine neden olabilecek bir davranıştır?

- A) Fabrika bacalarına filtre takmak
B) Açık alanlarda atıkları yakmak
C) Atık pilleri, atık pil kutusuna atmak.