

ADI SOYADI:.....

TÜRKÇE



Sahra, kitap okumayı severdi. Bu alışkanlığı hayatının her alanında başarılı olmasını sağlıyordu. Bunu ailesi kadar sevdiği kitaplarına

borçluydu. Ne zaman ailesiyle birlikte çarşıya çıksa ,kitapçıya uğrardı. Masal, öykü ve bilmece kitapları seçerdi. Onları okumak hoşuna giderdi. Zamanla kitapları çoğalınca anne ve babası ona kitaplık aldılar. Sahra, kitaplarını özenle raflara yerleştirdi. Bu şekilde artık kitaplarını çok rahat bulabilecekti.

Annesi roman okumayı , babası gazete okumayı severdi. Sahralar okuma kültürü gelişmiş bir aileydi.

(İlk üç soruyu metne göre cevaplayınız.)

1.Sahra çarşıya çıkınca nereye uğrardı?

- A. Kırtasiyeye B. Kitapçıya C. Markete

2.Aşağıdakilerden hangisi Sahra'nın seçtiği kitap çeşitlerinden değildir?

- A. Masal B. roman C. Öykü

3.Sahra'nın ailesi hakkında aşağıdakilerden hangisi söylenemez?

- A. İşlerinin yoğunluğundan okumaya zamanları yoktur.
B. Okuma kültürü gelişmiş bir ailedir.
C. Okumayı seven bir ailedir.

4.) Aşağıdaki cümlelerin hangisinde bir yazım yanlışı yoktur?

- A) İlk meclis 23 nisan 1920'de açıldı.
B) Uludağ'da kayak yaptık.
C) Beni anlamakta zorlanıyormusun?



5. Aşağıdaki sözcüklerden hangisi eylem değildir?

- A) oyun B) yazacak C) koşuyor

I. Çocuklar hep bir ağızdan "Öğretmenimiz!" diye cevap vermişler.

II. Öğretmenle görüşükten sonra sormuş.

III. Okul müdürü sınıfa girmiş.

IV. Söyleyin bakalım, bu sınıfın en akıllısı kim?

6. Yukarıdaki cümleler hangi seçenekte olayların oluş sırasına göre sıralanmıştır?

- A.I-II-III-IV
B.III-II-IV-I
C.IV-I-III-II

7.) "O" kelimesi hangi cümlede bir ismin yerine kullanılmıştır?

- A) O öğrenci, bu okulda okumuyor.
B) O, bu mahallenin en akıllı çocuğudur.
C) Arkadaşım, o evde oturuyor.



Ahmet()in çantasında kalem ()
cetvel var () Acaba boyaları da
var mı ()

8.) Yukarıdaki anlatımda boşluklara hangi noktalama işaretleri gelmelidir?

- A. (,) – (.) – (,) – (.)
B. (') – (,) – (.) – (?)
C. (') – (:) – (,) – (?)

8.) Aşağıdaki cümlelerin hangisinde sebep – sonuç ilişkisi yoktur?

- A) Yağmur birden bastırınca ıslandım.
B) Sınavda birinci oldum.
C) Soruları dikkatlice okumayınca yanlışları çok oldu.

10-Aşağıda altı çizili kelimelerden hangisi ismin hal eklerinden birini almamıştır?

- A) Ayşe bıçağı yere bıraktı.
B) Bahçede köpekler havlıyordu.
C) Çocuklar çorap yıkıyorlardı.



11. Aşağıdaki cümlelerden hangisi olumlu bir cümledir?

- A. Bu kalem kırmızı değil.
B. Onu dün gördüğümde ağlıyordu.
C. Cüzdanımda para yok.

1- geldi	2- mis	3- toprak
4- gibi	5-kokusu	6-burnuma

12. Yukarıdaki sözcüklerden kurallı ve anlamlı bir cümle oluşturulduğunda sıralama nasıl olur?

- A. 6 – 2 – 4 – 3 – 5 – 1
B. 6 – 3 – 5 – 1 – 4 – 2
C. 2 – 4 – 1 – 6 – 3 – 5

13."Kardeşimin okula kaydını dün yaptırdık." cümlesine göre aşağıdaki soruların hangisinin cevabı yoktur?

- A) nasıl B) ne zaman C) neyi

14."Kara" sözcüğü hangi cümlede bir varlığın özelliği (sıfat) olarak kullanılmamıştır?

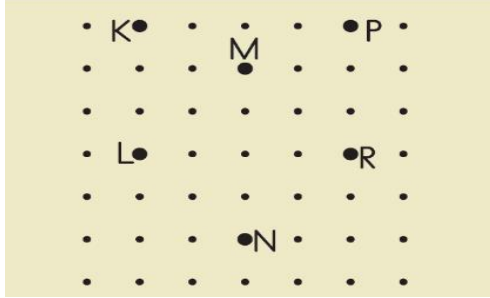
- A) **Kara** görününce yolcular rahat bir nefes aldı.
B) **Kara** gözlü çocuk babasının elini hiç bırakmadı.
C) **Kara** kaplı bir kitaptan bana masal okudu.

15. “ Yaş ” kelimesi aşağıdaki cümlelerin hangisinde farklı anlamda kullanılmıştır?

- A) Arabalar **yaş** zeminde kayar.
B) Adam **yaş**lanmış, göreceğini görmüştü.
C) Akıl **yaş**ta değil başıdır.

ADI SOYADI:.....

MATEMATİK



1.Yukarıdaki noktalı kâğıtta verilen noktalardan hangileri birleştirilirse bir **kare** elde edilir?

- A. M-L-N-R B. K-L-M-N C. K-L-R-P

2- Kardeşim, bir elmayı 6 eş parçaya bölüp 2 parçasını yedi. Kardeşim elmanın ne kadarını yemiştir?

- A. $\frac{2}{6}$ B. $\frac{2}{4}$ C. $\frac{6}{2}$

3.Hangi işlemin sonucu 600 değildir?

- A. 60×10 B. 6×100 C. 0×600

4 -Beşir, 50 kilogramlık bir çuval pirinci 2 kilogramlık paketlere doldurdu. Her paketi 12TL'ye sattı. Beşir, toplam kaç lira para kazanmıştır?

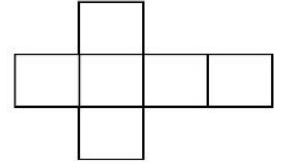
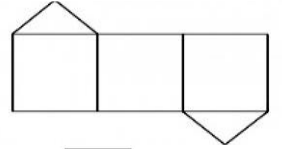
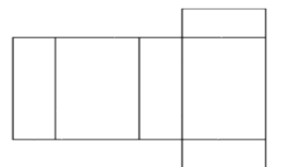

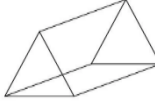
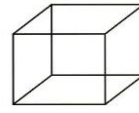
- A) 300
B) 250
C) 200

HEDİYELER	
Araba	
Top	
kitap	

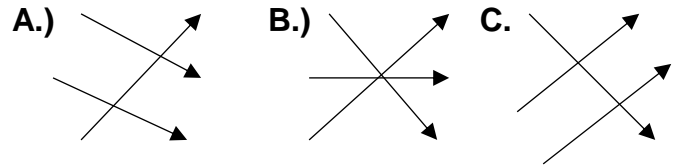
NOT: Her şekil 2 nesneyi göstermektedir.

5.) Yukarıdaki tablodaki bilgilere göre, aşağıdaki seçenekteki bilgilerden hangisi doğrudur?

- A)Arabaların sayısı kitapların sayısından 2 fazladır.
B) Toplam 14 tane nesne vardır..
C) Topların sayısı kitapların ve arabaların toplam sayısından daha azdır.



6.Yukarıdaki geometrik cisimler ve açılımları eşleştirildiğinde aşağıdaki şekillerden hangisi oluşur?



11 - 16 - 22 - 27 - 33 -

7.) Yukarıdaki sayı örüntüsünde noktalı yere hangi sayı gelmelidir?

- A)35 B) 38 C) 40

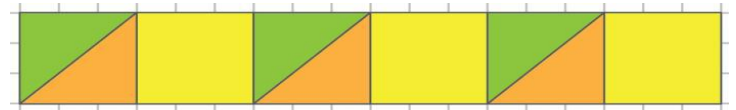
8.) Özkaya, okuldan 17.45'te çıkmaktadır. Okulda 5 saat 25 dakika kaldığına göre Özkaya okula saat kaçta gelmiştir?

- A. 12.40
B. 11.30
C. 12.20

9. Aşağıdaki ifadelerden kaç tanesi doğrudur?

- () iki gün elli saattir.
() İnsanların kütlesi kilogramla ölçülür.
() Paydası bir olan kesir birim kesirdir.
() Saatlerde yelkovan dakikayı gösterir.
() Üç çeyrek saat altmış dakikadır.

- A.1 B.3 C.5



10. Yukarıdaki süslemede aşağıdaki düzlemsel şekillerden hangileri kullanılmıştır?

- A. Üçgen ve kare
B. Üçgen, kare ve çember
C. Üçgen, dikdörtgen



11- Yukarıda kaç tane top vardır?

- A) IX B) XX C) VII



a. Işın



b. Doğru



c. Doğru parçası

12. Yukarıdaki modeller ile adları hangi seçenekte doğru eşleştirilmiştir?

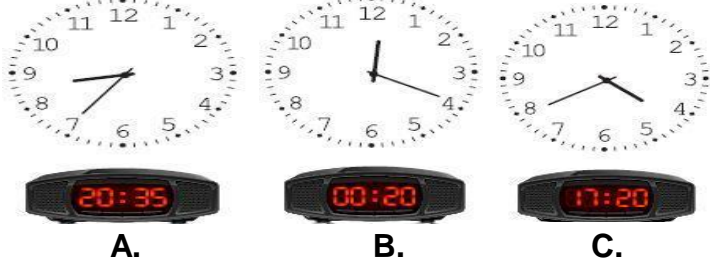
- A. I = a II = b III = c
 B. I = c II = a III = b
 C. I = c II = b III = a

13. Babam cebindeki parasının $\frac{4}{8}$ 'ünü anneme

, $\frac{1}{8}$ 'ini bana verdi. Babamın geriye 45 TL'si kaldığına göre ilk başta ne kadar parası vardı?

- A. 120
 B. 115
 C. 100

14. Çocuklardan hangisi dijital saat ile analog saati yanlış eşleştirmiştir?



15.) "6-0-2" rakamları kullanılarak yazılabilecek üç basamaklı en büyük ve en küçük sayıların farkı kaçtır?

- A. 550
 B. 316
 C. 414

ADI SOYADI:.....

HAYAT BİLGİSİ

6.)Aşağıdaki ifadelerden hangisi doğrudur?



A) Ülkemiz tarihi eser bakımından zengindir.



B) Tarihi yerlere hatıra isim yazılabilir...



C) Eski tarihi eserleri kaldırıp yerlerine sağlam binalar yapılmalıdır.

7. 1.otobüs durakları 2.parklar 3.odamız
Yukarıda verilenlerden hangileri ortak kullanım alanıdır?

- A. 1-2 B. 1-3 C. 2-3



1. Yandaki görselde hangi hak ve hürriyetimiz anlatılmıştır?

- A. Eğitim hakkı
 B. Seçme ve seçilme hakkı
 C. Haberleşme hürriyeti



İrem

Yarın haftalık değerlendirme sınavım var.

2.)İrem, hangi arkadaşının teklifini kabul etmelidir?

- A. Parka gidelim oyun oynayalım.
 B. Birlikte sınava çalışalım.
 C. Birlikte alışveriş merkezine gidelim.

3.Aşağıdaki cümlelerden doğru olan ifade hangisidir?

- A) Başkalarının sorunlarıyla ilgilenmemeliyiz.
 B) Farklı kültürdeki insanların durumlarına saygı göstermeliyiz.
 C) Farklılıkları olan arkadaşlarımızı oyunlarımıza almamalıyız.

Planlı olmalıyız.

Çok çalışmalıyız.

Yeniliklere kapalı olmalıyız.

Görevlerimizi eksiksiz yapmalıyız

4. Ülkemizin gelişimine katkı sağlamak için yukarıdakilerden kaç tanesini yapmalıyız?

- A. 1 B. 3 C. 2



"Toplumda yaşayan tüm bireylerin görev ve sorumlulukları vardır. Eğer tüm bireyler üzerine düşen görev ve sorumlulukları yerine getirirse ülkemiz gelişir."

5- Yukarıdaki açıklamaya göre aşağıdakilerden hangisinde bu duruma olumlu bir örnek vardır?

- A) Piknik yapmaya giden kişiler, yaktıkları ateşi söndürmedikleri için orman yangını çıktı.
 B) Mahallemizdeki parka kimse zarar vermediği için tüm çocuklar rahatlıkla oyuncaklarda oynayabiliyoruz.
 C) Camimizde bulunan çeşmeleri gece çalmışlar.



10.Farklı kültürdeki insanlar ile dostluklarımızın önündeki **en büyük engel** aşağıdakilerden hangisidir ?

- A. iletişim B. Hoşgörü ve iyi niyet C. Önyargı

8.

- *Yeni harflerin kabul edilmesi
- *Soyadı Kanunu'nun kabulü
- *Medeni Kanun'un kabulü

Yukarıda verilen yeniliklerin sonucunda ne olmuş olabilir?

- A. Kurtuluş Savaşı kazanılmıştır.
- B. Toplumsal yaşam değişmiştir.
- C. Yenilikler halkı etkilememiştir.

9.Ülkemizdeki yönetim birimleri büyükten küçüğe doğru sıralanışı hangi seçenekte doğru olarak verilmiştir?

- A. Türkiye, ilçe, köy, il
- B. .il, Türkiye ,ilçe, köy
- C. Türkiye, il, ilçe, köy

ADI SOYADI:.....

FEN BİLİMLERİ



1.Yiğit ve İbrahim çevreden topladığı cam, kağıt, plastik gibi çöpleri farklı kutulara atıyor.**Bu davranışın nedeni ne olabilir ?**

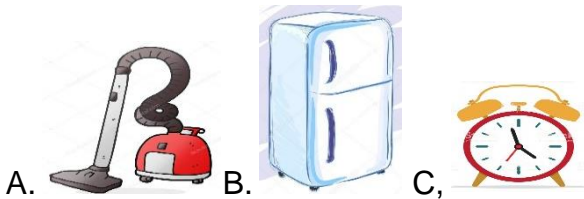
- A. Geri dönüşüm sağlayarak doğal kaynakları korumak
- B. Daha düzenli olarak aradığını kolayca bulmak
- C. çöpleri ayırarak çöp toplayıcılarına kolaylık sağlamak



2.Yukarıdaki eşyalar kullanım amaçlarına göre gruplandırıldığında hangisi açıkta kalır?

- A) 1
- B) 2
- C) 3

3. Aşağıdakilerden hangisi şehir elektriği ile çalışmaz?



- I. Tüm canlılar aynı şiddette ses çıkarırlar.
- II. Bir ses kaynağından çıkan ses her yöne yayılır.
- III. Her canlının işitebileceği ses şiddeti farklıdır.

5- Yukarıdaki ifadelerden hangileri doğrudur?

- A) I ve II
- B) II ve III
- C) I, II ve III

4.



Uzaydan Dünya gezegenine baktığımda aşağıdakilerden hangisini göremem?



- A) manto
- B) yerkabuğu
- C) atmosfer



6. Kavram haritasındaki ☆ ve □ yerine seçenektekilerden hangisi yazılabilir?

- A) yol
- B) akarsu
- C) apartman
- orman
- çay bahçesi
- gemi

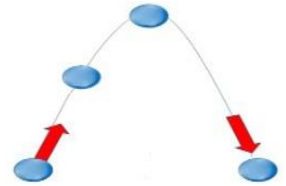
Beslenme	Hacim	Üreme
Kütle	Solunum	koşma

7.Yukarıdaki kavramlardan kaç tanesi canlı ve cansız varlıkların ortak özelliğidir?

- A.1
- B.2
- C.3

8. Aşağıdan yukarıya doğru atılan top yukarı çıkarken nasıl hareket eder?

- A) hızı aynı kalır
- B) hızlanır
- C) yavaşlar



9. Aşağıda verilen elektrikli araçların hangisinin kullanım amacı yanlış verilmiştir?

- A) Telefon → aydınlatma
- B) Tost makinesi → ısıtma
- C) Radyo – haberleşme

-Fabrika bacalarına filtre takmalıyız.
-Detarjan sularını akarsulara akıtmalıyız.
-Geri dönüşüm kutuları olmayan yerlerde çöpleri çevreye atmamız.
-Çöplerimizi çevreye değil de çöp kutularına atmamız.

10.)Yukarıdaki ifadelerin başına doğru veya yanlış olarak yazarsak sıralama nasıl olur?

- A.D
- B.D
- C.Y
- Y
- Y
- D
- D
- Y
- Y

